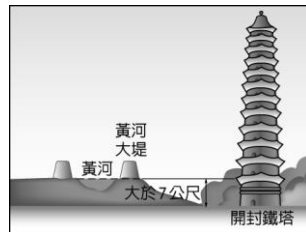


一、單一選擇題

- () 華中某地區素有「魚米之鄉」的稱號。請問：該地區的漁業生產地帶主要以哪一條流域為主？ (A)珠江 (B)長江 (C)淮河 (D)黃河。
- () 長江流域經濟地位重要，近年來中國在長江流域地區所進行的水利工程最主要為下列何者？ (A)興建堤防 (B)建防波堤 (C)排水工程 (D)三峽大壩。
- () 中國東北傳統的工業發展受該地區的區位條件影響，以下列何種產業活動為主？ (A)紡織工業 (B)食品加工業 (C)電子產業 (D)鋼鐵重工業。
- () 趙先生到中國旅遊，看到了「地上懸河」的特殊景觀，他隨手畫下了如附圖的示意圖。請問：他最可能是到何地旅遊？



- (A)長江三角洲 (B)黃土高原 (C)東北平原 (D)華北平原。

- () 中國西部地區受到自然環境影響，多以哪一種傳統生活方式為主？ (A)農耕 (B)捕魚 (C)畜牧 (D)採礦。
- () 乾燥地區的居民由原先的游牧轉為今日的放牧活動，牲畜數量不斷增加對自然環境所產生的影響為何？ (A)土地荒漠化 (B)土石流嚴重 (C)排泄物污染 (D)溫室氣體多。
- () 從外太空觀測時，地球是一個美麗的藍色星球。請問：這種現象代表了地球的何種特性？ (A)地勢高聳 (B)海域廣大 (C)植被豐富 (D)陽光強烈。
- () 目前地球上主要的氣候帶分為三區，分別為熱帶、溫帶、寒帶地區。請問：畫分這些氣候帶的主要依據為何？ (A)經度 (B)緯度 (C)坡度 (D)距海遠近。
- () 東北亞位於亞洲與太平洋的交接位置，交通地位相當重要。請問：該區域的國家不包括下列何者？ (A)北韓 (B)菲律賓 (C)日本 (D)南韓。
- () 電視劇《大長今》上映時曾掀起一股飲食風潮，泡菜、人蔘等食材大受歡迎。請根據其飲食特色加以判斷，該劇最可能呈現出哪一國的文化特色？ (A)南韓 (B)泰國 (C)美國 (D)日本。
- () 東南亞依其位置不同，主要分為下列哪兩個地形區？ (A)中南半島、朝鮮半島 (B)朝鮮半島、琉球群島 (C)中南半島、南洋群島 (D)印度半島、南

- () 印度為南亞面積最為廣大的國家。請問：該國主要的宗教信仰為下列何種宗教？ (A)佛教 (B)印度教 (C)基督教 (D)伊斯蘭教。
- () 歷史小老師在黑板上寫下《南京條約》及其續約的重要內容，可是有一處不慎寫錯了。請問：錯誤的地方為何？ (A)賠款 (B)割讓臺灣 (C)開放上海為通商口岸 (D)設立租界。
- () 哪一場戰爭的結果，使得中國受不平等條約的禍害更深，也使列強的勢力由沿海深入到內陸各地？ (A)鴉片戰爭 (B)英法聯軍 (C)甲午戰爭 (D)八國聯軍。
- () 清光緒年間，中國割讓臺灣，引起臺灣士紳反對，主張建立臺灣民主國，率眾抵抗外國勢力的入侵。此事件起因於下列哪一場戰爭的失敗？ (A)鴉片戰爭 (B)中法戰爭 (C)英法聯軍 (D)甲午戰爭。
- () 在經歷甲午戰爭之後，中國興起了陣陣改革的呼聲。請問：在此形勢下，哪場改革順勢而生？ (A)自強運動 (B)戊戌變法 (C)戊戌政變 (D)大化革新。
- () 義和團事變導致八國聯軍的慘劇，探究義和團事變的主因為何？ (A)朝野熾烈的仇外情結 (B)守舊派反對變法革新 (C)中西商務衝突 (D)對慈禧太后的反抗。
- () 雙十國慶日的由來，是祝賀在何地的起義成功，推翻滿清？ (A)武昌 (B)廣州 (C)北京 (D)南京。
- () 中華民國建立後，共和政體曾被哪兩人竄改為帝制？ (A)袁世凱、張勳 (B)康有為、梁啟超 (C)宋教仁、梁啟超 (D)黎元洪、段祺瑞。
- () 一封發給北京某報社的電報，主要內容如下：「……學生為了山東問題，向曹、章、陸等官員進行示威，部分官員受傷嚴重，政府因此傾向判處學生死刑，並解散大學。……有人認為學生只是出自愛國熱誠，並沒有別的企圖，即使有過失，也是可以原諒的。」請問：這封電報應是為下列哪一事件而發的？ [92.第一次基測] (A)五四運動 (B)西安事變 (C)文化大革命 (D)六四天安門事件。
- () 民國 16 年，中國國民黨實行「清黨」。請問：何謂「清黨」？ (A)清除黨內的軍閥勢力 (B)肅清黨內的擁護力量 (C)清除黨內的中共分子 (D)清查黨內的俄國人。
- () 民國 25 年 (西元 1936 年) 12 月，張學良主張聯共抗日而劫持蔣中正，是為哪一事件？ (A)九一八事變 (B)濟南慘案 (C)西安事變 (D)盧溝橋事變

- 。
23. () 中國現代史上，國共之間歷經了多次的內戰，最後何者因為戰事一再失利遷往臺灣？ (A) 共產黨 (B) 親民黨 (C) 民主進步黨 (D) 中國國民黨。
24. () 中國政權在何人上臺後，走向改革開放，面臨一個轉型的新局面？ (A) 毛澤東 (B) 鄧小平 (C) 江澤民 (D) 胡錦濤。
25. () 依照法律的位階由高到低排列，可分成哪三個層級？ (A) 法律、憲法、命令 (B) 法律、命令、憲法 (C) 憲法、命令、法律 (D) 憲法、法律、命令。
26. () 下列何者具有強制力，是維持社會秩序的重要工具，也是社會生活的規範？ (A) 風俗習慣 (B) 法律 (C) 宗教信仰 (D) 倫理道德。
27. () 根據我國《憲法》規定，人民的基本權利有哪些？(甲)參政權(乙)守法權(丙)自由權(丁)受益權(戊)平等權 (A) 甲乙丙丁 (B) 甲丙丁戊 (C) 甲乙丁戊 (D) 乙丙丁戊。
28. () 依照我國《憲法》規定的基本義務中，下列何者既是權利也是義務？ (A) 服兵役 (B) 納稅 (C) 受國民教育 (D) 遵守法律。
29. () 法律的種類非常多，其中與我們的日常生活關係最密切的法律是下列何者？ (A) 《刑法》 (B) 行政法規 (C) 《民法》 (D) 《憲法》。
30. () 《民法》中規範了私人間的權利義務關係，當其中有人不履行義務時，其原有的權利將受到限制或喪失。請問：他必須要負擔法律上的什麼責任？ (A) 刑事責任 (B) 民事責任 (C) 行政責任 (D) 政治責任。
31. () 依據《刑法》規定，犯罪行為的成立必須同時符合三項條件，下列相關敘述何者正確？ (A) 行為出於過失者不罰 (B) 行為具違法性均須加以制裁，無例外 (C) 行為符合《刑法》規定的犯罪構成要件 (D) 行為人必須具有行為能力。
32. () 刑罰除了處罰犯罪外，還希望達到下列何項目的？ (A) 預防及矯正犯罪 (B) 培訓模範公民 (C) 維護國家形象 (D) 展現政府公權力。
33. () 當事人約定，互相讓步，以緩和紛爭的方法，稱為什麼？ (A) 仲裁 (B) 訴訟 (C) 調解 (D) 和解。
34. () 民事訴訟必須由當事人主動提起訴訟，法院才會開始審理。訴訟進行時，有利自己的證據應由誰提出？ (A) 警察 (B) 檢察官 (C) 雙方當事人 (D) 法官。
35. () 小新惡作劇，故意將同學的椅子拉開，導致同學跌坐地上，造成大腿骨折。請問：小新已經觸犯了何種罪行？ (A) 傷害罪 (B) 殺人罪 (C) 搶奪罪 (D) 恐嚇取財罪。
36. () 為了保護兒童及少年身心能夠健全發展，政府制定何法以保障其權益？ (A)

《少年事件處理法》 (B) 《家庭暴力防治法》 (C) 《勞動基準法》 (D) 《兒童及少年福利與權益保障法》。

37. () 自由權是指人民有排除或防止國家公權力不當作為的權利。根據附圖中兩人談論的內容，顯示該國人民缺乏哪一項自由？

在我們國家發表任何批評政府的言論，可能就被盯上。



真可怕！難怪常常看到你們的藝人錄製道歉影片。




(A) 居住及遷徙自由 (B) 表現自由 (C) 秘密通訊自由 (D) 集會及結社自由。

38. () 下列四幅漫畫分別是國民政府統治時期的四個事件。依發生時間先後順序排列為何？




西安事變



九一八事變



一二八事變



盧溝橋事變

(A) 甲乙丙丁 (B) 乙丙甲丁 (C) 丙甲丁乙 (D) 丁甲丙乙。

39. () 翻開今日的中學生國文課本，會發現白話文的比例已經明顯多於文言文。請問：中國歷史上何時才開始提倡白話文學？ (A) 自強運動 (B) 君主立憲運動 (C) 新文化運動 (D) 甲午戰爭。
40. () 根據地形的作用力來判斷，下列哪一個地區發生地震的機率相對較低？ (A) 喜馬拉雅山脈 (B) 北美大平原 (C) 安地斯山脈 (D) 青藏高原。

1.(B) 2.(D) 3.(D) 4.(D) 5.(C)
6.(A) 7.(B) 8.(B) 9.(B) 10.(A)
11.(C) 12.(B) 13.(B) 14.(B) 15.(D)
16.(B) 17.(A) 18.(A) 19.(A) 20.(A)
21.(C) 22.(C) 23.(D) 24.(B) 25.(D)
26.(B) 27.(B) 28.(C) 29.(C) 30.(B)
31.(C) 32.(A) 33.(D) 34.(C) 35.(A)
36.(D) 37.(B) 38.(B) 39.(C) 40.(B)