

1. () 美國總統若要在與南方鄰國之間興建長城邊境，用以抵擋非法移民及毒品入侵美國，請問：此長城應該位於右附圖中何處？

(A)甲 (B)乙 (C)丙 (D)丁。



2. () 下表為南美洲北部三個國家首都資料，發現這些首都海拔高度都大於2000公尺，成為高地都市，與世界其他國家以沿海或平原為精華區的情形大不相同。請問造成此現象的主要原因為何？

(A)高山上空氣清新 (B)高山上交通發達
(C)沿海發展過度飽和 (D)平地大多過度濕熱或乾燥。

國家	首都	高度(m)	緯度
哥倫比亞	波哥大	2625	4° S
厄瓜多	基多	2825	0° 13" S
玻利維亞	拉巴斯	3640	16° S

3. () 費南多為智利國內著名的貿易商人，因為生意往來的需要而經常在國內不同地區的旅館投宿。下列為他的商業日誌，請問哪一個地區最可能位於智利中部？

地區	特色
(A) Arica	氣候相當乾燥，終年少見雨水，故多依賴國外進口的糧食
(B) Iquique	海面上有涼流經過，氣候現象相當穩定，終年晴朗無雲
(C) Santiago	地勢高，氣候相當涼爽，傳統農牧業活動隨高度增加而變化
(D) Coquimbo	乾濕季節分明，6 月份為當地的雨季，生長季和雨季無法配合，農業發展需要靠灌溉。

4. () 南美洲許多國家都市化程度相當高，但在巴西里約、阿根廷布宜諾斯艾利斯等城市卻可以看見高樓大廈和低矮破舊貧民窟的極端對比，和世界其他大城市的景象不同。請問造成此現象的主因為何？

(A)鄉村推力大，居民被迫湧入大都市發展 (B)大都市拉力大，吸引人口不斷增加
(C)政府都市計畫規劃不當 (D)地形崎嶇使得城市發展受限。

5. () 木伊那克澤是距離鹹海最近的城鎮。旅行指南上寫著：「假使荒涼、孤寂吸引你，那麼歡迎來到這裡。」鹹海，在一個世紀內劇烈的改變，從全球第四大內陸湖變成漁船的墳場。請問：造成鹹海劇烈改變的主要原因應為下列何者？

(A)引河水灌溉種植棉花 (B)蒸發量過於旺盛 (C)全球暖化加劇 (D)抽取地下水種植穀物。

6. () 歐盟可說是歐洲最重要的區域經濟組織，而且積極東擴，擬創造一個涵蓋巴爾幹半島、高加索山區、烏克蘭、俄羅斯、土耳其等十個國家的「□經濟圈」市場。臺灣經濟部也積極因應此一趨勢，特別辦理有關「□經濟圈開發策略與通路研討」，協助臺灣商人趕快布局取得商機。以下哪一選項最符合文中空格？ (A)環裏海 (B)環黑海 (C)環北海 (D)環地中海。

7. () 巴拿馬運河為世界上唯一的聯洋運河，其建造對某些國家而言，可以大幅縮短航運里程。請問：以下哪一條航線為考量時間成本會選擇經過此運河？

(A)美國洛杉磯→日本東京 (B)巴西里約→英國倫敦
(C)加拿大溫哥華→巴西聖保羅 (D)美國紐約→阿根廷布宜諾斯艾利斯。

8. () 下表為區域性經濟組織「南方共同市場」的資料，依你判斷該組織應該位於下列哪一個地區？

組織名稱	主要官方語言	特色	會旗
南方共同市場 (Mercosur)	西班牙語 葡萄牙語 瓜拉尼語	為世界第五大經濟體，也是排在歐盟之後第四大貿易區。 會員國含夥伴國共 10 國，人口約 3 億 6 千萬人，人均 GDP 約 7000 美金。	

(A)南亞 (B)南歐 (C)北美洲 (D)中南美洲。

9. () 全球知名的西班牙番茄節，每年都在「布尼奧爾鎮」熱鬧開戰，近兩萬人拿著大會提供的 130 噸番茄瘋狂互砸。現在西班牙所種植的番茄等蔬菜水果，大量銷往歐洲各地，更被稱為「歐洲菜園」，其蔬果的出口總值也榮登西班牙主要外銷產品之一。請問：西班牙等南歐國家農業發展優於歐洲其他各國的主

要原因應為下列何者？ (A)平原廣大 (B)暖流流經 (C)緯度較低 (D)西風吹拂。

10. () 歐盟成立後，對臺灣的出口貿易產生負面的影響，臺灣廠商應以下列何種方式因應較為妥當？

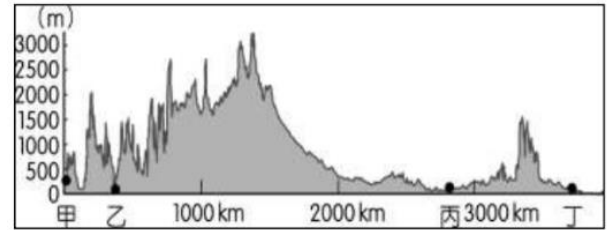
- (A)直接到歐盟區域設廠生產 (B)建議聯合國對歐盟經濟制裁
(C)放棄歐洲市場，轉投資其他地區 (D)建議政府申請加入歐盟。

11. () 白令海峽是連結北美洲和亞歐大陸的交通要道，俄羅斯計畫出巨資修建白令海峽海底隧道。打通俄羅斯至美國阿拉斯加的通路。下列為白令海峽東西兩側的比較，請問：下列何者正確？

- (A)西側為西伯利亞平原區，農業發達 (B)東側的阿拉斯加為因紐特人的主要居住地
(C)西側沿海冬溫較低主要是拉布拉多寒流經過 (D)東側為美國緯度最高的一州，第一大城溫哥華。

12. () 附圖為北緯 40 度的美國地形剖面圖，根據圖中資料判斷，下列敘述何者最正確？

- (A)甲地：開發歷史最早，是歐洲白人殖民者最早登陸地區
(B)乙地：地質古老，礦產豐富，是美國主要重工業分布地
(C)丙地：其北方受到冰蝕作用形成世界上最大的冰蝕湖群
(D)丁地：密西西比河流經，而沖積成肥沃富饒的平原地帶。



13. () 下表為北美三大天氣特徵，何者有誤？

天氣名稱	(A)原因	(B)好發季節	(C)特徵	(D)常見區域
龍捲風	冷暖氣團交會	春夏之交	強風豪雨	平原中南部
颶風	熱帶低壓侵襲	夏秋兩季	狂風暴雨	哈德孫灣
暴風雪	極地冷氣團南下	冬季	冰雪漫天	平原中北部

14. () 美國黃石公園的老忠實噴泉 (Old Faithful Geyser) 是一個著名的「間歇泉」；平均大約每75分鐘就會噴發一次，每次的噴發前後約歷時三到四分鐘。這看來既守時又忠厚的噴泉底部，其實像是一個自然形成的「壓力鍋」。請問：「老忠實噴泉」形成原因與下列何者地形的主要作用力相似？

- (A)台南的鯤鯓 (B)高雄燕巢的泥火山 (C)花蓮的太魯閣峽谷 (D)基隆的女王頭。

15. () 位於海陸交界的半島，常常在各種歷史背景、文化、種族與宗教下顯得不穩定。下表是曜維整理的全球紛爭的地區，請問表中的哪些資訊是正確的？

- (A)甲乙丙丁 (B)甲乙丙己 (C)甲乙丙戊 (D)甲乙丙戊己。

	半島位置	半島名稱	半島自然環境	紛爭原因
歐洲火藥庫	(甲)東歐	巴爾幹半島	(丁)地形平坦	(戊)宗教、民族複雜，爭奪石油
中東火藥庫	西亞	(乙)阿拉伯半島	氣候乾燥	(己)宗教、民族複雜，爭奪石油、水與領土
亞洲火藥庫	東北亞	(丙)朝鮮半島	溫帶季風氣候	以 38°N 分裂南、北，政治體制不同

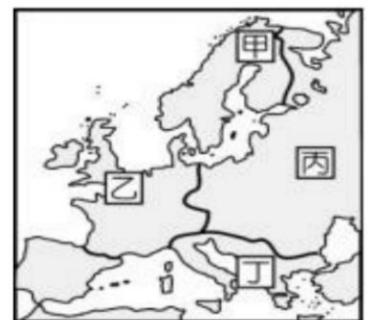
16. () 「住在安地斯山的的喀喀湖邊的印第安人，種植能耐惡劣環境的馬鈴薯。馬鈴薯採收後置於屋外，馬鈴薯內的水分因夜間低溫而結凍，日間則受高溫而溶解，如此反覆，變得又軟又爛，再經腳踏、曬乾，就變成薯乾。」下列哪句形容詞可形容此地印第安人所利用的氣候特徵，使馬鈴薯又軟又爛？

- (A)四時皆是夏，一雨變成秋 (B)一年無四季，一日見四季
(C)一山有四季，十里不同天 (D)天無三日晴，地無三里平，人無三兩銀。

17. () 下表為右圖歐洲四個地區的氣候類型比較，哪一地區的敘述完全正確？

- (A)甲 (B)乙 (C)丙 (D)丁。

地區	氣候類型	年溫差(四區相比)	氣候特徵	國家代表
甲	寒帶氣候	大	全年低溫多雨	芬蘭
乙	溫帶地中海型氣候	小	夏乾冬雨	德國
丙	溫帶大陸性氣候	大	夏雨冬乾	波蘭
丁	高地氣候	小	呈垂直變化	義大利




18. () 有學者認為1543年哥白尼《天體運行論》的出版象徵了一個新時代的開始，請問：持此看法的主要依據為何？

- (A)此書證實了伽利略的「太陽中心說」 (B)此書揭開了宗教改革的序幕

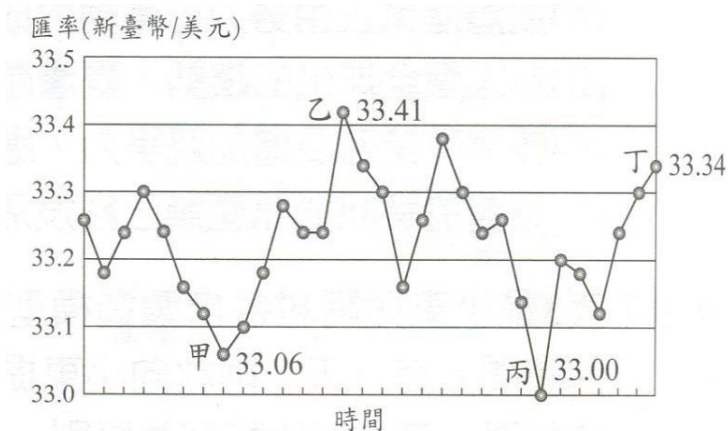
(C)此書挑戰基督教會的神學理論 (D)此書捍衛了天主教會的傳統神學。

19. () 共產主義思想家恩格斯，曾針對 19 世紀初期召開的某次會議說過：「帝王們分配贓物和獎金，商量能將革命前的形勢恢復到何種程度，民族被買進和賣出、分割和合併，只為符合統治者的利益。」請問：恩格斯所批判的會議為何？
(A)維也納會議 (B)巴黎和會 (C)三級會議 (D)大陸會議。
20. () 下列哪一句話最能說明美國獨立革命前夕的情景與革命發生的導火線？
(A)黑人的命也是命 (B)三權分立的必要性 (C)無代表，不納稅 (D)革命無罪，造反有理。
21. () 「要讓一個國家從野蠻走向富足，需要的只是和平、適度的稅收和完善的司法制度，其他的一切都會在自然趨勢下循序漸進，政府應該採取自由放任政策。」請問：這種言論可以在以下哪本書中看到？
(A)馬克思的《資本論》 (B)孟德斯鳩的《貨幣論》
(C)伏爾泰的《風俗論》 (D)亞當斯密的《國富論》。
22. () 右圖是 1855 年的時事插畫，標題是「法拉第給泰晤士 (Thames) 爸爸一張卡片」，描繪有電學之父稱號的法拉第 (Michael Faraday) 捏著鼻向泰晤士之父遞上一張白卡紙。依圖中的內容，它最有可能是想要呈現或描述何事？
(A)自由經濟的弊端 (B)工業社會的污染
(C)君主立憲的危機 (D)理性主義的狂妄。
23. () 十八世紀是理性主義發達的時代，當時的人們相信，理性的法則不僅可用於自然界，亦可用於人類的政治與社會發展。請問：下列哪一項敘述符合此一時期人們的看法？
(A)上帝創造了宇宙，祂制定了一切運作的規則，主導整個宇宙的運行
(B)被壓制在內心而無法察覺到的潛意識，是主導人類行為的重要力量
(C)人類擁有上天賦予的基本權利，任何統治者或政權都不得任意剝奪
(D)尊崇人文主義，全盤否定各種宗教儀式與迷信，尤其是天主教教規。
24. () 「經我這三、四十年的艱苦奮鬥，已經把法國大革命的新思想，播種在法國各地，並且隨著我的南征北討，而移植到全歐洲。」這是一個法國人在南大西洋的小島上，所寫下的遺囑。請問：這位法國人與「新思想」分別是：
(A)拿破崙—自由、平等、博愛 (B)盧梭—民有、民治、民享
(C)伏爾泰—民族、民權、民生 (D)羅伯斯比爾—生命、自由、財產。
25. () 伏爾泰曾評論某國的政治，說：「這個國家的人民曾抵抗過其君主，遂使君王的權力受到節制。他們建立了一個明智的政體，使其君主有能力做好事，而無法作惡事；其貴族很有勢力，但不仗勢凌人；其平民能夠參與政治，卻未導致混亂。」請問：伏爾泰所談論的這個國家應是：
(A)17 世紀的法國 (B)17 世紀的美國 (C)18 世紀的俄國 (D)18 世紀的英國。
26. () 伏爾泰談到「誰是最偉大的人」時說：「真正偉大的人不是凱撒、亞歷山大，這個人必須獲得上天賦予的天分，並以此照亮人們的心智。政治與軍事家奴役生靈，這個人則以真理的力量引領我們的心；他瞭解宇宙，而不是摧毀宇宙。」請問：伏爾泰所推崇的應是下列何人？
(A)牛頓 (B)華盛頓 (C)梅特涅 (D)克倫威爾。
27. () 「這個國家的稅收分成直接稅和間接稅兩大類，教士和貴族不用繳納直接稅，…教士和貴族的人口只占總人口的 2%，卻擁有全國五分之一的土地……。莊園的主人擁有磨坊、烤房和壓酒機，農民為使用這些設備，要付出一筆稱為『雜項』的捐獻，……這一切都使人民憤恨不平。……財政困難的另一原因是國家支出過鉅，赤字年年增加，這與政府參加一連串的對外戰爭有關……」請問：文中所描述的景況最終引爆那一場衝突？
(A)美國獨立戰爭 (B)法國大革命 (C)法國七月革命 (D)英國清教徒革命。
28. () 有一位外籍學生在課堂上說：「我們的祖先，曾經參與了新航路的探險，在臺灣建立貿易據點，亦在英國邁向民主時，簽署一份重要文件，更曾協助美國，打贏獨立戰爭。」試問，這個學生可能是下列哪一個國家的人？ (A)葡萄牙 (B)西班牙 (C)法國 (D)荷蘭。
29. () 老師在課堂上介紹西歐某一時期時提到：「當時君主積極發展工商業，力求增加稅收；並改革法律制度，興辦教育事業，以提高行政效率及國民素質，其以專斷、合理的形式展現其權力，並以人民的利益為標準。」上文所提到的君主的作為，可以何人為代表？



(A)法國路易十四 (B)英國查理一世 (C)英國詹姆士二世 (D)普魯士腓特烈二世。

30. () 1860 年代，某位人物發表宣言，暢談「自由理想」：「87 年前，我們的先祖們帶給這塊大陸一個新的國家，誕生於自由，並堅信人生而平等的原則。現在，我們正陷入一場大的內戰，試煉著這個國家，或任何這樣誕生、具這種信念的國家，是否能夠長存。…在這裡，我們活著的人將致力完成在此戰鬥者未竟的志業。……在這裡，我們保證，將不會讓這些戰死者平白犧牲——在上帝見證下，這個國家將會有自由的新生…。」請問：文中所提到的「內戰」是指哪一場戰役？
(A)英國 清教徒革命 (B)美國 南北戰爭 (C)法國 二月革命 (D)法國 拿破崙戰爭。
31. () 上課時，老師要求同學撰寫學期報告，報告的內容必須能完全涵蓋西元 1815—1848 年的世界大事，並要求同學自訂題目且詳加論述。下面是四位同學的報告題目，請問：何者最符合老師的要求？
(A)小黑：《王權的勃興—百年戰爭期間的英國與法國》
(B)小白：《歐洲的均勢—論梅特涅體系之建立與崩潰》
(C)小綠：《大國的崛起—從獨立建國到憲政危機解決》
(D)小藍：《政治與產業的鉅變—近代西方文化的形成》。
32. () 某位哲學家說：「暴力不能產生合法的權力，暴力也不能產生義務。任何人都沒有被賦予任何自然權力以統治他的同類，那麼剩下的，就只能用契約作為一切合法權力的基礎。」請問：此一思想對下列何事的發生造成重大影響？
(A)《權利法案》的頒布 (B)社會主義的出現 (C)《人權宣言》的起草 (D)《大憲章》的簽署。
33. () 「我們共產主義並不剝奪任何人占有社會產品的權力，它只剝奪利用這種占有，去奴役他人勞動的權力…共產黨人可以把自已的理論概括為一句話：消滅私有制。」請問：上述理論出現的時代背景為何？
(A)海外探險後，殖民地的資源分配 (B)啟蒙運動後，思考財富合理分配
(C)工業革命後，各種社會弊病橫生 (D)法國大革命前夕，貧富差距擴大。
34. () 十七世紀，有兩個國家同時經歷專制統治：甲國在經歷政權更迭與動亂後，君權逐漸受到壓抑；乙國則不斷大興土木，並發動對外戰爭，君權達到極盛。請問：甲、乙兩國分別為何？
(A)法國、普魯士 (B)美國、英國 (C)普魯士、俄國 (D)英國、法國。
35. () 劉基在〈趙人患鼠〉文中寫道：「趙人患鼠，乞貓於中山。中山人予之貓，善捕鼠及雞。月餘，鼠盡而 其雞亦盡。」此文透過趙人對養貓與否的利弊分析，說明兩害相權取其輕的道理。請問：這句話所隱含的經濟學概念與下列何句所隱含的概念相同？
(A)清領初期的臺灣以農業產品和中國交換日常用品
(B)韓劇風潮帶動南韓觀光、食品、服飾產業的發展
(C)為抑制吸煙人口，政府立法通過提高菸品健康福利捐
(D)我國政府為縮短貧富差距，實現社會正義，針對高所得課徵較高稅額。
36. () 若子欣想利用匯率的變化進行理財來賺取新台幣的匯差。若不考慮買賣時銀行的手續費，請問：下列四種狀況何者會讓子欣獲利最多新台幣？
(A)甲點買進美金，丁點賣出 (B)乙點買進美金，甲點賣出
(C)乙點買進美金，丙點賣出 (D)丙點買進美金，丁點賣出。



37. () Google 三度登上「全美百大最佳職場」的榜首，這主要歸功於 Google 完善的員工福利，除了有免費洗衣、洗車服務外，更有專屬廚師幫員工烹調午、晚餐。上述 Google 的作為主要表現出何種精神？
(A)展現企業的風險管理 (B)提高企業的投資報酬

(C)凸顯企業的環保精神 (D)落實企業的社會責任。

38. () 瓔珞和如懿一起被派去編織毛衣和毛帽，依比較利益法則進行分工，如懿被分配去編織毛衣，下表是她們每一天所能製作數量的部分數據，根據內容判斷，下列敘述何者正確？
- (A)如懿在編織毛帽上具有比較利益 (B)瓔珞在編織毛帽上具有絕對利益
(C)如懿在編織毛帽上具有絕對利益 (D)瓔珞在編織毛帽上的機會成本較高。

	瓔珞	如懿
毛衣	4	2
毛帽	*	*

39. () 阿嬤聽說投資房地產的獲利很高，就拿出畢生所有的積蓄購買了幾間學區的小套房，準備當包租婆，但沒想到在少子化的衝擊下，大學招生不足，也連帶使得小套房的出租率不高；況且在政府的打房政策下，就算要賣房子也談不到好價錢，使阿嬤很苦惱。請問，阿嬤的投資忽略了什麼理財原則？
- (A)受益原則 (B)比較利益法則 (C)分散風險原則 (D)負擔能力原則。
40. () 右表為阿枝與阿哲在30分鐘內製作漢堡和三明治的機會成本表，其中兩個數據(以甲、乙標示)因為不小心沾到果汁而糊掉了。在不考量其他因素的前提下，依據分工理論，依機會成本表判斷，甲、乙依序應填入下列何者？

項目	漢堡	三明治
阿枝	3/4 個三明治	甲
阿哲	乙	2 個漢堡

- (A) 1/2 個漢堡、4/3 個三明治
(B) 1/2 個三明治、4/3 個漢堡
(C) 4/3 個漢堡、1/2 個三明治
(D) 4/3 個三明治、1/2 個漢堡。
41. () 承上題，根據上述資料判斷，兩人在做漢堡和三明治上的絕對利益和比較利益應為下列何者？
- (A) 漢堡：阿枝具絕對利益和比較利益 (B) 漢堡：阿枝具絕對利益，阿哲具比較利益
(C) 三明治：阿哲具絕對利益和比較利益 (D) 三明治：阿枝具絕對利益，阿哲具比較利益。
42. () 下文是雜誌的相關報導，請為報導訂一個最合適的主題：

一、德國首間無包裝超市於柏林開幕，顧客無論買咖啡豆、啤酒、洗髮精及麵粉等，都請自備容器，商品秤重計價，顧客依自己的需求購買所需的份量，不會浪費，也可減少包裝所帶來的垃圾。

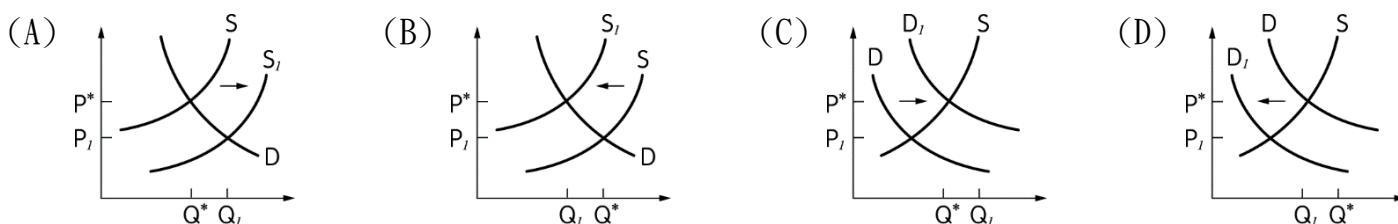
二、英國第二大連鎖超市，利用原本將成為垃圾的下架食品來發電，100%供應店內用電。

(A)企業獲利的要訣 (B)消費權益的落實 (C)食品安全的重要 (D)綠色經濟的趨勢。

43. () 附圖為阿嘉 2019 年 12 月的財務紀錄。根據圖中資料判斷，阿嘉該月的投資報酬率，可透過下列哪兩項紀錄內容得知？
- (A)甲、丙
(B)乙、丙
(C)丙、丁
(D)乙、丁。

2019 年 12 月財務紀錄：
甲、月初時共有現金 40 萬
乙、拿出 25 萬元現金進行投資
丙、投資結果共獲利 5 萬元
丁、現金因獲利增加為 45 萬元

44. () 面對十年來日益高漲的房價，已成民怨之首，政府推出一連串的打房政策，例如，「房地合一」課稅的政策，使得房市買氣蒙上陰影，交易量明顯萎縮，許多專家甚至還看壞未來的房地產市場。請問：若臺灣房市原本的供給曲線為S、需求曲線為D，上文中畫線的部份，適合以下列哪一個圖示來說明其變動？



45. () 幸福工廠採取輪流排班的方式生產零嘴，每班次老闆只安排兩名員工，且每人只負責生產一種產品，並

依比較利益原理分工，下表是該廠四位員工每小時製作蒜片青豆和麻辣花生的產量，某位員工表示不管自己和誰搭配，都會是製作「蒜片青豆」，則依上述的排班原則判斷，該員工應是下列何者？

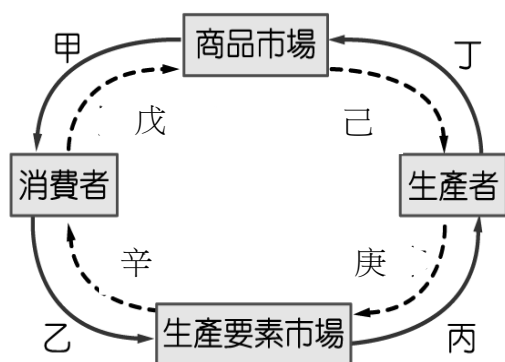
- (A) 正男
(B) 小葵
(C) 風間
(D) 小新。

產品 員工	蒜片青豆(包)	麻辣花生(包)
正男	10	5
小葵	5	5
風間	20	15
小新	10	15

46. () 2021年元旦起, 政府調漲基本工資, 月薪由現行新台幣2 萬 3800元調漲至 2 萬 4000 元; 時薪由現行 158 元調升至160元。請問: 下列有關政府調漲基本工資政策之敘述, 何者正確?

- (A) 由看得見的手所操控 (B) 上述政府政策屬於市場經濟制度範疇
(C) 國際黃金價格的變動與其屬於相同經濟制度 (D) 屬於價格機能控制市場的數量及價格。

下圖為經濟活動循環圖，請回答47-48題



47. () 近年交通部推動多元化計程車方案，號稱台版Uber，車身顏色放寬，除了一般計程車用的黃色禁用，以做區隔外，業者可自選顏色，車資費率也放寬，但業者不得在路上攬客，得透過APP預約叫車，並採用電子支付方式付費。目前高雄市已有多家業者上路，依據高雄市政府規劃，多元化計程車收費下限不得低於現行市內計程車運價，上限則不得高於2倍。喬克加入多元化計程車業者行列，(I)購買了一輛小自客車，(II)提供線上預約叫車的服務，請問：(I)、(II)畫雙底線敘述是分別屬於「經濟活動循環圖」中的哪一項？

- (A) 甲、乙 (B) 甲、丙 (C) 乙、丁 (D) 丙、丁。

48. () 零售業正吹起一股無人商店熱潮！繼先前7-ELEVEN 在統一超商總部大樓測試無人商店「X-STORE」後，量販業者也宣布跟進，家樂福選在台北天母店正式啟用「自助結帳機台」，讓少量購物的客人能有效縮減排隊結帳時間。業者表示：自助結帳可有效提升消費者的消費意願，也降低了業者的負擔。請問：根據上述業者的說法，屬於經濟活動循環簡圖的哪些部分？

- (A) 戊庚 (B) 庚辛 (C) 己辛 (D) 戊己。

依下文敘述回答 49-50 題

一位國內大型匯銀交易員談到：『新台幣已連升七個交易日，氣勢凌厲，台幣已升破28元了耶！匯市一開盤，拋美元，這就對了！』一位主管機關行員則無奈的說：『台幣升，A 罵；台幣貶，B罵。』

49. () 根據上文，有關台幣兌換美元是升值或貶值，取決於何種因素？

- (A) 政府決定 (B) 比較利益 (C) 供需原理 (D) 受益原則。

50. () 承上題，『台幣升，A 罵；台幣貶，B 罵』。A、B 分別是？

- (A) 出口商、進口商 (B) 進口商、進口商 (C) 進口商、出口商 (D) 出口商、出口商。

答案：

01. ADDAA

06. BCDCA

11. BCDBB

16. BCCAC

21. DBCAD

26. ABDDB

31. BCCDA

36. ADBCC

41. BDBDA

46. ADACA