

國立南科國際實驗高級中學 109 學年度第 2 學期九年級社會科補考

九年 班 號 姓名：

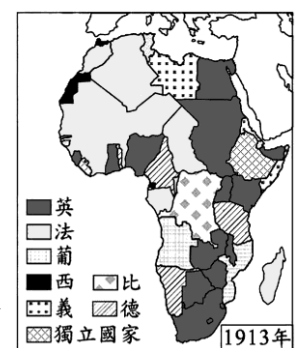
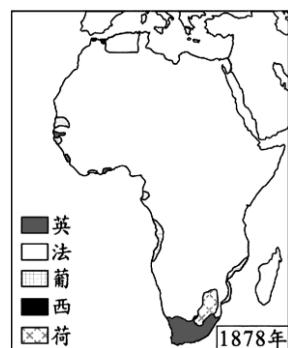
- () 歷史課本編纂課文時，將 19 世紀拉丁美洲、巴爾幹半島、日耳曼地區的獨立或統一運動擺放在同一個章節裡討論，最關鍵的共通點為何？
(A)賢君名相輩出 (B)民族主義昂揚 (C)戰略位置重要 (D)經濟資源豐富。
- () 「日耳曼地區各邦林立，關卡龐雜，三十八道的過境稅線使國內的往來陷於癱瘓…在漢堡與奧地利進行交易，在柏林與瑞士從事貿易，要經過十個國家，支付十次強迫徵收的稅。」請問：上述情況因下列那一件事而獲得改善？
(A)維也納會議的召開 (B)關稅同盟的組成
(C)日耳曼邦聯的建立 (D)國際聯盟的成立。
- () 右圖呈現日本對外的關係轉變情況，此轉變情況可能說明下列何者？
(A)大化革新的推動 (B)幕府政治的告終
(C)鎖國時期的結束 (D)中日戰爭的爆發。
- () 國際知名導演史蒂芬·史匹柏即將開拍一部有關印度「聖雄」的史詩鉅片，片中將描寫他如何透過和平抵抗運動將印度從殖民者手中解放出來，以及他如何致力於讓印度教徒與穆斯林和平共處。為了讓電影有更多的曝光率，片商決定為此片取一個創意滿分的中文片名。請問：下列哪一個選項最適合呢？
- () 右表呈現某帝國的形勢演變，此帝國最可能是下列何者？
(A)鄂圖曼土耳其帝國 (B)拜占庭帝國
(C)德意志帝國 (D)奧匈帝國。
- () 「同胞們，想想我們上古時代建立的輝煌帝國；即便是黑暗時代中古時期，我們有著主宰基督教精神的教宗；更別忘了，近代文藝復興是從我們這裡開始！如今我們被譏笑只不過是個地理名詞，試問這口氣誰嚥得下去？」上述鼓吹當地統一的話語，應出自下列哪一地區？
(A)拉丁美洲 (B)巴爾幹地區 (C)義大利半島 (D)日耳曼地區。
- () 作文課時老師稱讚章魚哥是「文學界的畢卡索」，依此判斷，章魚哥的作文最可能具有下列哪一文學風格？
(A)文筆淺白，老嫗可解 (B)題材創新，顛覆傳統 (C)情感豐富，深刻動人 (D)立論寫實，言簡意賅。
- () 關於歷史人物與其主張，下列配對何者正確？
(A)加里波底—「武力是取得外交和政治的基石，若要解決當前問題，只有鐵和血。」
(B)克里蒙梭—「我願意率領紅衫軍與敵人作戰，並將所有取得的土地奉獻給國王。」
(C)愛因斯坦—「為什麼蘋果總會垂直地落在地上，為什麼就不能走側面或者向上升？」
(D)佛洛伊德—「夢是潛意識的活動，是一種在現實中無法實現和受壓抑的願望的滿足」
- () 奇美博物館準備舉辦「19-20世紀西洋繪畫特展」，請問：下列哪一項作品不應該陳列於此展覽中？
(A)莫內—印象·日出 (B)達文西—最後的晚餐 (C)米勒—拾穗 (D)畢卡索—亞維儂姑娘。
- () 金胖胖參加海外遊學團，歡迎會上同學輪流介紹自己的國家，請問：下列哪位同學的介紹符合歷史事實？
(A)法國加樂福：「我國雖在普法戰爭中敗給鄰國，喪權辱國，但一次大戰後也成功地向他們討回公道。」
(B)美國郝事多：「我國愛好和平，不僅幫助協約國取得一戰的勝利，更積極參與國際聯盟，捍衛正義。」
(C)日本哇沙米：「我國曾是歐美列強侵略的對象，幸好幕府大將軍厲行西化，才能脫亞入歐擺脫困境。」
(D)俄國免斯基：「我國在第一次世界大戰中堅定地領導斯拉夫小兄弟作戰，直到日耳曼民族戰敗為止。」
- () 有位外交官參加一次國際會議，原本期望大會能對戰費、領土等議題作出公正明智的處置，但會中的決議卻令他失望。他表示：許多代表運用詭辯來掩飾他們的報復行為；強索巨額賠款；又屈從於強權，不能公正處理領土問題。這位外交官批評的是：
(A)維也納會議中，戰勝國對拿破崙的安排 (B)八國聯軍結束後，列強對清政府的要求
(C)巴黎和會中，協約國對德奧等國的處置 (D)雅爾達會議中，英美對中國權益的處理。
- () 附圖(一)、附圖(二)是施木魚在書上看到的插圖，這二幅圖的變化最能說明下列何者在非洲的發展？
(A)民族自決 (B)區域統合 (C)關稅壁壘 (D)帝國主義。

在所有國家中，僅中、荷兩國船隻可以停泊長崎，並於此地貿易。



允許美國船停泊函館、下田兩港，以便補給柴薪、飲水、食物、煤以及其他需用物品，且可在這兩地交易。

時間	形勢演變
13世紀	興起於安納托利亞高原
16世紀	掌控巴爾幹半島，邁向全盛時期
19世紀	因俄、英、法的侵略而更加衰弱
20世紀	第一次世界大戰戰敗，帝國瓦解



附圖(一)

附圖(二)

國立南科國際實驗高級中學 109 學年度第 2 學期九年級社會科補考


九年 班 號 姓名：

閱讀下文，並回答題目第13-14題：

COVID-19 (2019冠狀病毒)在中國爆發後，各國政府無不戒慎恐懼，制定各項防疫政策，期望能在最短時間內控制住疫情。回顧世界防疫史，一百多年前曾有過「西班牙流感」疫情，此疫情發生在1918~1920年底，期間造成全球約5億人口感染，5000萬到1億人口死亡，奪走的人命比當時已持續數年的戰爭還多，故各國都沒有多餘的兵力投入作戰，也因此間接成為戰爭提早結束的原因之一。

戰爭、疫情告一段落後，自1920年代開始，多國政府對流感的認知體現在公共衛生的變革中，紛紛成立或重組衛生部，建立更先進的疾病監視系統，健全國民衛生保健及醫療體系。

13. () 根據上文所述，當時的疫情間接造成下列哪一場戰爭提早結束？
(A)德義統一戰爭 (B)巴爾幹獨立戰爭 (C)第一次世界大戰 (D)第二次世界大戰。
14. () 上述疫情結束後，當時哪一個國際組織可能呼籲各國加強公共衛生體系？
(A)關稅同盟 (B)國際聯盟 (C)歐洲聯盟 (D)聯合國。
15. () 新冠肺炎從一國疫情擴散到變成全世界共同抗疫防疫的緊急事態，可用下列哪一個概念來說明此現象？
(A)單一化 (B)工業化 (C)都市化 (D)全球化。
16. () 承上題，世界各國認為台灣是防疫的模範，紛紛表示台灣在此一國際體系中缺席，已形成全球防疫體系的重大漏洞，支持台灣加入某一國際組織，請問：此組織應為下列何者？



17. () 日本一位教授與軟體公司研發一套名為「不要複製貼上」的軟體，它可以用來檢查學生以電腦文書軟體所繳交的作業，是否和網路上的文章雷同，甚至它還可以計算這篇文章，抄襲的比例占多少。請問：這項軟體的研發主要目的應該為下列何者？
(A)保障個人隱私權 (B)保障智慧財產權 (C)防止網路駭客入侵 (D)監督傳播媒體的內涵。
18. () 甲補習班於報紙廣告中宣稱「本班學測英文科滿級分人數，大幅超越本縣其他乙、丙、丁補習班的總和」。但因其所述並非事實，引發其他補習班不滿。請問：其他補習班可如何主張甲補習班的行為違法？
(A)不實廣告影響學生權益，違反《消費者保護法》 (B)不實廣告將影響交易秩序，違反《公平交易法》
(C)擅自用乙、丙、丁補習班名號，違反《商標法》 (D)因不實招生廣告缺乏原創性，違反《著作權法》
19. () 近日，杰倫發現節目「中國新聲音」中，在每個唱歌的學員開始表演前，都會拿著 OPPOR 手機拍攝一段介紹自己的短片，主持人也會叫大家用 OPPOR 手機下載 APP 進行喜愛選手的投票，與同學討論後，發現其實很多節目出現的產品都是由廠商贊助，希望透過節目達到行銷的目的，因此，作為閱聽人應注意題目的引導效果。根據上述判斷，下列何者可能是他們討論的概念？
(A)了解大眾文化的發展 (B)分辨不實廣告的資訊 (C)認識自我實現的意義 (D)解讀媒體隱含的價值。
20. () 報載：我國「免費」影音到處可看，讓擁有正版的 OTT (線上影音服務) 業者或內容頻道業者損失慘重，因此 OTT 串流影音業者在國家通訊傳播委員會 (NCC) 委員面前要求「拿出辦法抓盜版」。上述業者的訴求是在捍衛《憲法》所保障的哪一項基本權利？
(A)平等權 (B)自由權 (C)受益權 (D)參政權。
21. () 甲依規定上傳碩士學位論文到指定的網站後，被人檢舉部分章節大幅抄襲乙的碩士學位論文，甲除可能被學校撤銷學位外，尚可能須負擔何種法律責任？
(A)侵害社會秩序的行政責任 (B)侵害乙論文的表現自由權
(C)侵害乙著作財產權的損害賠償 (D)侵害乙名譽與人格權的損害賠償。
22. () 「PeoPo 公民新聞」是公共電視文化事業基金會所成立的台灣第一個公民自主影音新聞平台，「PeoPo」是英文「people post」的縮寫，強調每個人都有發聲的權利。開台時的口號為「你的小故事，我的大新聞」，希望公民、閱聽大眾能夠分享自己的專業領域與知識。請問：「PeoPo 公民新聞平台」可促使以下哪一種概念展現？
(A)媒體自律 (B)媒體監督 (C)媒體識讀 (D)媒體接近使用。
23. () 下列是小惠的報告：「……根據一項訪問逃離北韓人士的研究調查，顯示北韓存在著包括人體實驗或拷打致死等許多不人道的現象。另外，51%的逃離北韓人士回答，曾經目睹過公開處決。……本於廢除非人道的懲罰、終止非法處決之宗旨，我們呼籲北韓應停止這些行為……」根據內容判斷，報告中的「我們」是指下列哪一個國際組織？
(A)國際特赦組織 (B)國際刑警組織 (C)國際原子能總署 (D)聯合國安理會。

國立南科國際實驗高級中學 109 學年度第 2 學期九年級社會科補考

九年 班 號 姓名：

24. () 廠商將想曝光的產品或訊息放在電影、戲劇等媒體上，讓觀眾在觀看時，無聲無息將產品訊息放入腦中，增加印象的方式稱為置入性行銷。這樣的方式在國外已經行之有年，而臺灣也在近幾年逐步開放，對電視產業造成極大改變。關於上文，下列敘述何者正確？
 (A) 置入性行銷的行為侵犯了閱聽人的媒體近用權
 (B) 對於直接鼓勵購買商品的置入性行銷，民眾可依法提起訴願
 (C) 置入性行銷對觀眾有益處，可讓媒體發揮第四權報導重要訊息
 (D) 政府機關若進行施政績效的置入性行銷，將使民眾喪失對政府績效的判斷力。
25. () 傑夫在網站上看到一篇文章，主旨為「世界的領導人：您有在解決氣候危機嗎？」內文說明摘錄如下：「五年多前，世界各國的領袖在法國巴黎創造歷史，全球 197 國共同簽訂《巴黎協定》，決議致力減碳，將地球升溫控制在攝氏 2 度以內，並以限縮在 1.5 度以內為目標。然而時間快轉到 2021 年初的今天，全球暖化仍在加劇，極端氣候的危機步步逼近。打開新聞，除了席捲全球的疫情，我們看到的是延燒不盡的森林大火、融化柏油路的高溫，和讓上萬人流離失所的颶風與洪災。氣候危機衝擊的不只是弱勢的社群，還有珍貴的生物多樣性，將生態系統推向崩潰的邊緣。請問：這篇文章最有可能出自下列哪一組織的網站？
 (A) 國際世界展望會 (B) 國際綠色和平組織 (C) 聯合國教科文組織 (D) 亞太經濟合作會議。
26. () 臺灣南部某天主教教堂，黃牆綠瓦、紅柱青窗，呈現典型的東方風格。教堂內的祭臺前設有香爐，用以敬天祭祖。祭臺後的聖龕擺設聖母圖，並書有「天上聖母」橫匾。下列哪個概念最適合用來解釋該天主堂的建築特色？
 (A) 國際交流 (B) 區域專業化 (C) 全球文化在地化 (D) 強勢文化的擴展。
27. () 從旅遊、零售到金融，人臉辨識科技在中國已被廣泛運用於民生與商業活動，如今連警察也配戴起類似 Google 眼鏡具有人臉辨識功能的智慧型眼鏡，並成功在今年春運期間逮捕多名通緝犯以及冒用假身分者。隨著中國朝人工智慧領先大國邁進，有人權團體指出，人臉辨識科技倘若遭當局濫用，會造成嚴重的問題。請問：上述情形說明科技帶來的哪一項隱憂？
 (A) 對民眾隱私造成威脅 (B) 資訊氾濫，內容真偽難辨
 (C) 媒體接近使用權遭到濫用 (D) 網路犯罪成為新興社會問題。
28. () 小美擔任節目主持人，預計前往非洲進行外景拍攝，此次是要觀察火山、斷層地形。她應該到非洲哪個地形區才能如願達成目的？
 (A) 剛果盆地 (B) 撒哈拉盆地 (C) 東非高原 (D) 尼羅河三角洲。
29. () 剛果民主共和國是非洲撒哈拉沙漠以南最大的國家，無論是鑽石、黃金、鈷、銅、錫還是鈹，任何你想得到的礦產這裡都有，天然資源價值高達數億美元。剛果東部由反叛軍控制的礦區，正是全球最大的電子及珠寶產業原料提供區，而已開發國家購買礦物原料的行為間接地資助了當地的武裝勢力，使得剛果內戰不斷，成為全世界最貧窮的國家之一。為了高額利潤，叛軍大量剝削剛果礦工，當地的孩童往往自 5 歲開始就必須前往缺乏安全措施的礦區工作。剛果東部的礦場之所以炙手可熱，是因為當地盛產鑽石、黃金、鈹、錫和鎢，這些物質在手機、電腦和相機等電子產品中應用廣泛，只要已開發國家購買這些礦物，便持續間接地資助當地的武裝勢力，剛果的內戰也將永不停歇。剛果民主共和國境內礦藏豐富的主要因素為下列何者？
 (A) 地質古老 (B) 氣候乾燥 (C) 面積廣大 (D) 風成作用。
30. () 非洲擁有多樣傳統的維生方式，下表是 4 個民族的生活樣貌，哪一個為「溼潤地區的漁獵、游耕」生活方式？
 (A) 布希曼人 (B) 匹美人 (C) 閃族 (D) 圖西族。
31. () 16 世紀的大航海時代以來，非洲多數地區成為歐洲國家的殖民地，在當地形成「掠奪物資，單一產品，技術偏低，配合母國」的殖民地式經濟，直到 21 世紀仍使多數非洲國家的經濟維持在較低水準。請問：下列哪一項經濟活動符合「殖民地式經濟」？
 (A) 從事證券交易的南非證券交易所
 (B) 種植咖啡豆的肯亞農場
 (C) 提煉汽油的奈及利亞石化工廠
 (D) 載運通勤民眾的衣索比亞鐵路公司。
32. () 右表是我國 2019 年的外交邦交國，依所在的大洲區分為 4 項，其中哪個項目為位在「大洋洲」的邦交國？
 (A) 甲 (B) 乙 (C) 丙 (D) 丁。

※納米比亞的布希曼人：

婦女撿拾鴉鳥蛋；成年男子製作大型陷阱與狩獵動物

※中非的匹美人：

在河川捕撈魚類，焚林整地用於種植作物，地力耗盡後遷移他處

※突尼西亞的閃族：

在綠洲種植棗椰，採集果實作為食物

※盧安達的圖西族人：

種植玉米、馬鈴薯，養殖牛與豬等家禽

(甲)	(乙)	(丙)	(丁)
史瓦帝尼 (史瓦濟蘭)	教廷 (梵蒂岡)	貝里斯、瓜地馬拉、 海地、宏都拉斯、 尼加拉瓜、巴拉圭、 聖克裡斯多福、 聖露西亞、聖文森	吉里巴斯、 馬紹爾群島、 諾魯、帛琉、 索羅門群島、 吐瓦魯

國立南科國際實驗高級中學 109 學年度第 2 學期九年級社會科補考

九年 班 號 姓名：

33. () 右圖為大洋洲的簡圖，其中甲、乙、丙分別代表大洋洲三大群島，而 A、B 分別代表經度 180 度線及赤道。請問下列何項敘述『正確』？

- (A) 丙群島的夏威夷是美國領土，火山地形發達
- (B) 甲群島的吐瓦魯因是火山島，面臨被海水淹沒的危機
- (C) 紐西蘭屬於乙群島
- (D) 距離台灣最近的是乙群島。



34. () 澳洲與非洲具有許多的共同點，請問下列何者『不』屬於其共同特色？

- (A) 兩者地形皆以高原為主體屬古老陸塊
- (B) 歷史上皆有被歐洲國家殖民過
- (C) 兩者皆有赤道通過橫跨南北半球
- (D) 東南沿海地區接受東南信風調節而溫暖潮濕。

35. () 紐西蘭的北島和南島分別擁有壯麗與多樣的地形，不僅為熱門電影《魔戒》的拍攝地點，也為紐西蘭帶來觀光熱潮。請問電影《魔戒》中拯救「中土世界」的方法是將魔戒丟入「末日火山」的岩漿中，該外景選在紐西蘭最高的活火山拍攝。請問：要造訪這個外景現場應到右圖中的哪一個位置？



- (A) 甲 (B) 乙 (C) 丙 (D) 丁。

36. () 承上題，電影劇組在該國拍攝時，由於投資金額相當龐大，因此最好投保何種天災險，以避免造成巨大的損失？

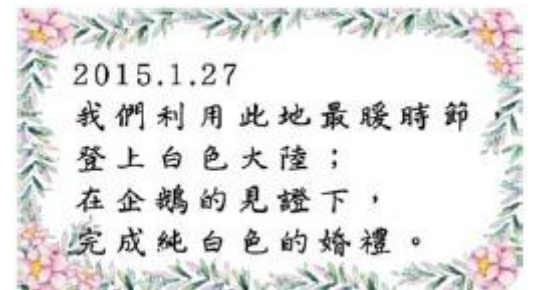
- (A) 地震險 (B) 颱風險 (C) 乾旱險 (D) 熱浪險。

37. () 俄羅斯向聯合國提交了擴大北極邊界的申請修正案，要求近 120 萬平方公里的北極海床納入俄羅斯管轄範圍，有利於當地油氣資源的開採，此舉勢必引發位於北極海周邊國家的抗議。請問上述提出抗議的周邊國家應不包括下列何者？

- (A) 美國 (B) 加拿大 (C) 挪威 (D) 智利。

38. () 右圖為某位新娘的婚禮手札，依資料內容判斷，此場婚禮應該是在哪個地方舉辦？

- (A) 南極 (B) 夏威夷 (C) 北極 (D) 紐西蘭。



39. () 亞太經濟合作會議(APEC)為太平洋地區國家所共同成立的區域性經濟組織，每個年度都會在該組織的會員國內舉辦定期會議，討論相關的主題，並研議如何促進亞太地區的發展。該組織的年度會議，舉辦地點最可能為下列何處？

- (A) 澳洲雪梨 (B) 英國倫敦 (C) 南非開普敦 (D) 巴西里約熱內盧。

40. () 下表是南科國中的學生，在課堂討論「某全球經濟議題」的內容，請問：學生們討論的主題最可能是什麼？

- (A) 全球貧富不均 (B) 世界交通革新 (C) 區域性經貿組織合作 (D) 三大經濟集團的競爭。

小王：歐洲空中巴士集團推出全球容量最大的客機-A380
 小朱：美國的特斯拉公司研發地底高速列車
 小江：非洲的衣索比亞自中國引進鐵路系統並興建捷運
 小鍾：日本持續試驗高載客量的超音速客機

(試題結束)

答案卷

01. BBCDA

06. CBDBA

11. CDCBD

16. ABBDC

21. CDADB

26. CACAB

31. BDACB

36. ADAAB