

單選題

- () 國光石化開發案預計在彰化縣沿海的大城鄉與芳苑鄉的濁水溪北岸河口濕地填海造陸，引發種種如保育海豚、耗能耗水等爭議，最後計畫叫停。請問：根據你對臺灣的了解，國光石化預定地附近的地名應該最常出現下列何者？
(A)坪 (B)崁 (C)坑 (D)汕。
- () 阿喬前往臺灣某鄉鎮旅行，並寫了以下遊記：「此鄉鎮以文旦聞名，而該鄉鎮的名稱由來與該地早期的平埔族有關，為眼睛的意思。中秋節前後來到這裡大啖甜美的文旦、白柚，順便享受這裡熱情的陽光。」請問文中所提到的平埔族最可能是下列何者？
(A)邵族 (B)噶瑪蘭族 (C)西拉雅族 (D)道卡斯族。
- () 下述四個地名分別代表了不同的時代背景，若依照地名出現的時間先後順序排列，下列何者正確？
(甲)松山 (乙)彰化 (丙)新營 (丁)光復
(A)甲乙丙丁 (B)乙丙甲丁 (C)丙乙甲丁 (D)丁丙乙甲。
- () 右圖深色區塊為黃熱病的分布疫區，為避免黃熱病的擴散，疫區國審核簽證時常會要求黃熱病疫苗接種證書方核發入境許可。若根據此圖判斷，到下列哪個氣候區旅行時需要打黃熱病疫苗？
(A)夏雨型暖溫帶氣候 (B)溫帶沙漠氣候
(C)溫帶海洋性氣候 (D)溫帶地中海型氣候。
- () 中南美洲由於長期被歐洲國家殖民，人文景觀深受影響。請問：下列何種現象的形成與歐洲殖民關係「最小」？
(A)都市、人口集中在高原 (B)墨西哥亡靈節節慶活動
(C)巴西嘉年華會跳森巴舞 (D)經濟以第一級產業為主。
- () 2020 年 9 月新聞：「因美國墨西哥灣受天氣狀況影響，加上沙烏地阿拉伯和挪威可能減產，原油供應有減少的疑慮，國際油價上漲逾 3%。」請問：影響的原因最可能為下列何者？
(A)颶風 (B)乾旱 (C)地震 (D)暴風雪。
- () 越瓜是原產於中國南方及東南亞熱帶地區的作物，浙江地區以產此瓜出名，而浙江古時為越國，故稱「越瓜」。炎熱的夏季是越瓜的盛產期，並且有極佳的抗雨性。我們常吃的蔭瓜、醃瓜、鹽瓜仔等皆是由越瓜製成，由於瓜菜類飽含水分，不利久放，因此過去每到夏季時，家家戶戶會將它們進行醬漬、曬乾加工，以便在冬季缺乏蔬菜或菜價貴時，仍有菜餚可食用。請問：過去會將瓜菜類進行醬漬、曬乾等加工程序，主要目的是下列何者？
(A)增加美味 (B)保存食物 (C)加強口感 (D)增添色澤。
- () 右圖是牛奶小番茄的產銷履歷示意圖，透過產銷履歷 QR Code，我們可以查詢該農產品的生產、加工、流通、銷售等紀錄，並了解相關驗證機構已確認產製過程是否安全用藥、友善環境、產品品質是否安全無虞；也透過產銷履歷，可以建立品牌形象、提升產品附加價值、提高消費者對產品的信心，也有助於農業組織內的管理效益。請問：上述的產銷策略，最符合下列何種農業類型的特徵？
(A)精緻農業 (B)有機農業 (C)休閒農業 (D)酪農業。
- () 「農場到餐桌 (Farm-to-table)」是 1950 年代起在西方國家盛行的飲食風氣，旨在讓食材停留在供應商、批發商或倉儲的時間減少，鼓勵產地民眾盡量購買在地農產品，近年來臺灣也跟上此風潮，許多餐廳開始選擇在當地採購食物，或直接向農民購買食材，烹飪後直接端上餐桌供消費者食用，透過這樣的飲食方式運動，可以讓消費者對食安、環保、在地經濟等議題有更多的關注。請問：根據前述文字，「農場到餐桌」的飲食概念，其宗旨最希望達到下列何種目標？
(A)產銷履歷認證 (B)吸引大量遊客 (C)拓展農產市場 (D)縮短食物里程。
- () 2002 年，臺灣以「臺灣、澎湖、金門、馬祖個別關稅領域」的名義加入世界貿易組織 (WTO)，世界各地的產品可以自由銷售至臺灣，進而衝擊臺灣的在地農民，但也因為農產品的國際貿易，讓我們的飲食全球化。請問：



下列關於臺灣的食物產銷相關策略，何者敘述最為正確？

- (A)鮮乳、乳品類產品和穀類作物皆以外國進口量為大宗
- (B)農產品的食物里程越長，能源消耗及碳排放量會越少
- (C)鼓勵地產地消，讓臺灣農民的農產品可以行銷至全球
- (D)交通革新及冷鏈技術的提升，購買外國農產品更方便。

11. () 「南美洲某國現在是世界第五大葡萄酒出口國，也是第九大生產國。這個國家擁有一個悠長的葡萄栽培歷史，最早可以追溯到 16 世紀西班牙征服者帶著 *Vitis vinifera* 葡萄藤前往該地，宜人的氣候塑造出無與倫比的自然風貌，為葡萄的生長提供了有利的條件。加上此地特有來自太平洋的洋流以及安地斯山脈的下沉氣流，兩股冷涼空氣的調節，使得此地從海邊到安地斯山脈每隔 10 公里氣候都會不同。此種氣候為釀造多種風格的葡萄酒造就了優越的條件」，請問：文中的某國最可能為下列哪一國家？

- (A)智利
- (B)巴西
- (C)美國
- (D)阿根廷。

12. () 2014 年起，美國的頁岩油生產打亂全球油品市場，而石油輸出國家組織 (OPEC) 宣布不減產，導致油價跌至低點，重創右圖哪一個中南美洲 OPEC 會員國，使其無法大量進口糧食、醫藥等物資，導致通貨膨脹，貨幣貶值跌幅達 94%？

- (A)甲
- (B)乙
- (C)丙
- (D)丁。



13. () 地名常被稱作「活化石」，透過地名的解讀，可以還原過去地表的自然景觀。請問：下列哪一個地名之演變，可以用來證明此一論述？

- (甲) 臺北市文山區的木柵之由來與清代漢人前來拓墾時，在景美溪畔設木柵以抵擋原住民族的侵擾有關。
- (乙) 早期平埔族聚落稱為「社」，彰化縣社頭鄉之由來即代表當時是和安雅族大武郡社頭目首領居住之地。
- (丙) 嘉義縣六腳鄉之由來是清代有六戶農家在此耕稼、居住，原稱「六家佃庄」，後因「家」與「腳」的臺語音似，外人誤音成習，讓地名從六家變成六腳。
- (丁) 臺南市西港區的地名由來是因位於直加弄港(今臺南市安定區)的西側，昔日為臺江內海的港口，但目前西港已距離七股潟湖有 12 公里遠。

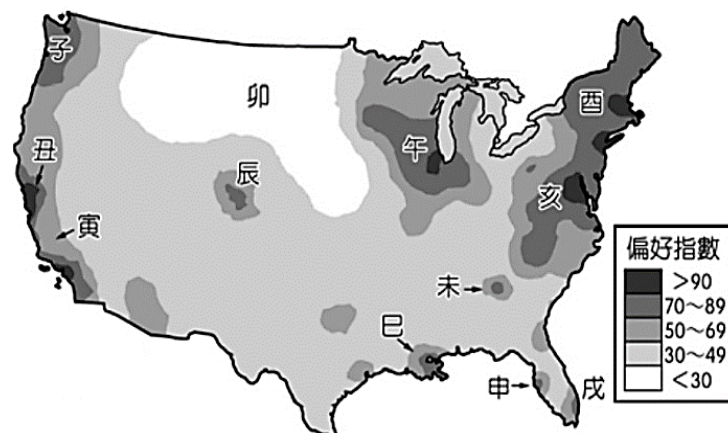
- (A)甲
- (B)乙
- (C)丙
- (D)丁。

14. () 「『你知道，麥當勞的生菜從哪來？』『麥當勞的生菜，從我們(雲林)這裡來。』」這是麥當勞在 2021 年推出的廣告臺詞，從中我可以看見麥當勞的生菜主要來自雲林縣，並且廣告中亦提及：「嚴選產地、採收不落地」、「通過 381 項農藥殘留檢驗」、「本產蔬果，100% 產銷履歷」等，期望的是讓消費者能夠安心食用美食。請問：以下關於雲林縣的農業專作區相關敘述，何者最為正確？

- (A)農業專作區的經營，會提升專作區農產品的生產成本
- (B)專作區採取作物多樣化、大規模機械化粗放耕作策略
- (C)透過產銷班或合作社，政府直接指定農民種植的作物
- (D)交通革新的發展，讓雲林的蔬菜可以往臺灣南北運送。

15. () 右圖是針對美國大學生的居住及工作地點選擇的抽樣調查，並將結果繪製成偏好指數空間分布圖，指數愈高表示當地愈受大學生喜愛。請問：下列關於右圖的說明何者正確？

- (A)子區：四季高溫如夏，易受學生青睞，偏好指數高
- (B)卯區：該區為農牧區，工作機會有限，偏好指數低
- (C)巳區：電影工業發達，學生追星圓夢，偏好指數高
- (D)酉區：天氣潮濕陰雨，對外交通不便，偏好指數低。

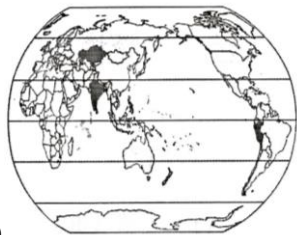


◆ 題組題，請閱讀下列文章，回答第 16-17 題：

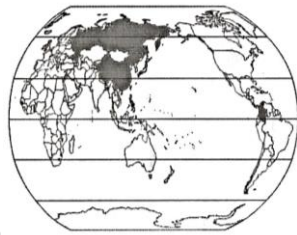
美國北達科他州的田野景觀，過去一向是由亞麻籽的藍、向日葵的黃，以及小麥的琥珀色交織而成的。近年來，當地在夏季時，放眼盡是黃豆苗的綠。當地的農戶提及：「四年前，我們根本不種黃豆，但目前近三分之一的農地都種黃豆。」黃豆的種植已深入巴西內陸草原、阿根廷大草原及美國的農業心臟地帶，在這三個國家的產量佔全球總產量的八成以上。

黃豆田在全球快速擴張，主因是中國對黃豆需求量大增。黃豆有絕佳的蛋白質來源，碾碎的豆粕，可以快速養肥豬、雞等牲畜。但由於中國本土的黃豆年產量僅 1,500 萬噸，並且中國國產黃豆的成本較進口黃豆還高，其需求靠食品禁用基改作物尚能勉強維持，而中國禽畜飼料用黃豆與煉油黃豆則不在此限，屬於基改工程下的產物。因此，原本中國政府堅持自給自足的糧食政策，卻對進口黃豆敞開大門。

16. () 根據上文判斷，下列哪張示意圖最適合表示三大黃豆生產國的位置？



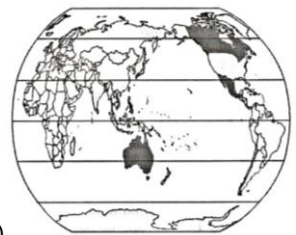
(A)



(B)



(C)



(D)

17. () 在文中提及「中國國產黃豆的成本較進口黃豆還高」，請問，這些黃豆生產大國的生產成本能夠較中國還低，最主要的原因是黃豆生產大國具有下列哪個農業經營特色？

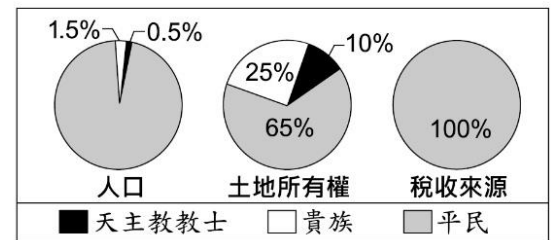
- (A) 採用集約耕作，讓單位面積產量來到最大 (B) 相對地廣人稀，大規模專業化的經營模式
(C) 推行有機農法，不使用基因改造技術種植 (D) 致力品種改良，國內作物種類更加多元化。

18. () 「一個人人追求私利的君主國中，任何政治團體其實都有演變為暴政的可能。所以個人自由的維護，有賴於我們透過對政治機構的技巧性設計，特別是透過立法、行政與司法權威的相互區隔，以均衡社會內部的利益糾葛。」請問：下列哪一國家最早落實此種政治理想？

- (A) 英國 (B) 法國 (C) 美國 (D) 德國。

19. () 右圖呈現某事件前夕，當地的社會情況。此事件最可能是下列何者？

- (A) 美國獨立
(B) 法國大革命
(C) 德意志統一
(D) 拉丁美洲獨立。



20. () 同學們上台報告「影響近代歐洲政局的歷史人物」，請問：下列何人所述是羅伯斯比？

- (A) 小東：「因為財政困難，他召開三級會議，卻造成階級間的緊張，爆發革命。」
(B) 小西：「他主張君主立憲，力行改革，積極對外擴張，提升國家的國際地位。」
(C) 小南：「滑鐵盧之役的慘敗，導致他被放逐到南大西洋的小島，度過了餘生。」
(D) 小北：「因為外力干涉革命，他掌權後，大肆處決異議份子，進行恐怖統治。」

21. () 一位 19 世紀的政治人物，各方褒貶不一，擁護者以為：他是一位不尋常的政治家，他使歐洲享有相對的國際和平達三十年之久……宗教和宗教團體得到加強鞏固。反對者以為：他是個保守的頑固分子，他不理解民族自決的觀念及世界新力量，自由主義對他而言是必須用暴力加以驅除的幽靈。請問：這位受到爭議的政治人物是誰？ (A) 俾斯麥 (B) 馬克思 (C) 梅特涅 (D) 拿破崙。

22. () 19 世紀某位思想家聲稱：「解放工人階級的工作，必須由工人階級自己來克服。」「除了鐐銬之外，勞動階級沒有什麼好損失的。……全世界的工人，團結起來吧！」上述思想的形成與下列哪一史事關係最密切？ (A) 工業革命 (B) 法國大革命 (C) 美國獨立 (D) 拿破崙崛起。

23. () 一位歷史人物曾獲得這樣的評價：「他將歷史推往現代，他的天才與歷史的建設性力量合而為一；德意志與義大利的統一、民主自由政治的確立未必是他的本意，但這些事件皆得益於他的行動。」請問：這位歷史人物應是指下列哪一個人？ (A) 路易十六 (B) 梅特涅 (C) 拿破崙 (D) 華盛頓。

24. () 有一場演講，內容包含了英法百年戰爭、方言文學、德意志帝國的建立、希臘脫離土耳其獨立。依此判斷，這場演講的主題最可能是下列何者？

- (A) 工業革命的影響 (B) 帝國主義的盛行 (C) 市民階級的出現 (D) 民族意識的發展。

25. () 1862 年，一位歐洲的政治家說到：「一支令人敬畏的軍隊一旦組成，將抓住最好的藉口對奧宣戰，解散德意志公會，壓服小邦，實現普魯士領導下的德意志民族統一。」請問：這位政治家應是何人？

- (A) 加里波底 (B) 馬志尼 (C) 加富爾 (D) 俾斯麥。

26. () 共產主義思想家恩格斯，曾針對西元1814~1815年間召開的某次會議說過：「帝王們分配贓物和獎金，商量能將革命前的形勢恢復到何種程度，民族被買進和賣出、分割和合併，只為符合統治者的利益。」請問：下列何者是召開此次會議最主要的原因？
- (A) 帝國主義盛行，協商如何劃定各國的勢力範圍
(B) 拿破崙勢力瓦解，各國討論如何重建國際秩序
(C) 社會主義盛行，各國擔憂革命分子擾亂社會安定
(D) 拉丁美洲獨立爆發，各國預防革命危害皇室安全。
27. () 西元19世紀拉丁美洲各國紛紛獨立。自1816年後十年間，某人率軍橫掃南美大陸，被譽為「南美洲的解放者」，他曾立誓：「不打破殖民者束縛祖國的枷鎖，我的心將永不安寧，我的手將不停打擊敵人！」。請問：這位「解放者」和他立誓要擊潰的殖民敵人分別是指何者？
- (A) 玻利瓦—西班牙 (B) 玻利瓦—美國 (C) 加富爾—奧國 (D) 俾斯麥—法國。
28. () 19世紀初，一份美國總統致國會的諮文中提到：「我們尊重西歐諸國在西半球的殖民地，但對於已經宣佈獨立，並經我國承認的國家，西歐諸國如果要予以干涉的話，我們認為他將危害美國的和平與幸福。」根據上述諮文，下列敘述何者正確？
- (A) 提出諮文的總統是威爾遜 (B) 目的在支持德義統一運動
(C) 諮文意在警告奧國與法國 (D) 成為美國干預他國的藉口。
29. () 這座城市在西元1780年建立起第一座大型機械化的棉紡織廠。當1835年，法國歷史學家托克維爾到訪此城時描述道：「從這污穢的陰溝裡泛出了人類最偉大的工業溪流，肥沃了整個世界；從這骯髒的下水道中流出了純正的金子。人性在這裡獲得了最為充分的發展，也達到了最為野蠻的狀態；文明在這兒創造了奇蹟，而文明人在這兒卻幾乎變成了野蠻人。」請問：托克維爾所描述的是下列哪一座城市？
- (A) 美國費城 (B) 法國巴黎 (C) 奧地利維也納 (D) 英國曼徹斯特。
30. () 「同胞們，想想我們上古時代建立的輝煌帝國；即便是黑暗時代中古時期，我們有著主宰基督教精神的教宗；更別忘了，近代文藝復興是從我們這裡開始！如今我們被譏笑只不過是個地理名詞，試問這口氣誰嚥得下去？」上述鼓吹當地統一的話語，應出自下列哪一地區？
- (A) 拉丁美洲 (B) 巴爾幹地區 (C) 義大利半島 (D) 德意志地區。
31. () 菜菜子在看一部關於19世紀後期國際局勢的紀錄片，片中主要探討阿根廷、秘魯的鐵路工程被英國掌控、土耳其關稅由歐洲列強組成的委員會管理、中國領土被外國劃分為不同租借區等情節。下列何者最可能是這部紀錄片的主题？
- (A) 帝國主義的擴張 (B) 社會主義的實行 (C) 民族主義的沒落 (D) 保守主義的影響。
32. () 「開戰之初，除革命份子外，大概很少有人預測我們會贏。因為對手有訓練精良的軍隊、經驗豐富的軍官以及強大的海軍，而我們只有缺乏訓練的民兵，缺乏經驗的軍官，沒有海軍，裝備補給不良，兩邊作戰能力幾乎完全不成比例。但是，對手面臨一些困難，加上長距離得遠征，反而抵消優勢，使得局勢對我們日趨有利，最終我們獲勝了。」上述內容是哪個國家針對哪一場戰爭的描述？
- (A) 美國；美國獨立戰爭 (B) 法國；征俄之役
(C) 普魯士；德法戰爭 (D) 義大利；對奧地利的戰爭。
33. () 右圖的深色部分為某國及海外殖民地的分布情形，從圖中內容判斷，這個擁有廣大殖民地的國家，應為下列何者？
- (A) 法國
(B) 德國
(C) 英國
(D) 美國。
- 
34. () 「德法戰爭」是歐洲十九世紀重要的戰爭之一。請問：下列何者並非這場戰爭所帶來的影響？
- (A) 義大利完成統一 (B) 德意志完成統一 (C) 拉丁美洲的獨立 (D) 法國民主政治確立。
35. () 根據下列四位人物的不同事件之敘述判斷其年齡，按照年齡由高至低之順序排列，何者正確？
- (A) 甲、丙、乙、丁 (B) 甲、丙、丁、乙 (C) 甲、丁、丙、乙 (D) 丙、乙、甲、丁。
- | | 事件敘述 |
|---|-------------------------------------|
| 甲 | 租賃房屋需要父母的同意，契約才有效，如果不慎犯罪則須負完全刑事責任。 |
| 乙 | 日常生活行為都要由父母代理，在超商偷了一包牛奶糖，可以免除刑責。 |
| 丙 | 昨日與男友訂婚，訂婚年紀剛好符合《民法》規定的最低年齡。 |
| 丁 | 再過一天就是限制責任能力人，得到了父母的同意，與電影公司順利簽訂合約。 |
36. () 「亞洲作曲家聯盟」為亞太地區國際文化組織，由日本、南韓、香港、台灣共同組成，理事長表示：該團體的目標是給亞洲作曲家一個合作的平台，至今已經成立四十多年，最近一次的音樂節是由台灣主辦，邀請各會員國在音樂上有所互動並增進成長機會。根據上文敘述，可以看出下列何種概念？
- (A) 全球化與文化對立 (B) 文化創新與強勢文化 (C) 文化傳承與弱勢文化 (D) 文化交流與多元文化。

37. () 右表為阿枝與阿哲在30分鐘內製作漢堡和三明治的機會成本表，其中兩個數據(以甲、乙標示)因為不小心沾到果汁而糊掉了。在不考量其他因素的前提下，依據分工理論，依機會成本表判斷，甲、乙依序應填入下列何者？

- (A) 1/2 個漢堡、4/3 個三明治
 (B) 1/2 個三明治、4/3 個漢堡
 (C) 4/3 個漢堡、1/2 個三明治
 (D) 4/3 個三明治、1/2 個漢堡。

項目	漢堡	三明治
阿枝	3/4 個三明治	甲
阿哲	乙	2 個漢堡

38. () 【甲】19 歲已婚的小芳承租了阿東的房子，【乙】連續數個月沒有繳房租，【丙】在租約到期後，小芳仍不搬家，阿東在警方的陪同下進到租屋處查看，發現房客大量破壞房屋內牆壁與地板；【丁】房東認為是房客蓄意破壞房屋，除了報警處理外，也準備對房客提出刑事訴訟。」根據上文化畫線內容與我國法律判斷，下列敘述何者正確？

- (A) 【甲】屬限制行為能力人，因此租約無效 (B) 【乙】房客的行為屬於債務不履行類別
 (C) 【丙】房客未搬家，房東此舉已違法 (D) 【丁】基於過失行為，毀損罪應該會成立。

39. () 下列為某本書中的人物介紹，根據人物敘述判斷，這本書的主題應與下列何者最相關？

- (A) 全球化 (B) 區域統合 (C) 科技倫理 (D) 民主潮流。

安迪·葛洛夫

英特爾 (Intel) 執行長。促成微型處理器大量的商業生產，讓資訊傳播愈來愈遠、愈來愈快，也愈來愈大量。

成吉思汗

以戰爭擴大蒙古帝國的版圖，讓連結東西方的貿易路線往來無礙，帶來開拓性的運輸、通信和管理革新。

羅斯柴爾德

創建第一家真正的國際銀行，擴展了全球金融的可能性，讓金錢在國際間自由流動，為今日相互聯繫且不斷擴大的世界經濟奠下基礎。

柴契爾夫人

逆轉社會主義橫行的潮流，減少國家對經濟的控管，釋放對商業的控制權和資金，拆除貿易壁壘，宣揚並促進自由市場。

40. () 花蓮一對夫妻，每人以 49,900 元參加台北某旅行社舉辦的五天四夜北海道旅遊行程團，但他們認為與宣傳的品質內容包括遊覽車、住宿、餐飲、遊覽景點，與實際行程不符，於是向法院提起民事訴訟，最後法院判決夫婦各得向旅行社求償 21,000 元確定。根據上述內容，下列何者敘述正確？

- (A) 當事人須提出有利自己的證據 (B) 案件由檢察官偵查，法官審判
 (C) 民事訴訟進行中，雙方即不能再採用和解 (D) 當事人須先至警察局報案後，才能提起民事訴訟。

國立南科國際實驗高級中學 110 學年第 2 學期補考題庫九年級社會科答案

1	2	3	4	5	6	7	8	9	10
D	C	C	A	A	A	B	A	D	D
11	12	13	14	15	16	17	18	19	20
A	B	D	D	B	C	B	C	B	D
21	22	23	24	25	26	27	28	29	30
C	A	C	D	D	B	A	D	D	C
31	32	33	34	35	36	37	38	39	40
A	A	C	C	B	D	C	B	A	A