

南科實驗高級中學 110 學年下學期七年級社會科補考題庫

- () 1. 為了追求更便利的生活，或是尋找更多工作機會，有些住在鄉村的人會選擇搬到都市居住。下列哪一個概念最適合用來說明此種遷移的現象？
 (A) 現代化 (B) 都市化 (C) 工業化 (D) 鄉村化。
- () 2. 《挖土機年年作響——鄉村變了》為瑞士畫家Jorg Muller所繪，記錄著每隔三年周邊景觀的變化：依據右邊繪本中的描述，下列敘述何者正確？
 (A) 第二畫面的人口密度應為所有畫面中最高
 (B) 該聚落最後發展成都市主要是因礦產豐富
 (C) 由畫面演變可知該聚落轉型為提供休閒觀光
 (D) 由第七畫面可知該聚落提供服務與就業的機能。
- () 3. 臺北市因為有完善的公共設施、綿密的大眾運輸系統與大量的工作機會，號稱首善之都；網路上甚至有部分網友因臺北市握有大量資源，而稱其為「天龍國」。然而，單獨一座城市是難以獨立生存的，以城鄉關係的角度來看，臺北市最需要下列何種產業的互補？
 (A) 服務業 (B) 製造業 (C) 農漁業 (D) 金融保險業。
- () 4. 2015 年時臺灣的都市化程度為 81%，其代表的意義為何？
 (A) 臺灣有 81% 的人口居住在都市
 (B) 臺灣有 81% 的聚落為都市聚落
 (C) 全臺灣有 81% 的人口從事第二、三級產業
 (D) 都市地區的人口有 81% 為外來人口。
- () 5. 不同的運輸方式有不同特性，若能依據運輸目的靈活運用，就能讓我們的生活更為便利。臺灣的農特產品質優良，名揚國際，若廠商欲將嚴選來自南臺灣的愛文芒果、玉荷包荔枝、金鑽鳳梨等，新鮮直送日本與香港等海外地區，根據附表的四種貨運運輸資料，選擇哪一種方式作為主要運輸工具應最適合？
 (A) 空運 (B) 鐵路 (C) 公路 (D) 海運。
- () 6. 許多人都曾經熱血過一回，以不同形式環島過，但鮮少人會以「南北直線」切西瓜的路線(如附圖所示)體驗直線環臺。有網友近期發文，表示臉書好友分享以「臺灣切西瓜」貫通南北路線的方式，由新北市的富貴角一路開到屏東縣的鵝鑾鼻，完成另類環臺壯舉，看路線就感到很困難，而貼文一出後，不少網友也分享經驗，並表示這比環島還要累人。請問：附圖路線大多利用哪一種運輸方式？
 (A) 鐵路 (B) 公路 (C) 捷運 (D) 吊橋。
- () 7. 新冠肺炎爆發之初，各國肺炎疫情越來越嚴重，防疫醫療物資嚴重不足急需救援情況下，臺灣開始對外援助口罩物資。若要從臺灣緊急運送200萬片的醫療用口罩到中南美洲友邦幫助當地醫療人員，最適合採用哪一種交通方式？
 (A) 公路 (B) 鐵路 (C) 海運 (D) 空運。
- () 8. 右表為民國 109 年全國各縣市平均每戶可支配所得。下列哪一個選項可以從右表中得知？
 (A) 本島北部的住戶多於南部
 (B) 本島山地的就業機會低於平原地區
 (C) 本島西部居民的所得多高於東部居民
 (D) 離島的可支配所得皆低於臺灣本島東部地區。
- () 9. 右表為 2010 年臺灣北、中、南、東四大區域的產業人口比例，其中何者為北部區域？
 (A) 甲 (B) 乙 (C) 丙 (D) 丁。
- () 10. 為了維持良好的城鄉關係，以促進區域均衡發展，下列哪個作法較「不恰當」？
 (A) 增加鄉村地區的學校與醫療資源
 (B) 將鄉村直接納入都市範圍進行開發
 (C) 規畫城市與鄉村往來的交通聯絡網
 (D) 針對鄉村的特色發展地方產業。

畫面	內容
一	周圍一片田地、草原，道路還是泥巴路
二	鋪了柏油路，蓋了鐵路，出現第一座工廠
三	森林被剷平，柏油路更大條，遠方更多建築
四	下雪了，卻多了兩大燃料槽、一座工廠
五	綠地更少了，多了高樓，山坡地也被開墾
六	周邊好多公寓大廈與工廠吱喳作響
七	滿布汽車與公路，公寓大廈林立，山坡也滿是住宅區，購物中心的人們開心的消費

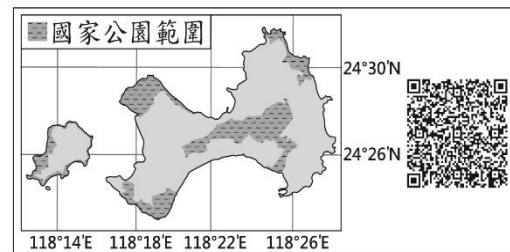
類型	空運	鐵路	公路	海運
運費 (每公里/元)	80	15	20	5
每次運量 (公斤)	80	20	10	100
運送時間 (每公里/分鐘)	0.5	5	2	10



縣市	平均每戶可支配所得(千元)	縣市	平均每戶可支配所得(千元)
臺北市	1,423	雲林縣	831
新北市	1,135	臺南市	904
桃園市	1,183	高雄市	1,018
基隆市	946	嘉義市	1,046
新竹市	1,294	嘉義縣	781
新竹縣	1,294	屏東縣	892
宜蘭縣	959	澎湖縣	919
臺中市	1,083	花蓮縣	873
苗栗縣	970	臺東縣	765
彰化縣	845	金門縣	973
南投縣	846	連江縣	1,104

區域 \ 產業	甲	乙	丙	丁
第一級產業	1	15	7	9
第二級產業	34	23	36	40
第三級產業	65	62	57	51

- () 11. QR Code 是目前常見的一種二維條碼。利用手機對準 QR Code 拍照，再搭配解碼軟體，就可以顯示條碼內儲存的訊息。右圖是針對臺灣某國家公園特色所設計的 QR Code，將其解碼後，得到的訊息最可能包括下列何者？



- (A) 雄偉壯麗的峽谷景觀
(B) 珊瑚礁堆砌的防風牆
(C) 火山活動形成的噴氣孔
(D) 傳統的閩南式建築聚落。

- () 12. 臺灣各地區為凸顯其發展特色，紛紛設立各種吉祥物塑像。有「臺灣虱目魚之鄉」稱號的鄉鎮，就立了「虱目魚小子」的雕像(如下圖)，但因雕像的造型太過獵奇，負評不斷，意外成為話題，甚至有遊客特別來朝聖，成為打卡熱點。請問：「虱目魚小子」的雕像應位於圖五中哪一個區域？

- (A) 甲 (B) 乙 (C) 丙 (D) 丁。



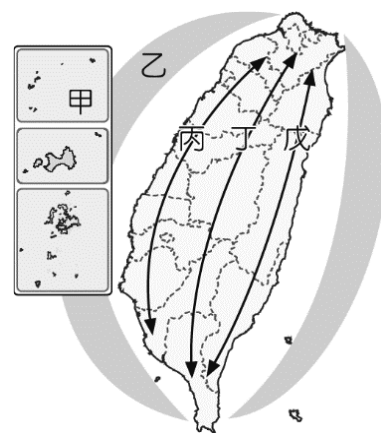
(圖五)

- () 13. 「-歷經9個月的照顧和野放訓練後，南安小熊將是台灣第一隻野生黑熊野放成功的案例，也是黑熊保育的一個里程碑，這也點醒台灣人對黑熊的保育觀念，不只是讓這隻小熊回家，還要讓台灣黑熊不再瀕臨絕種，要救一隻熊不難，但是要把整個族群救起來才是後續挑戰-」由上文所述，這是右圖中哪一軸線的主要目標？

- (A) 甲 (B) 乙 (C) 丙 (D) 丁。

- () 14. 承上題，「伯朗大道的正式名稱為錦新三號道路，筆直的道路兩旁盡是遼闊翠綠的稻田，隨著時間轉為金黃，阡陌的黃色稻浪，再加上遠方高低起伏的山巒，宛如明信片上的美麗照片。在這片無邊無際的稻田中騎單車、散步，讓人遠離城市的喧囂，放鬆身心，沉浸在這番美景中」由上文所述，這是上圖中哪一軸線所希望達成的目標？

- (A) 乙 (B) 丙 (C) 丁 (D) 戊



- () 15. 2019 年 COVID-19 於武漢爆發，中國各省市陸續封城，導致多名滯留的台商及罕見疾病患者無法及時回台，甚至引發有患者臨即將被斷藥的危機。請問上述情形，應尋求哪一民間機構來協助？

- (A) 海峽交流基金會 (B) 大陸委員會 (C) 國務院台灣辦公室 (D) 海峽交流協會。

- () 16. 1950 年 1 月 5 日，美國總統杜魯門在記者會上說，美國不會幫助「台灣進行防禦或向該處的部隊提供軍事援助來干預中國的內戰」。但時隔數月後，杜魯門發表「6·27」聲明，命令美軍第七艦隊協助台灣海峽。請問當時杜魯門總統對台灣政策的改變，與下列哪一事件的發生有關？

- (A) 二二八事件 (B) 八二三炮戰 (C) 古寧頭戰役 (D) 北韓進攻南韓。

- () 17. 蕭蕭的日記中寫到：「民國 67 年 12 月 24 日天氣晴，聽聞卡特總統不顧國際道義所做的宣布，對我們真是重重一擊... 激動的群眾『蛋洗』美國代表團座車，情緒相當激憤。」請問：上文所指的是下列何事？

- (A) 美國廢除台灣關係法 (B) 美國與中共簽署防禦條約 (C) 美國準備與台灣斷交 (D) 美國準備取消對台的美援。

- () 18. 1973 年 9 月 3 日一艘由旗津開往前鎮的民營渡輪「高中六號」，在航行途中因超載加上機械故障而翻覆沉沒，造成 25 位前往高雄加工出口區的女性喪生，其中更有數位年齡低於 16 歲(當時法定最低勞動年齡)。政府事後將其葬在「25 淑女之墓」，2008 年更名為「勞動女性紀念公園」。請問文中：加工出口區的出現與當時政府哪一項政策有關？

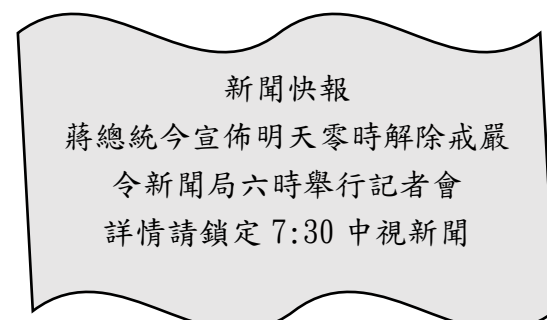
- (A) 進口替代 (B) 出口導向 (C) 十大建設 (D) 產業升級。

- () 19. 瑄兒搜尋歷史上的今天，出現右圖的新聞快訊，介紹當年的重要事件，並說明該事件造成後續的影響。請問下列敘述何者有誤？

- (A) 報紙以及政黨數目快速成長 (B) 爺爺終於可回中國探親
(C) 民主進步黨終於可以成立了 (D) 各種社會運動風起雲湧。

- () 20. 2021 年初因全球車用晶片短缺，美、日、德等國紛紛呼籲我國政府與半導體廠商協調提高產量，突顯台灣在全球供應鏈中舉足輕重的地位。該產業之所以在我國蓬勃發展，源於政府所推動的政策，請問此政策為下列何者？

- (A) 實施十大建設 (B) 進行產業升級 (C) 推動出口導向 (D) 推動土地改革。



() 21.這是一首名為飲酒歌的詩作：「唉唉！這遍地烽火，滿眼的狼煙，而那罪惡的五星紅旗，龐然的陰影覆蓋下，今天的節目是魔鬼跳舞，狗的宴會，傀儡的戲劇，隨著王師百萬，飄洋過海，乒乓劈拍噠噠轟隆地打回來。」請問當時臺灣文壇流行的文學風格是？ (A)反共文學 (B)美國文學 (C)鄉土文學 (D)日本文學。

() 22.民國 69 年 3 月，在一個政治案件的審判法庭上，有如下的對答。

法官：「當初你們五人（黃信介、施明德、姚嘉文、張俊宏、許信良）一起討論要辦雜誌嗎？」
 施：「辦雜誌是其中一項。」法官：「目的是什麼？」
 施：「我們辦雜誌目的是要政府改善人民生活狀況及民主政治等問題，其中包括黨禁、報禁、戒嚴令及萬年國會。」
 請問這個審判應是針對哪一次政治事件而舉行的？

(A)中國民主黨組黨事件 (B)美麗島事件 (C)成立民主進步黨 (D)野百合學運。

() 23.姜姜在研讀歷史時，發現聯合國的 2758 號決議文內容：「恢復中華人民共和國的所有權利，承認其政府的代表為中國駐聯合國的唯一合法代表。」請問：這項史事的發生，對我國造成的影響不包括下列何者？

(A)知識份子創作轉為關懷臺灣本地 (B)邦交國陸續與我國斷交
 (C)海峽兩岸的軍事衝突變得更劇烈 (D)臺灣國際地位日漸下降。

() 24.右圖是言言到圖書館發現的一本書封面，書裡介紹了許多此時期的特殊現象，例如推廣麵食、養豬要用歐羅肥等。請問會出現此書中的情況其歷史背景為何？



(A)美國在臺灣關係法的約定下協助臺灣
 (B)美國視臺灣為西太平洋反共體系夥伴
 (C)美國同情臺灣在聯合國的席次被取代
 (D)美國於能源危機時助臺推動十大建設。

() 25.右表是 1951~1961 年台灣農戶數百分比的統計表格，我們應該如何理解這段期間台灣農戶資料的變化？

西元	1948 年	1953 年	1956 年
土地			
自耕地	56%	83%	85%
佃耕地	44%	17%	15%

(A)佃農被徵召參與韓戰而減少
 (B)美援資金補助使自耕農增加
 (C)發放老農津貼改善農民生活
 (D)實施耕者有其田政策的成果。

() 26.請將以下事件依發生時間的順序先後排列，何者正確？

(甲)十大建設登場，創造就業機會並帶動景氣復甦 (乙)新竹科學園區成立，促使經濟轉型
 (丙)駐台美軍廣播電台成立，為台灣注入美國文化 (丁)原住民正名運動，找回自己的名字。
 (A)乙丙丁甲 (B)甲乙丙丁 (C)丙甲乙丁 (D)丙丁甲乙。

() 27.實中同學們正在討論全民健康保險相關問題，下列何人的觀念最正確？

(A)王力：全民健保屬於社會津貼
 (B)汪小：繳費不看病就是吃虧
 (C)吳奕：透過強制納保收費，分險大眾風險
 (D)羅志：保費高低依納保者的健康風險而定，所以老年人應多繳保費。



() 28.如右圖，衛生福利部為提供國民更周全的流感保護力，自 108 年度起公費流感疫苗全面轉換為四價流感疫苗。請問此為政府所提供之何項社會福利政策？

(A)福利服務 (B)社會津貼 (C)健康與醫療照護 (D)社會救助。

() 29.根據《身心障礙者權益保障法》規定，各級勞工主管機關對於具有就業意願，而就業能力不足，無法進入競爭性就業市場，需長期就業支持之身心障礙者，應依其職業輔導評量結果，提供庇護性就業服務。而在苗栗縣就有一家企業社在縣政府輔導下成立了清潔庇護工場，提供身心障礙工作機會，協助職能養成也培養獨立生活，讓身障者順利融入社會。該業者的作為與下列何項公民德性最有相關？

(A)成立志願團體、監督政府施政 (B)遵守法律規定、履行應盡義務
 (C)參與公共事務、落實主權在民 (D)捍衛公平正義、促進公共利益。


() 30.由右圖中兩人的對話內容判斷，顯示出下列哪一種社會現象的發生？

(A)社會流動 (B)社會福利
 (C)社會變遷 (D)社會運動。



() 31.下列哪項敘述，符合「社會正義」的概念？

(A)新市 LM 區自發成立社區發展協會，共謀社區的長遠發展
 (B)國內畜牧業大廠欲興建養殖場，引發在地居民上街抗議
 (C)歐美吹自行車防疫風，讓台灣自行車大廠訂單供不應求
 (D)為守護台東達仁偏鄉民眾健康，應催促政府成立南迴醫院。

- ()32. 2017 年開始，新北市政府與民間單位合作推出「三峽北大青銀共居居住實驗計畫」，從位於三峽北大特區的社會住宅中，抽取部分示範戶，透過以往改造共居公寓的經驗，加以強化空間設計，規劃出「青銀共居宅」的住宅型態，對外招租。三峽北大特區的社會住宅，其與我國何種社會福利政策屬於相同種類？
 (A)女性子宮頸癌疫苗注射 (B)修繕住宅貸款利息補貼 (C)就業服務站與職業訓練 (D)提供低收入戶以工代賑。
- ()33.全國 368 個鄉鎮區中，有 3 個「無醫鄉」。無醫鄉是指缺乏醫院或診所的鄉鎮，居民需要到別的城市尋求治療。請問：這反映社會中哪一不公平的現象？ (A)責任負擔 (B)利益分配 (C)貢獻程度 (D)需求滿足。
- ()34.社會地位的產生可分為先賦地位(與生俱來)與成就地位(個人努力)，下列有關此兩種地位之說明，何者錯誤？
 (A)族群、性別都是先賦地位 (B)先賦地位可能影響成就地位
 (C)政二代是指一種成就地位 (D)職業的聲望是屬於成就地位。
- ()35.為照顧受疫情衝擊的民眾，行政院表示因疫情請假或無法從事工作導致生計受困者，及因疫情接受隔離治療不幸死亡、無力殮葬者，可申請衛福部急難救助金，最多新台幣 3 萬元。請問：政府提供急難救助是以何種角度來維護人性尊嚴？
 (A)提供社會救助滿足基本生活的需求 (B)推動社會保險轉移民眾生活的風險
 (C)藉由社會津貼健全經濟安全的保障 (D)透過福利服務滿足不同群體的需求。
- ()36.由右圖可見媒體報導時只呈現部份事實，據此，以下是幾位同學對右圖的解釋與描述，誰的說法較符合該圖意旨及較具有媒體識讀的素養？
 (A)婕妹：媒體為了提昇閱聽率，進而增加廣告收入，總以聳動的標題說明事件
 (B)傑哥：媒體喜以受難者的表情作為報導內容中的主要圖片，以獲得民眾關注
 (C)晴姐：媒體擅長製造假新聞，操縱閱聽者的認知、價值判斷，獲取想要的利益
 (D)丞弟：閱聽人接受的資訊往往是經媒體詮釋而來，故接受資訊時要多元，並注意
- 
- ()37.政府為保障身心障礙者權益於交通運輸工具設置博愛座，民眾也已培養讓座老弱婦孺「坐博愛座」的爭議卻一再發生，新聞時有報導，部分身體不適的民眾坐上博愛座之後，受到其他乘客嚴厲譴責與驅趕，甚至發生肢體衝突。社群網絡和媒體所做民調顯示，許多民眾認為博愛座的設置有廢除或改革的必要，因此許多政府單位開始宣導，博愛座人人可坐，只要是有需要者都能坐。
 請問上文中畫線部份，可用來說明公共意見具備的何種特性？ (A)不穩定性 (B)公開性 (C)差異性 (D)影響性。
- ()38.在柯媽媽與車禍受難者救援協會的不斷努力下，致使立法院通過了《強制汽車責任保險法》。上述做法顯示出下列何種影響？ (A)實現共同政治理念 (B)關係成員本身利益 (C)有效對政府施加壓力 (D)促進同業關係利益。
- ()39.«少子化»現象可能造成臺灣社會未來的勞動力不足，與年輕人扶養負擔加重等問題，為了解決相關的問題，政府提供生育婦女一定金額的現金給付以鼓勵生育。請問：上述政府的做法屬於下列何項社會福利的內容？
 (A)提供社會救助以滿足基本生活需求 (B)推動社會保險轉移民眾生活的風險
 (C)藉由社會津貼健全經濟安全的保障 (D)透過妥善的健康與醫療照護滿足不同群體需求。
- ()40.我國政府於 2008 年開辦國民年金，針對 25 歲以上未滿 65 歲，且未參加軍、公、勞、農保的國民，發生老年、身心障礙、生育及死亡事故時，保障本人及遺屬的基本經濟生活。對象涵蓋無業者、家庭主夫主婦、學生、受刑人等，保費由被保險人負擔 60%，政府負擔 40%；低收入戶、中低收入戶與身心障礙者，則由政府提高補助。依上所述，政府實施該項政策，主要是為了達到下列何種目標？
 (A)縮短貧富差距 (B)加強社會福利 (C)減緩人口老化 (D)促進經濟發展。