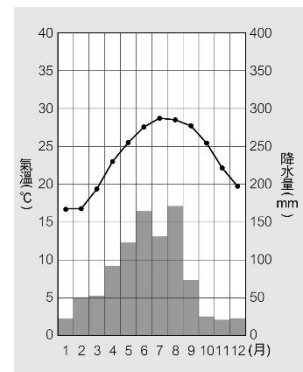


1. 請仔細閱讀題目，並將正確答案劃記在答案卡上，並在題目卷填上答案，方便老師們檢討！
2. 請將答案卡上的班級、座號確實劃記好，若影響電腦讀卡，扣總分3分！
3. **本試卷共6頁！**答案選項請劃記清楚，若有劃記不清影響判讀，一律以電腦讀卡為準！
4. 期許各位能夠有不錯的成績！加油！

一、選擇題：每題2分，共100分

( ) 01. 下列是四位同學對於天氣與氣候的相關敘述，請問：誰的敘述是表示氣候的概念？

- (A) 大品：「這一週每天都天氣晴朗，艷陽高照。」  
 (B) 小裴：「每年暑假的時候常有颱風侵襲臺灣。」  
 (C) 恩恩：「今年運動會時雖然風大但是晴朗天。」  
 (D) 阿力：「下午放學的雷陣雨讓我變成落湯雞。」



【圖1】

( ) 02. 右【圖1】是臺灣某地的氣候圖，請問：從圖中，我們不能知道下列哪項資訊？

- (A) 年降水量 (B) 月降水量 (C) 年溫差 (D) 日溫差。

( ) 03. 臺灣夏季平地普遍高溫，然而緯度較高的臺北，常因為地形因素熱氣累積不易散去，反而比緯度低的高雄更加炎熱。請問：最主要跟下列哪種地形最有關係？

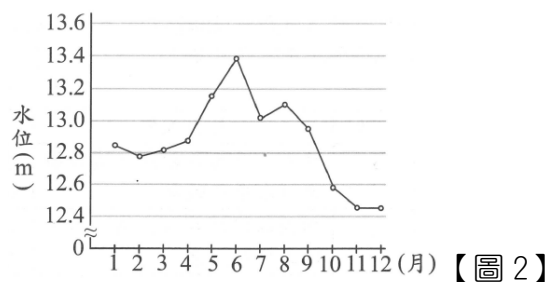
- (A)  (B)  (C)  (D) 

( ) 04. 下【圖2】是臺灣某條河川下游的水位站歷年月平均水位資料的統計表，請問：從圖中可以判讀出該條河川的哪種特色？

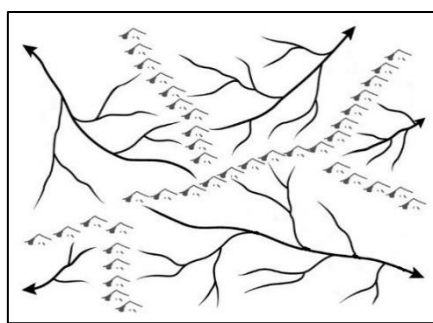
- (A) 河川由西向東流 (B) 冬夏流量變化大 (C) 河川的輸砂量高 (D) 河床的坡度陡峭。

( ) 05. 下【圖3】是某個地區的水系圖。請問：圖中總共有幾個水系？

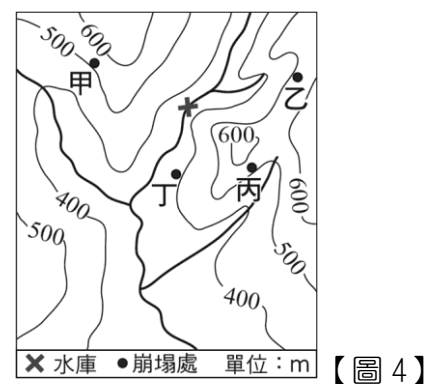
- (A) 3個 (B) 4個 (C) 5個 (D) 6個。



【圖2】



【圖3】



【圖4】

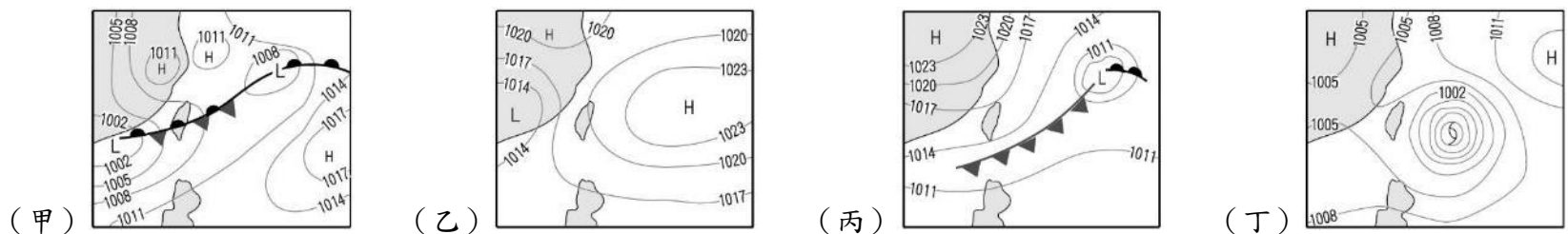
( ) 06. 上【圖4】中的「X」為水庫位址，為了延長該水庫的使用年限，應減少何處崩塌狀況的發生，對該水庫才有實質的效益？

- (A) 甲 (B) 乙 (C) 丙 (D) 丁。

( ) 07. 清代為了拓墾，移民來臺漢人常利用合資的方式修築水利設施，其中灌溉彰化地區的八堡圳、高雄地區的曹公圳，分別引用濁水溪、高屏溪的河水進行灌溉，讓稻米、甘蔗的產量增加。請問：下列關於濁水溪、高屏溪的敘述，何者錯誤？

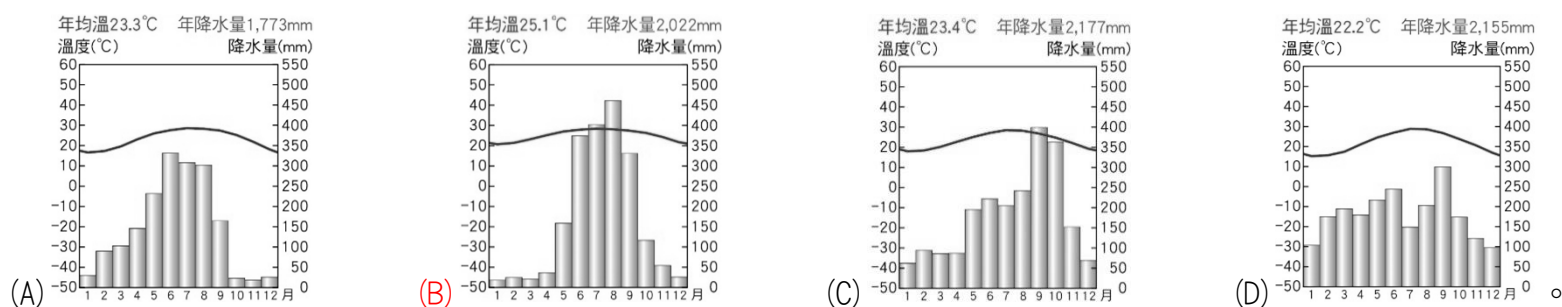
- (A) 濁水溪與高屏溪皆是縣市的分界河 (B) 濁水溪的河川長度較高屏溪來得長  
 (C) 濁水溪與高屏溪皆屬於荒溪型河川 (D) 高屏溪在夏季的汙染程度較為嚴重。

( ) 08. 下面四張附圖為臺灣四季典型的天气變化及氣壓系統圖，若依據「春夏秋冬」的順序，哪一組排序最適當？



- (A) 甲乙丁丙 (B) 甲丁乙丙 (C) 丙甲丁乙 (D) 丙乙丁甲。

- ( ) 09. 1930 年竣工的嘉南大圳，在日治時期時曾是東亞規模最大的水利工程。嘉南大圳具有排水、灌溉、疏洪等功能，其中烏山頭水庫是最主要的工程項目之一，水圳的完工，得以讓荒地變旱地，旱田變水田，更使得雲林、嘉義以及臺南等地成為臺灣最重要的「米倉」。直至今日，嘉南大圳在雲嘉南地區的農業灌溉，仍然扮演著重要的角色。請問：根據文中提及水圳的所在位置判斷，當地的氣候特徵最適合用下列哪張氣候圖表示？



◆ 請閱讀下列文章，回答第 10-11 題：

臺灣的氣候受到緯度、地形及季風等因素影響，讓臺灣小小的島嶼也擁有豐富多元的氣候樣貌。

右【圖 5】是洋洋在製作臺灣氣候特色作業時看到的一篇新聞報導的圖片，並發現其中各縣市的日照時數有著差異。

若用一個字形容這半個月的天候狀態，會用什麼？陰、雨、炎還是晴呢？南部人、北部人對此一定有歧見，因為南北日照時數相差 58 倍！

日照時數落差是這個季節的常態！可怕的是，落差倍數愈來愈大。

【圖 5】  
(註：新屋是桃園的局屬測站) 單位：小時

- ( ) 10. 日照時數是指一個地方受太陽照射的時間，會受到天氣變化、日夜長短等因素影響。請問：若從【圖 5】中的資訊判斷，【圖 5】最有可能是在表達哪段時間的日照時數統計？
- (A) 5/15-5/30                      (B) 7/15-7/30                      (C) 10/15-10/30                      (D) 12/15-12/30。
- ( ) 11. 在【圖 5】中，宜蘭、新屋、臺北等地在這段期間日照時數少於 4 小時，洋洋在作業當中寫出造成這些地方日照時數少的原因，請問：下列哪一句話最有可能出現在洋洋的作業中？
- (A) 在此季節經常性午後雷陣雨，對流非常旺盛                      (B) 此季節盛行東北季風，挾帶豐沛的海上水氣
- (C) 常有颱風登陸侵擾，同時西南季風帶來水氣                      (D) 冷暖氣團交會，形成鋒面滯留的長時間降雨。

◆ 請閱讀下列文章，回答第 12-13 題：

2021 年，臺灣面臨近 50 年來最嚴重的旱災，各大水庫的蓄水量紛紛創新低，然而，宜蘭縣即使境內無水庫蓄水，卻能免於缺水之苦。宜蘭縣地勢西高東低，受盛行風向影響，全年降水日近 200 日，降水量充沛，但受到地形影響，不適合興建輸水管線將水源運至鄰近縣市的甲、乙水庫。

為解決乾旱問題，水利署展開了「北水南調」計畫，透過新建的輸水管線，將右【圖 6】中原本甲水庫供水的區域，改由乙水庫供水，除了減輕甲水庫的負擔，更讓甲水庫的供水範圍向南擴大，並由於當地的產業是臺灣重要出口主力，「北水南調」可以支援該地區的民生及工業區旱季時的用水需求，避免人民生活及產業發展受到衝擊。

【圖 6】

- ( ) 12. 臺灣在下列哪個月分期間，最容易有旱災的發生？
- (A) 2-4 月                      (B) 5-7 月                      (C) 9-10 月                      (D) 11-12 月。
- ( ) 13. 從上述圖文敘述判斷，請問：乙水庫可以擴大供水範圍的原因最有可能是下列何者？
- (A) 降水夏乾冬雨，可藉冬季降水蓄積用水                      (B) 降水季節分布較平均，較無旱象的情形
- (C) 河川沖刷力小，輸砂量少水庫不易淤積                      (D) 壩址位在平原地區，水庫的蓄水量較高。
- ( ) 14. 「我們大多分布於臺灣北部桃園、新竹、苗栗以及南部高雄和屏東的丘陵地區，以種植茶葉為生。男女村民在種茶的時候，常常以山歌對唱的方式彼此唱答，互訴傾慕之意。而民歌曲調種類繁多，素有九腔十八調之稱。」請問：下列哪一神明會是上述族群所信仰的？
- (A) 清水祖師                      (B) 三山國王                      (C) 開漳聖王                      (D) 媽祖。

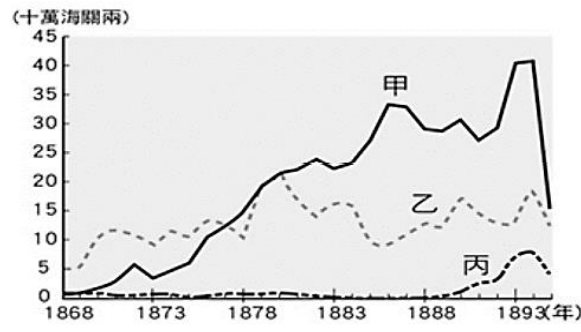
- ( ) 15. 小居看到一篇「府城三郊與五條港」的文章，請問：該文章應是介紹下列何者？  
 (A) 明鄭時期的國際貿易 (B) 清領前期的兩岸貿易  
 (C) 開港後的經濟發展 (D) 劉銘傳的近代化。
- ( ) 16. 清領初期，政府對有意渡臺的民眾頒行渡臺禁令，但移民依然積極渡海來臺，請問：他們冒險來臺的主要原因為何？  
 (A) 閩粵一帶山多田少，居民謀生不易，而臺灣地曠人稀，極具經濟誘因  
 (B) 西方列強攻打清廷，中國政局不穩  
 (C) 沈葆楨設招墾局鼓勵內地人民渡臺  
 (D) 乾隆皇帝設立專門機構處理漢番衝突的相關事物。
- ( ) 17. 小齊為了完成歷史報告，蒐集許多有關「新樓醫院」、「淡水女學校」、「馬偕醫館」等主題的資料。請問：下列何者最可能是小齊報告的主題？  
 (A) 漢人來臺開發史 (B) 淡水踏查趣 (C) 原住民悲歌 (D) 長老教會與臺灣。
- ( ) 18. 清領前期某份官方的報告：「統計臺灣只有臺灣府城所屬的地區有夫妻、子女等家庭關係，其他諸羅縣、彰化縣以上一直到淡水廳，統計婦女不及數百人，而在臺數十萬無父母、妻子之人，並無相維繫之情，欲其無事也難矣。」請問：造成上述現象的原因為何？  
 (A) 海禁政策的執行 (B) 劃界封山的隔離 (C) 渡臺禁令的實施 (D) 民變械鬥的頻繁。
- ( ) 19. 小麟蒐集到下列資料：「陳佛照於清乾隆年間從原鄉漳州遷來今天南投竹山鎮，在該地墾荒拓殖。他育有六子，死後留下公產三甲作為祭祀公業，由六房輪流耕作。輪值耕作公田者，負責該年祭祀祖先之費用。」請問：小麟的資料主題應為下列何者？  
 (A) 清帝國時的宗族組織 (B) 清帝國時的合資開墾 (C) 清帝國時的行郊組織 (D) 清帝國時的宗教信仰。
- ( ) 20. 波特王是十八世紀清朝鹿港的糖商，他的生活中最有可能遇到下列哪一狀況？  
 (A) 進口貨品主要為鴉片與紡織品 (B) 出口貨品主要為茶、糖、樟腦  
 (C) 主要貿易對象是西方人，常到洋行進行交涉 (D) 因賣糖到廈門，他加入糖郊與廈郊。
- ( ) 21. 港口邊的大街上，人群熙來攘往，偶而夾雜幾位金髮碧眼的外國人，他們走進街旁的商行裡和茶商討論該地生產即將上市的春茶價格。對面的商家陳列著剛由洋船運抵的紡織品，吸引了大批逛街的民眾，爭相詢問款式與價格。這個場景最可能出現在何時何地？  
 (A) 1642 年，安平 (B) 1810 年，基隆 (C) 1880 年，淡水 (D) 1949 年，打狗。
- ( ) 22. 下表為清朝臺灣地區科舉人數的統計表，由此表可看出嘉慶、道光時期，臺灣考上舉人、進士的人數增加，之所以會出現這樣的變化，請問：與當時的社會現象何者有關？

項目 \ 時間	康熙、雍正時期 (1684~1735)	嘉慶、道光時期 (1796~1850)
舉人	15	74
進士	0	6

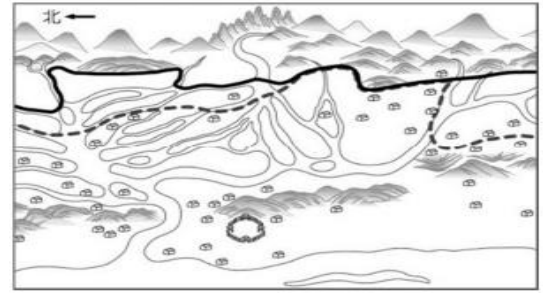
- (A) 臺灣社會已無械鬥現象，社會安定 (B) 洋人來臺創辦學校，新式教育的傳入有助於考取功名  
 (C) 臺灣開港通商，商人帶動讀書風氣 (D) 隨著社會經濟較為穩定富裕，顯示文教風氣逐漸興盛。
- ( ) 23. 清朝嘉慶年間的郝帥，找「上知天文、下知地理，左通菩薩，右通開漳聖王，全身充滿靈氣的」桃花姑聊心事，請問下列兩人的對話，何者符合當時的時空背景？  
 (甲) 郝帥：「唐山過臺灣，心肝結歸丸，我渡海來臺真緊張、艱辛。」  
 (乙) 桃花姑：「有唐山公，有唐山媽，所以郝帥你不用擔心，很容易娶到漢人女子為妻。」  
 (丙) 郝帥：「仙拼仙，拼死猴齊天，我參與朱一貴事件，還好逃入隘門，才得以保全性命。」  
 (丁) 桃花姑：「我左通菩薩，右通開漳聖王，因為我們是泉州移民，所以供奉開漳聖王。」  
 (A) 甲 (B) 甲丙 (C) 甲丁 (D) 丙丁。
- ( ) 24. 臺灣中部平埔族人，在清代平埔族群第二次遷徙時，遷往埔里盆地定居。請問：下列何者最可能為中部平埔族人遷徙到埔里的原因？  
 (A) 因起事叛亂失敗遭到清廷打壓 (B) 與漢人合作開鑿水圳彼此失和  
 (C) 不敵漢人越境開墾，壓縮生活空間 (D) 外國勢力攻打臺灣佔領土地。



【圖 7】



【圖 8】



【圖 9】

- ( ) 25. 「番仔駙馬爺」張達京促成漢人和原住民合作關係，以水權向原住民交換土地的開墾權，請問：他們所合力修築的水圳位於上【圖 7】中的何處？  
 (A) 甲 (B) 乙 (C) 丙 (D) 丁。
- ( ) 26. 上【圖 8】為清領後期臺灣出口商品比較圖。請問：下列敘述何者正確？  
 (A) 甲商品產量曾居世界第一 (B) 甲、乙商品讓臺灣經濟重心移至北部  
 (C) 丙為外銷歷史最悠久的商品 (D) 乙商品會藉由安平、打狗出口至國外。
- ( ) 27. 姜姜翻看古地圖（如上【圖 9】），發現地圖上有兩種不一樣的界線，妙妙跟她解釋，兩種線代表的意義一樣，但實線是後來界線改變後新畫的。請問：界線的改變，代表下列何種情況發生？  
 (A) 平埔族獵場逐漸擴大 (B) 高山原住民生存空間變大  
 (C) 茶葉種植從平地向內山地區移動 (D) 番界逐漸向內山地區移動。
- ( ) 28. 班會是班級學生自治活動中重要的決策會議，關於開班會時的各種角色及其任務，下列敘述何者正確？  
 (A) 紀錄：負責計算與宣布提案的表決結果 (B) 司儀：負責宣布會議名稱和會議議程  
 (C) 導師：提示會議規則，並於散會後講評 (D) 主席：對事情之表決同票時，抽籤決定。
- ( ) 29. 臺南市政府與西拉雅族跨地部落聯盟合作，將西拉雅族傳統歌謠轉化成公車到站提示音樂，2022 年 12 月起陸續在臺南市高鐵快捷公車 H31 及 H62 路線播放，讓乘車民眾感受傳統歌謠旋律。交通局長王銘德表示，市長黃偉哲為了體現文化首都豐富的族群底蘊，全力推展「臺南市族群主流化」政策，西拉雅族是臺南市的市定原住民，近日正名運動也獲得相當程度的進展。為了讓更多朋友認識這個族群，將西拉雅族的輕快傳統歌謠「進場曲」融入公車到站提示播報，並首先擇定臺南門戶的高鐵快捷公車實施。請問：上述西拉雅族傳統歌謠轉化成公車到站提示音樂，主要可以達到什麼目的？  
 (A) 生產分配作物 (B) 推廣傳統文化 (C) 決議部落事務 (D) 發展旅遊觀光。
- ( ) 30. 漫畫作品《哆啦 A 夢》當中，胖虎仗著自己身材高大，經常用拳頭欺負同齡以及比他年紀小的孩子，最常欺負的對象是大雄，另外也會常以借東西為由，自動變成他的，最後不予以歸還，被借最多的是小夫的漫畫和模型玩具，如果有人聲明歸還，即使態度卑微、低聲下氣，仍會被胖虎視為觸犯底線而挨打。針對漫畫作品敘述的行為，下列何者錯誤？  
 (A) 教育基本法明確規定學生不受霸凌行為傷害 (B) 胖虎行為大多是在影響他人身體自主的權利  
 (C) 小夫可以用財產權受損為由向老師爭取權利 (D) 大雄曾被胖虎性騷擾應通報輔導室進行調查。
- ( ) 31. 苒苒上課經常講髒話影響老師及同學，曾曾在班會時提議要求苒苒上課必須將嘴巴貼上膠帶，表決結果有 20 位同學贊成，6 位反對，4 位沒有舉手，主席宣布苒苒從下一堂課開始就必須配合此決議。關於這項決議，下列敘述何者正確？  
 (A) 導師應該提醒同學，班會無權做影響他人權益的決定 (B) 苒苒須配合此決議，因為決議是經多數決通過  
 (C) 班會只能決議提出這樣的建議，經主席同意才能執行 (D) 苒苒如果違反此決議，可依違反班規加以處罰。
- ( ) 32. 校園中有許多公共事務與學生息息相關，在遵守社會規範與校規的情況下，培養學生參與公共事務的素養。其中學生自治的實施步驟，下列何者最為正確？  
 (A) 成立讀書會→訂立讀書會規範→辦二手書義賣會 (B) 舉行班際拔河賽→確立賽事規則→組成拔河同好會  
 (C) 討論違反班規的罰則→召開班會→訂定班級規定 (D) 組織學生會→規劃畢典流程→要求學生會遵守校規。
- ( ) 33. 七年八班正在討論寒假班遊的地點，小七提議用校慶園遊會擺攤的收入補助大家出遊的費用，因此希望校慶園遊會時班上能多規畫一些高利潤的商品，其他同學聽了也紛紛提出自己認為能賺錢的建議。根據會議進行的正常程序，此時同學們該做什麼最為適當？  
 (A) 同學踴躍發言，為園遊會規畫凝聚出最佳的共識 (B) 同學提出臨時動議，請大家繼續討論期末班遊事宜  
 (C) 提出權宜問題，將討論主題轉換為園遊會的規畫 (D) 提出秩序問題，請主席約束無關班遊地點的發言。

- ( ) 34. 「霸凌」一詞來自於英語 Bullying，意指有意圖的攻擊性行為，通常伴隨著長期發生與力量不對等的特性，包含身體攻擊或精神上的欺凌。霸凌的加害者可以是個人，也可以是群體。以下哪一情況屬於校園中的霸凌現象？  
(A) 有次小財與小富兩人為追求小樂而打架 (B) 老師罰沒寫作業的小福跑操場 3 圈  
(C) 午餐時間小章總是搶奪小雄餐盒的好料 (D) 小平怒罵摔壞他手機的小安 10 分鐘。
- ( ) 35. 傳說飛魚是上天給達悟族的禮物，達悟族祖先曾經混吃不同類的魚而生病，後來黑鰭飛魚教導達悟族如何招、捕、辨認、煮食各類飛魚，因此促使達悟族對待飛魚特別心存戒慎，以各種儀式配合漁撈、煮食活動以及曬曝過程。其中飛魚又分為老人魚、男人魚和女人魚，所以當達悟族男子在捕魚時，必須捕撈到不同種的魚，以供應家裡的男女老少享用。間接抑制了過量捕殺單一魚類的危機，也兼顧了生態保育的平衡。上文中達悟族人捕飛魚的考量，顯示出下列哪一項部落的重要性？  
(A) 傳統信仰重心，以凝聚部落族人的向心力 (B) 生產分配中心，重視生態平衡與共享特質  
(C) 基本政治組織，依各族文化形成政治組織 (D) 傳統文化傳承，形塑族人對部落的認同感。
- ( ) 36. 依據《原住民族語言能力認證辦法》，族語包含聽、說、讀、寫能力，不受到國籍、族別及年齡的限制，可參加任一等級的族語能力認證。嘉義縣阿里山鄒族在鄉內開辦族語傳習教室，提供一般民眾及學生多元族語的學習管道，並設置傳統名稱標示，讓居民洽公時可接觸到標有鄒語文字的指示牌，藉此營造出族語環境，鼓勵族人日常生活中說出族語。上述有關原住民族語言的傳承上，下列哪一方面的分析最為正確？  
(A) 族語教室是部落對外進行協商的場所 (B) 傳統名稱標示展現原住民領域的維護  
(C) 國家以法律保障族語的文化以及認同 (D) 原住民族語言文化與法律有所衝突。
- ( ) 37. 召開班會的過程，學生可以學習民主議事的程序，並踴躍提出自己的意見，培養理性溝通與協調的能力。請問下列哪一位學生的發言內容符合開會的程序？  
(A) 小斑：會議開始，我們應該先進行臨時動議 (B) 小城：我提出秩序問題，現在應該先進行提案討論  
(C) 小慧：導師講評之後，我們才可以開始表決 (D) 小絮：我提出秩序問題，會議進行中請大家不要聊天。
- ( ) 38. 新竹市原住民人口約有 4467 人，而那魯灣聚落在 1982 年起陸續由臺東縣及花蓮縣原鄉部落遷徙至此，一直以來缺乏一個舉辦豐年祭的場地。為了解決長年以來缺乏公共集會空間，新竹市香山區的西海岸、唯一的阿美族聚落「那魯灣部落」於 2021 年 12 月 31 日正式啟用。原住民族委員會主委夷將·拔路兒 (Icyang Parod) 表示：「那魯灣文化聚落集會所落實了都市原住民族文化發展政策，未來原民會與新竹市政府也將持續推動結合長照、產業、族語教學、文化健康站等資源，讓原住民族文化能在城市永續發展。」請問上述原住民族委員會主委的論述主要希望達到下列什麼目的？  
(A) 青銀共學、部落共工 (B) 老青共好、青銀共居 (C) 促進就業、母語傳承 (D) 部落觀光、永續發展。
- ( ) 39. 屏東縣牡丹鄉排灣族四林村高姓村民的老屋要重建，20 多名族人開始分工合作，老屋拆除、建材貨料到位後，師傅級的族人帶著後輩灌水泥打地基、綁鋼筋、砌磚牆，不僅贊助部分建材，工錢全免，估計省下三分之二的費用；族人曾德榮說：「這就是原住民代代相傳的部落合作機制，更開心我們還保留著。」上述排灣族四林村高姓村民所採用的機制後，族人曾德榮的論述是展現出哪一項部落的重要性？  
(A) 落實部落自治會議，建構部落事務共識 (B) 復振部落傳統文化，促進部落就業機會  
(C) 強化日常照顧功能，推動健康部落生活 (D) 回復共工互助文化，凝聚生命共同扶持。