

國立南科國際實驗高級中學 111 學年第 1 學期九年級社會科補考題庫

一、單選題

- () 史學家艾克頓 (Lord Acton, 1834-1902) 認為法國大革命在實際行動前已在法國人民腦海中形成，法國有民諺謂：「都是伏爾泰的錯；都是盧梭的錯。」其意義是法國大革命的思想源自：
(A) 宗教改革 (B) 啟蒙運動 (C) 科學革命 (D) 文藝復興。
- () 一個宗教團體出版信仰手冊，要求信徒崇拜聖人遺骨、向遺骨祈禱、到羅馬朝聖、肯定羅馬教宗的赦罪權、主張教義須遵循羅馬教廷的解釋。這個團體最可能是：
(A) 東正教 (B) 耶穌會 (C) 路德教派 (D) 喀爾文教派。
- () 「這個宗教才創立短短一百年的時間，便已向外傳播，西亞、北非、伊比利半島均可見到這個宗教……雖然各地語言、文化不同，但憑藉著宗教的凝聚，一個橫跨歐亞非三洲的大帝國形成了……。」請問：上文描述的最可能是：(A) 佛教 (B) 猶太教 (C) 基督教 (D) 伊斯蘭教。
- () 「西印度群島中的聖多明各，是歐洲人最早取得的殖民地之一。當地原住民在十五世紀末有四十多萬人，但到了十六世紀末原住民就差不多絕跡了。」上述情形最有可能是何種因素所造成？
(A) 當地內戰頻繁，屍橫遍野 (B) 當地天災嚴重，糧食缺乏
(C) 入侵者帶來嚴重的傳染病 (D) 當地衛生不良，疾病叢生。
- () 有學者認為 1543 年哥白尼《天體運行論》的出版象徵了一個新時代的開始，請問：持此看法的主要依據為何？
(A) 此書證實了伽利略的太陽中心說 (B) 此書促成基督教世界第二次分裂
(C) 此書挑戰傳統基督教會的宇宙觀 (D) 此書刺激了十八世紀的民主革命。
- () 著名的思想家馬克思曾經如此形容印度：「他們被一個又一個入侵者侵略，他們就在這樣一無抵抗、二無變化下的消極基礎上生活著。」請問：關於印度歷史的發展，下列敘述何者正確？
(A) 西元前 1500 年阿利安人入侵，帶來伊斯蘭教與種姓制度
(B) 西元前三世紀，阿育王因感自身殺戮過重，積極宣揚佛教
(C) 西元十六世紀，蒙兀兒帝國建立，伊斯蘭教成為印度國教
(D) 西元十九世紀，英國成為印度新的殖民者，廢除種姓制度。
- () 老師要同學寫出幾位對基督教發展影響重大的關鍵人物與事蹟，請選出內容完全正確者。
(A) 狄奧多西：認為非基督徒均為異端應受法律制裁
(B) 馬丁路德：發表九十五條論綱，基督教首次分裂
(C) 君士坦丁：發布詔令，宣布基督教成為帝國國教
(D) 查士丁尼：將聖索菲亞清真寺改建為基督教教堂。
- () 中古後期，歐洲某一地區的商人用西方的絲織品、金屬品等交換拜占庭和伊斯蘭教徒的精細工藝品，或是從東方來的香料、絲、棉、糖、染料等。他們回到本土後將東方的貨物，除了少數為供應當地市場的需要外，其餘則以批發價格售予資本較小的商人，再由他們轉售到其他地區，所得獲利甚多。試判斷，上文所述應是指何地？
(A) 義大利 (B) 西班牙 (C) 葡萄牙 (D) 英格蘭。
- () 人文學者米拉多蘭曾經自問：「為什麼人類是萬物中最幸運的？」「為什麼人在宇宙中占了如此重要的地位？」他自己回答說：「上帝創造了這個世界以後，希望人類能欣賞這個世界的美麗，並歌頌這個世界的偉大，於是上帝同時賦予人類自由的意志。人類可以自由自在地在這個世界做出他們所願望的一切。」根據上文，請選出最符合此一時代精神的論述：
(A) 希臘羅馬時代：從城邦到帝國的興衰發展
(B) 文藝復興時代：從上帝之城轉到人類之城
(C) 宗教改革時代：挑戰威權，人人皆是教士
(D) 啟蒙運動時期：尊崇理性，批判傳統教條。
- () 右圖中的硬幣為位在南半球的某國於 2019 年所發行。自歐洲人十八世紀移入該地以來，已有約 130 種原住民語絕跡。該國希望藉由此硬幣的發行，提醒人民保存、維護和活化原住民語的重要性。上述硬幣最可能由下列何國發行？
(A) 印度 (B) 澳洲 (C) 秘魯 (D) 菲律賓。
- () 某書載：「……7 世紀起…開始扮演基督教世界的守門員，抵擋伊斯蘭狂潮，在 1204 年後，帝國只剩省的規模，最後甚至是個城市，但皇帝始終堅持超強帝國的自尊及自負，卻也強烈意識到時不我予……」試問：上文的主詞應該是：
(A) 羅馬帝國 (B) 蒙兀兒帝國 (C) 拜占庭帝國 (D) 鄂圖曼帝國。



硬幣此面列出「貨幣」的14種原住民語，硬幣下方特別設計一處留白，來代表該國其他已喪失的語言；硬幣的另一面為英國女王頭像，象徵該國殖民時期與英國的歷史淵源。

12. () 歷史事實與歷史解釋不同，最大的差別在於歷史事實是呈現客觀的事實本身；而歷史解釋則是史學家對史實的詮釋。就歐洲歷史上的科學革命而言，下列哪一項敘述屬於歷史解釋？
- (A) 笛卡兒強調藉由邏輯推演來獲取新知
 (B) 伽利略用望遠鏡證實哥白尼的日心說
 (C) 望遠鏡、溫度計、顯微鏡等工具問世
 (D) 這個時期被學者稱為「天才的世紀」。



13. () 右圖為十六世紀的手稿本，每頁有左、右兩欄，左欄是西班牙文，右欄是以拉丁文字母書寫出的納瓦特爾語。成書過程先是方濟會傳教士請耆老以當地的納瓦特爾語解釋其文化和宗教習俗，再由傳教士及其學生等人編寫右欄、繪製插圖，最後再將右欄內容譯成西班牙語，寫在左欄。納瓦特爾語最可能是何地的語言？
- (A) 巴西 (B) 印度 (C) 印尼 (D) 墨西哥。

14. () 「我不認同你的話，但我誓死捍衛你說話的權利。」是啟蒙運動學者伏爾泰的名言，他在哲學上有卓越成就，也以捍衛公民自由，特別是言論與信仰自由和司法公正而聞名。其人著作之多，被稱為是法蘭西思想之王。請問：如果伏爾泰是一個活在 21 世紀的作者，下列哪一本書最不可能出自於他的手筆。
- (A) 《揭開司法界的五十道陰影》 (B) 《被討厭的勇氣：言論自由不能放棄》
 (C) 《哥在乎的不是信仰，是理性》 (D) 《大國崛起：伏爾泰的市場經濟聖經》。

15. () 有一本書上寫著：有一個城市在 1503 年曾設有「美洲交易之家」，美洲的白銀、黃金皆由此城市流入歐洲，成為當時歐洲最富有的國際城市。請問：這是指哪一個城市？
- (A) 英國的倫敦 (B) 義大利的佛羅倫斯
 (C) 西班牙的塞維爾 (D) 荷蘭的阿姆斯特丹。

16. () 十八世紀是理性主義發達的時代，當時的人們相信，理性的法則不僅可用於自然界，亦可用於人類的政治與社會發展。請問：下列哪一項敘述符合此一時期人們的看法？
- (A) 上帝創造了宇宙，祂制定了一切運作的規則，主導整個宇宙的運行
 (B) 尊崇人文主義，全盤否定各種宗教儀式與迷信，尤其是天主教教規
 (C) 被壓制在內心而無法察覺到的潛意識，是主導人類行為的重要力量
 (D) 人類擁有上天賦予的基本權利，任何統治者或政權都不得任意剝奪。

17. () 1610 年代，印度蒙兀兒王室所屬商船「拉希米號」，在印度洋兩度遭歐洲人劫持：
- 【事件一】：1612 年 4 月，英格蘭東印度公司船隊劫持「拉希米號」，勒索 4000 英鎊贖金。蒙兀兒皇帝對東印度公司進行制裁，責令英格蘭人歸還，否則禁止其在境內蘇拉特經商。東印度公司衡量利弊，不久即屈從皇帝的要求。

【事件二】：1613 年，「拉希米號」商船又被葡萄牙人劫持，蒙兀兒皇帝大怒，派兵攻打葡萄牙在蒙兀兒帝國境內的商業據點。葡萄牙人審度得失，決定交還「拉希米號」。

我們應如何正確地詮釋蒙兀兒帝國的處置與歐洲人的反應？

- (A) 蒙兀兒帝國排斥商業，欲藉拉希米號事件切斷歐洲商務
 (B) 歐洲人未取得本國政府的許可，無法對印度統治者宣戰
 (C) 蒙兀兒帝國擁有軍事科技之優勢，歐洲人無法與之抗衡
 (D) 蒙兀兒帝國善用自身優勢，利用歐洲人的弱點加以對付。
18. () 2022 年 12 月 18 日世界盃足球冠亞軍戰，這場決賽阿根廷與衛冕軍法國，兩強廝殺超級精彩，一路纏鬥到延長賽，法國和阿根廷以 2:2 平手，比數緊咬持續戰到 PK 最終延長加賽，阿根廷最後獲得勝利。請問，附表為兩國比較，以下何者完全正確？

		法國	阿根廷
甲	首都經緯度	巴黎(58° W, 34° S)	布宜諾斯艾利斯(2° E, 48° N)
乙	產業	鋼鐵、汽車、通訊	熱帶栽培業
丙	氣候	溫帶海洋、溫帶地中海	草原、熱帶沙漠、夏雨型暖溫帶
丁	主要地形	歐洲大平原	彭巴草原、巴塔哥尼亞高原

- (A) 甲乙 (B) 乙丁 (C) 丙丁 (D) 丁。

19. () 某個著名美國品牌公司網頁的行銷詞：「COTTON USA 致力為您帶來最即時的棉花創新成果。這是我們為整個棉花供應鏈所貢獻的卓越價值，也是 COTTON USA 成為全球的信賴棉花的原因之一。我們採用革命性的技術能消除汗水造成的不適，使消費者更感舒暢與自信。這項新技術製成的棉料衣物能消除尷尬異味並吸濕排汗，維持一整天的清爽。」請問：這家公司的原物料應該來自右圖哪個區域？
- (A) 乙 (B) 丙 (C) 戊 (D) 己。



20. () 下圖為美國重要都市分布圖。寒假即將到來，白富美想為自己規畫北美洲快閃旅遊，因此擬好一份行前計畫。下列行程規畫何者有誤？

- (A) 第一天：抵達美國的第一大城「乙」，參觀自由女神像
- (B) 第二天：參觀「丙」都市，此都市曾受颶風嚴重侵襲
- (C) 第三天：參觀「庚」的太空梭發射基地，並親身體驗太空人的無重力訓練
- (D) 第四天：抵達好萊塢「戊」，參觀環球影城並欣賞巨星風采。




21. () 台灣夏季炎熱，民眾對手搖飲料的需求愈來愈大，飲料店的開設數量已經超乎我們的想像，常常在一條街上就有好幾十家飲料店的分布，已達飽和狀態，因此不少手搖飲業者積極拓展海外據點。飲料店的設置條件主要在於人口的聚集，若僅考慮此因素，下列哪個地理區最適合規劃設立分店？

- (A) 中南半島北部 (B) 南亞恆河中下游 (C) 朝鮮半島東北部 (D) 亞馬孫盆地一帶。

22. () 美國電影工業相當發達，近年來許多描述因氣候異常而導致災難的電影都大受好評，這些電影常以美國境內氣候災害經常發生的地點作為背景，右圖是電影公司想拍攝的電影海報，請問關於電影的各項劇情及場景設定何者正確？

- (A) 龍捲風發生地點多在地形陡峭地帶，劇組工作人員須上山取景
- (B) 龍捲風是因為地球暖化之極端氣候造成，電影中可編寫環境保育內容教育觀眾
- (C) 美國電影工業的聖殿——好萊塢，招牌也屢次被龍捲風摧毀，可編寫至此部電影劇情中
- (D) 每年春、夏季節交替時為龍捲風好發時期，故演員服裝須穿著春夏裝以符合現實生活真實情景。



23. () 2022 年 10 月 8 日克里米亞大橋發生大爆炸，暫時中斷兩岸的交通，如附圖，此大橋聯繫俄羅斯本土和克里米亞地區。2014 年俄羅斯出兵佔領克里米亞，於 2018 年興建跨海大橋，是俄羅斯入侵烏克蘭南部的重要戰略物資補給路線。請問克里米亞所在的海域如下圖中的甲海域為何？

- (A) 黑海
- (B) 裏海
- (C) 北海
- (D) 波羅的海。



24. () 北歐國家每到 10 月底就開始出現「冬日抑鬱」，三個多月裡日照時長只有 50 小時，其餘時間不是天黑就是下雪。早上 9 點左右天才亮，而且是微亮。下午 3 點天就黑了，4 點之前完全呈現黑夜。因此瑞典一家圓頂之光咖啡室 (Iglo Light) 發起「陽光屋」光明療法，特別提供一種燈光治療服務。顧客坐在一個天花板裝滿大燈，長時間照射白色牆壁的房間。燈光代替陽光，令人感覺身在白天，藉此振奮他們的情緒。以上這段敘述跟下列哪一個因素相關？

- (A) 境內冰河地形發達 (B) 社會福利政策完善 (C) 靠近或進入極圈內 (D) 暖流影響雨量豐沛。

25. () 附圖是某年世界七大經濟國 GDP 圖，這些國家的經濟產值高，對世界經濟具有相當大的影響力。

- (甲) 全部的國家都有領土位於北半球
 - (乙) 這些國家當中以歐洲所占國家數最多
 - (丙) 其中有二個國家是金磚五國
 - (丁) 美國、中國、法國、巴西都是各洲人口最多、經濟產值最高的國家
- 關於世界七大經濟國的敘述有哪些是正確的？

- (A) 甲乙丙 (B) 甲乙丁 (C) 乙丙丁 (D) 甲乙丙丁。

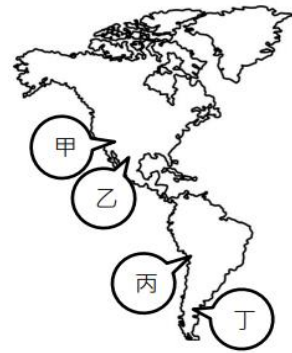


26. () 有人說古巴是世界最甜的國家，盛產甘蔗有『世界糖罐』之稱，厄瓜多是世界香蕉出口量最多的國家，有『香蕉王國』之稱，這些中南美洲國家的農業生產有何特色？

- (甲) 這是屬於殖民地式的經濟型態 (乙) 大部分國家目前仍被列強殖民
 - (丙) 農產品價格易受國際市場價格波動影響 (丁) 屬於粗放的熱帶栽培業。
- (A) 甲乙丙 (B) 甲丙丁 (C) 甲丙 (D) 乙丁。

27. () 臺灣的陽明海運計畫發展經由巴拿馬運河航線，藉由規劃最短航線來提高服務品質。下列那個航行路線最可能被納入此計畫？

- (A) 古巴雪茄→夏威夷 (B) 美國牛肉→瑞典
(C) 智利銅礦→西雅圖 (D) 巴西咖啡→鹿特丹。



28. () 右圖為美洲四個沙漠氣候區，下列相關敘述何者正確？

- (A) 甲、乙皆因副熱帶高壓籠罩而形成沙漠
(B) 甲、丁皆因背風坡與寒流的影響而形成沙漠
(C) 乙、丙皆因副熱帶高壓籠罩與涼流的影響而形成沙漠
(D) 四個沙漠的共同特徵是乾燥少雨、年溫差大。

29. () 附表是歐洲三個緯度相當的城市，為英國倫敦、德國柏林和波蘭華沙，根據表中的氣候基本資料及相對位置，運用所學知識判斷，下列敘述何者正確？

- (A) 年溫差最大者應為柏林 (B) Y 為年均溫 (C) 三地皆為寒帶氣候 (D) 甲應為倫敦。

都市	甲	乙	丙
經緯度	(51°N, 0°)	(53°N, 13°E)	(52°N, 21°E)
Y	13.0	18.3	21.3
年降水量	754mm	591mm	515mm

30. () Taco 又名「塔可」，是在墨西哥當地相當常見的食品，以一張□□粉製成的薄餅，將不同風味的肉餡與莎莎醬、番茄粒放入其中，捲成 U 字型，一口咬下後，隱隱透著迷人的□□香氣，難怪吸引一票忠實信徒。上列敘述中此美食的餅皮是以中南美洲為原產地的糧食作物做成的，請問□□中應填入何者？

- (A) 玉米 (B) 青稞 (C) 水稻 (D) 椰棗。

31. () 『加拿大某區因水運便利且人口稠密而成為該國工業最發達的地區，但也因此經常出現酸雨侵襲的現象，造成土壤肥力明顯下降。』請問：上述某區所指的地點最可能為下圖中的何處？

- (A) 甲
(B) 乙
(C) 丙
(D) 丁。



32. () 小西計畫從 6 月開始到南美洲旅遊二個月，他想以網路上找到的「南美洲最佳公路旅行路線圖」做為旅行的主要路線。如右圖，根據路線圖的說明，建議旅行者由地點 A 委內瑞拉的瑪格麗塔島 (Isla Margarita) 出發，再順時針向南旅行。請問，當小西從地點 E 百內國家公園一路向北開，途經地點 F 智利的首都—聖地牙哥市，之後抵達地點 G 阿塔卡馬小鎮，請問沿途可以觀察到什麼現象？

- (A) 氣候由溫帶海洋逐漸變為熱帶雨林氣候
(B) 到達聖地牙哥市時，正好是當地的乾季
(C) 一路上可以看到西側一望無際的大西洋
(D) 由南而北沿途降雨量有逐漸減少的現象。



《題組》請依下文敘述回答 33-34 題

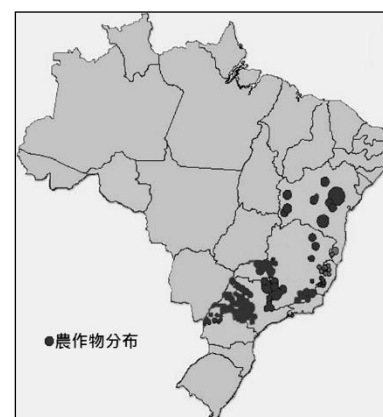
右圖為南美洲巴西境內某一種農作物的空間分布圖，巴西為世界第一大生產國，亦是世界第二大消費國，該農作物是在 1720 年殖民當地的一位歐洲白人上尉弗朗西斯科·帕列塔從法屬圭亞那引進，到了 1845 年巴西該農作物的產量已占全世界的 45%，其生長條件為年均溫 15°C~25°C，年降水量 1500mm~2000mm，海拔約 500 公尺~2000 公尺且排水良好的坡地，請根據此文回答 33-34 題：

33. () 上尉弗朗西斯科·帕列塔最可能來自於歐洲哪一個國家？

- (A) 英國 (B) 法國 (C) 西班牙 (D) 葡萄牙。

34. () 該作物大多數在每年的旱季收成，請問：其收成季大約分布在下列哪一段時間？

- (A) 12~2 月 (B) 3~5 月 (C) 6~8 月 (D) 9~11 月。



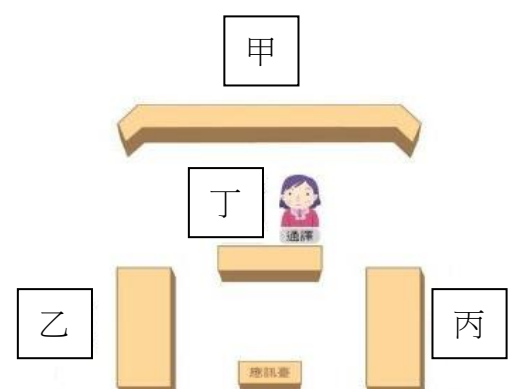
35. () 阿宗為了111年九合一選舉，特別從美國返台投票，依憲法保障的基本權利類型判斷，上述阿宗的投票行為，與下列何者相同？
 (A)小光申請加入台灣民眾黨 (B)阿成提起訴訟以解決私人糾紛
 (C)小健通過國家考試於法院任職 (D)阿中投稿到報社表達對修憲案的看法。
36. () 有學生正在觀賞司法院的宣導短劇。劇中角色甲說：「庭上，本次我方所以代表國家起訴被告，是因為被告違反了法律。」劇中角色乙立刻表示反對意見：「抗議！並沒有明確的證據足以證明我的當事人有罪。」關於此短劇的相關敘述，下列何者正確？
 (A)角色甲負責指揮警察偵查犯罪證據
 (B)角色甲在普通法院擔任國家委託行政訴訟案件代理人
 (C)角色乙接受法律扶助基金會委託，代理民事訴訟案件
 (D)角色乙出現在普通法院中，負責審理普通法院之案件。
37. () 有些大學生為了節省開銷而使用盜版教科書，嚴重影響圖書業者的權益，因此某圖書協會向政府陳情，希望能修法將盜印書籍的行為，由告訴乃論改為非告訴乃論之罪。根據上述內容判斷，下列敘述何者最正確？
 (甲)大學生使用盜版教科書已構成侵權
 (乙)能實現該團體要求的中央政府機關為司法院
 (丙)某協會陳情的訴求是向上級行政機關提起訴願
 (丁)若修法通過，盜印書籍紛爭就不再能以調解解決。
 (A)甲丁 (B)乙丙 (C)丙丁 (D)甲丙丁。
38. () 《少年事件處理法》的目的在於保障少年健全的成長，調整其成長的環境與矯正其品行。請問：下列關於此法的敘述，何者正確？
 (A) 13歲的小莉在文具店行竊，但她在刑法上屬無責任能力人，所以不適用該法規定
 (B) 14歲的小新觸犯妨害名譽罪，應移送地方法院檢察署，由檢察官偵辦
 (C) 15歲的小凱無照駕駛並闖紅燈，因情節輕微，屬少年保護事件，被處以保護處分
 (D) 16歲的小龍犯擄人勒贖罪遭到警察逮捕，移送少年法庭調查後，交付檢察官偵辦。
39. () 阿治在網路上分享自己飼養食人魚的影片，引發了爭議。由於他飼養保育類動物的行為，涉嫌違反《野生動物保育法》，一旦遭定罪，最重將可能面臨有期徒刑的處罰。根據上述內容判斷，若阿治遭罰但不服，他採行下列哪一方式進行權利救濟最適當？
 (A)向行政院農委會提出請願 (B)向高等法院提起上訴
 (C)向訴願管轄機關提出訴願 (D)採ADR，向法院聲請調解。
40. () 並木是一位法官，右表是他在不同時期曾經審理的案件數量與分類。根據右表中資料判斷，下列哪一項推論最合理？
 (A)提起公訴的案件可能為 27 件
 (B)由普通法院審理的案件為 145 件
 (C)可以聲請調解委員會調解的案件為 152 件
 (D)可訴訟外和解的案件數量比可訴訟上的和解的數量要少。

類型	件數
行政案件	7 件
民事案件	125 件
告訴乃論之刑事案件	20 件
非告訴乃論之刑事案件	13 件

41. () 依照下列敘述排序四者的年齡，由小到大依序排列，請問下列何者正確？
 (A)甲、乙、丙、丁 (B)丁、甲、乙、丙 (C)甲、丙、乙、丁 (D)丁、甲、丙、乙。

甲	雖然已經是國中生，但老師說我如果犯罪在刑法上屬於不罰的階段。
乙	再過幾天就是我的生日啦！終於可以和男朋友仲基結婚了！
丙	我是勞基法中的童工，不得於 20:00 ~ 06:00 工作。
丁	今年我已經不再是《兒童權利公約》中所稱的「兒童」了！

42. () 國民法官制度112年元旦正式上路，所謂國民法官，是指將國民多元的視野與經驗納入審判中，幫助司法判決更全面，來自各行各業的民眾，一起參與共同審判的制度，專責審理「本刑10年以上有期徒刑」或「故意犯罪因而發生死亡結果」等罪，法院於裁定前並應聽取國民法官之意見。請問：國民法官於法庭中的位置，應於右圖中何處？
 (A)甲 (B)乙 (C)丙 (D)丁。



43. () 知名迴轉壽司店舉辦活動，姓名與鮭魚同音同字，即可免費用餐。據業者統計，活動期間內有近千人次改名「鮭魚」免費用餐，若以每桌 5 千元估算，壽司店可能要自行吸收 500 萬的餐費；但也有不少行銷專家認為，以成本約 1/3 來計算，其實負擔的成本並不算高，但「話題聲量」卻創新高，廣告價值至少破千萬。請問：壽司店舉辦免費用餐活動吸引民眾改名來店消費，屬於法律的哪一原則？
(A)誠實信用原則 (B)契約自由原則 (C)無罪推定原則 (D)罪刑法定原則。
44. () 在我國刑事法規中，若以告訴權人提起告訴為追訴條件的罪名(例如:毀損罪)，稱之為「告訴乃論」之罪；反之，不以告訴為追訴條件的罪名(例如：殺人罪)，則為「非告訴乃論」之罪。媒體報導時，經常將非告訴乃論之罪稱為「公訴罪」，但嚴格來說，刑法並沒有所謂的「公訴罪」。下列關於這幾種概念的說明，何者正確？
(A)告訴乃論之罪，被害人可採自訴，自己向法院提起刑事訴訟
(B)凡在刑法規定中屬告訴乃論之罪者，檢察官即不可提起公訴
(C)公訴是指由檢察官代表國家，針對犯罪行為向法院提起訴訟
(D)凡屬非告訴乃論之罪者，法院可以不待檢察官起訴，逕行審判。
45. () 新冠肺炎防疫期間，有民眾在網路販售醫療用的口罩，而販賣醫療用品，必須取得藥商許可證，如果沒有取得許可販售，衛生局將認定違反《藥事法》的規定，裁處以三萬元至十五萬元。上述違反法規者所承擔的法律責任，其性質與下列何者相同？
(A)怒罵他人「廢物」，遭罰2萬元 (B)向銀行貸款，未依規定時間償還
(C)允許兒童及少年抽菸喝酒的父母 (D)侵入他人線上遊戲帳號竊取虛擬寶物。
46. () 湯姆開著老爸送的汽車第一次上路，在轉彎時速度過快，不慎撞上前方機車，導致機車騎士傑利受重傷，機車也嚴重損壞，由於重傷不屬於告訴乃論罪，湯姆積極向律師尋求法律諮詢。針對這次車禍衍生的民、刑事訴訟，律師最不可能提供湯姆下列哪一項建議及說明？
(A)可到公所的調解委員會，調解車輛維修費用
(B)此事件的刑事訴訟程序會因為在法庭上和緩而終止
(C)雖可依和解約定撤回告訴，但檢察官還是會繼續追究
(D)透過私下和解，簽訂和解書，協調醫療所需費用，若他方反悔，亦無強制執行力。
47. () 小光 12 月初於大賣場看到巧克力主打買一送一的超強促銷優惠，於是買了四盒回家。但他在聖誕夜發現其中兩盒巧克力有效期限已經過期三個月，小光對於銷售者利用促銷，販賣過期商品感到生氣。針對上述購物糾紛，下列相關法律規範何者正確？
(A)根據《公平交易法》，小光可向公平交易委員會提出訴訟，請求賠償
(B)根據《民法》，小光因當時沒有簽訂書面契約，故無法退貨或請求賠償
(C)依據《民法》，小光可以主張店家並沒有遵守「誠實信用」原則並要求賠償
(D)依據《消費者保護法》，小光可以主張「七日鑑賞期」要求店家無條件退貨。
48. () 南科實中舉辦一場法治教育的演講，下列是有獎徵答的題目，依照現行法律規定，請問哪些題目的敘述是正確的？
(A)甲戊 (B)乙丁 (C)丙丁 (D)甲乙戊。

題目	有獎徵答問題
甲	若只考慮年齡條件，滿18歲，已達法定結婚年齡，不須法定代理人同意，就可結婚。
乙	18歲是成年人，擁有公民權，即擁有選舉、罷免、創制、複決、公民投票的權利。
丙	憲法為國家根本大法，修憲程序較為複雜，須由立法院提案，交由憲法法庭審理。
丁	褫奪公權為刑法從刑，是剝奪犯罪者所有的參政權。
戊	受監護宣告者，不慎打破鄰居的窗戶，法定代理人要負連帶賠償。

49. () 行政法指所有關於國家行政機關行使職權與運作的法規總稱，與人民的生活也密不可分，下列是阿全的一天，下列哪一件行為不屬於「行政法」的範圍？
(A)一如往常的走路上學，一路上都遵守交通規則
(B)到超商買了最喜歡的花生吐司、紅茶當作早餐
(C)站在學校大門前，思索國中生是否可以不上學
(D)放學回家，看到爸媽為了所得稅的支出而煩惱。
50. () 附圖是阿平上課報告時所舉的例子，據內容判斷，下列何者最可能是該報告的主題？
- | |
|--|
| <ul style="list-style-type: none"> • 於公務員依法執行職務時，聚眾喧嘩，致礙公務進行者，處新臺幣 12,000 元罰鍰。 • 不良場所業者應拒絕兒童及少年進入，違者將被主管機關處以罰款，並公告負責人姓名。 |
|--|
- (A)政府可依法取締違規增加國家稅收
(B)政府可透過刑事處罰減少不法事件
(C)政府可制定民事法規解決民事糾紛
(D)政府可藉由行政處分處理違法行為

111 學年度第一學期九年級社會科補考題庫答案

1	2	3	4	5	6	7	8	9	10
B	B	D	C	C	B	A	A	B	B
11	12	13	14	15	16	17	18	19	20
C	D	D	D	C	D	D	D	D	D
21	22	23	24	25	26	27	28	29	30
B	D	A	C	A	C	A	D	D	A
31	32	33	34	35	36	37	38	39	40
B	D	D	C	C	A	A	D	B	A
41	42	43	44	45	46	47	48	49	50
C	A	B	C	C	B	C	A	B	D