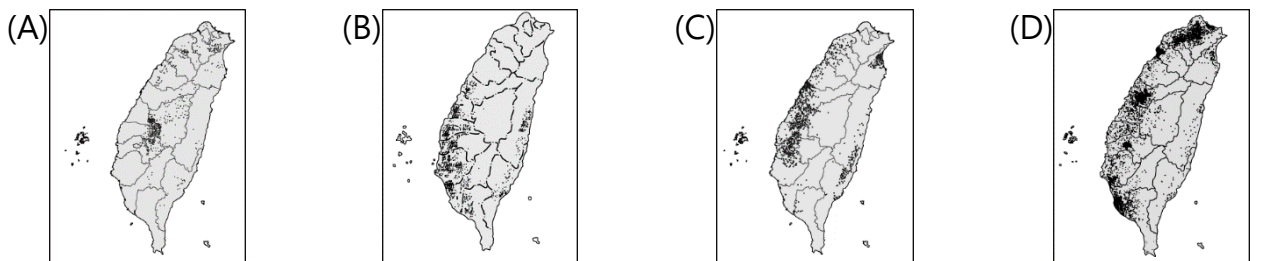


一、選擇題

()01. 臺南市西港區有個名為「雙張廊」的地名，根據清代《安平縣雜記》記載，傳統的製糖間會以「張」作為單位，一張代表一座糖廊，雙張則代表兩座糖廊，而「廊」則是臺灣過去製糖產業的加工場所，在日治時期新式糖廠出現前主要的製糖場所，其分布位置大多留下「廊」字眼的地名。「廊」地名的分布與製糖業的原料分布有高度相關，請問：其原料分布最能用下列哪張圖表示？



()02. 右【圖 1】是中南美洲有「仙人掌之國」的某國國徽，圖中顯示著一隻老鷹叼著蛇站在沙漠的仙人掌上，其設計由來為早期四處流浪的阿茲提克人，根據太陽神的指示，在該國境內找尋到國徽上的景象就此定居。請問：下列哪個地理區，和「仙人掌之國」具有相同的沙漠成因？



【圖 1】

- (A)美國西南部沙漠
- (B)智利阿他加馬沙漠
- (C)中國塔克拉瑪干沙漠
- (D)阿根廷巴塔哥尼亞沙漠。

()03. 古柯和祕魯人的生活可以說有著密不可分的關係。古柯 (Coca) 是一種原生於南美洲祕魯、玻利維亞一帶的植物；早在數千年前，印加人就已有使用古柯的習慣，不僅是醫療上的麻醉藥物，也是平常生活中提神、抗飢、補充體力的重要食材；而身處海拔 3000 公尺以上的高山國度，在旅館、餐廳等地方常會看到古柯葉 (如右【圖 2】) 或古柯茶包，可以緩解高山反應的症狀。

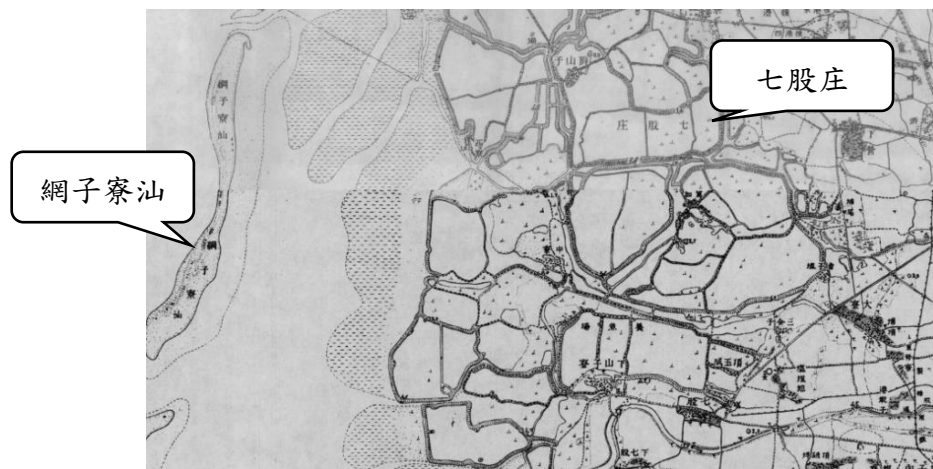


【圖 2】

請問：根據前述文字，在中南美洲下列哪個地理區旅遊時，最容易在旅館、餐廳看到古柯葉或古柯茶包？

- (A)彭巴草原
- (B)洛磯山脈
- (C)亞馬孫盆地
- (D)安地斯山脈。

()04. 下【圖 3】是日治時期臺灣某地區的地圖，根據圖中的資訊判斷，下列哪種地名最不可能也出現在此地區？



【圖 3】

(A)湖 (B)埔 (C)鹽埕 (D)鯤鯓。

()05. 右【圖 4】是某個世界組織，其宗旨是透過談判制定貿易規則，並監督會員對規則之執行，使國際貿易有秩序可循。臺灣在 2002 年加入後，對於在地農業有一定程度的衝擊，但也帶動國內的飲食全球化，請問：臺灣在加入此組織後，下列哪項影響的敘述完全正確？

- (A)因應國外農產品大量進口，農民多改為粗放耕作
(B)由於國外農產品進口量大增，臺灣增加關稅收入
(C)由於食物里程越來越長，運銷過程食安風險降低
(D)學者提倡地產地消，帶動地方飲食文化產業發展。



【圖 4】

()06. 隨著交通革新、冷鏈技術的進步，國際間的農產品與食品能夠互通有無。近年來知名美式賣場的自有品牌鮮乳因容量多、較便宜且又能保存較久，藉由極高溫瞬間殺菌技術讓牛奶在開封前能夠存放 70 天，讓遠在臺灣的消費者也能夠喝到來自美國的鮮乳製品，深受消費者的喜愛。請問：由於前述的農業技術進步，可以降低下列哪一項區位條件的限制？

- (A)市場 (B)原料 (C)交通 (D)政策。

()07. 地名，可以反映一定的文化意涵，臺灣近 400 年來經歷不同的政權，也出現符合不同時期的地名。以下是五組臺灣的地名，請問：若按照歷史時間順序排列，下列何者正確？

(甲)彰化、嘉義；(乙)高雄、松山；(丙)麻豆、大員；(丁)左營、前鎮；(戊)仁愛、三民。

- (A)甲戊丙丁乙 (B)乙丁甲丙戊 (C)丙甲丁乙戊 (D)丙丁甲乙戊。

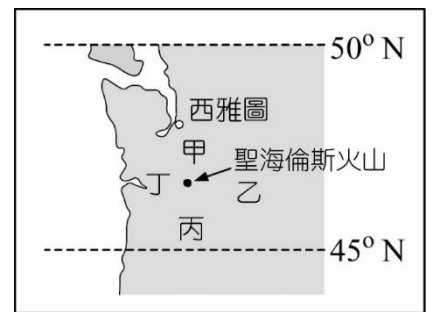
()08. 在 1996 年首次開放商業化種植基因改造作物以來，全球種植面積從 170 萬公頃上升至 2018 年的 1,917 億公頃，全球允許種植基因改造作物的國家有 26 國，其中前五大國家分別為美國、巴西、阿根廷、加拿大與印度，合計約佔 91%。請問：依據前述內容，下列哪一條河川最不可能是主要種植基因改造作物的流域？

- (A)恆河 (B)尼羅河 (C)密西西比河 (D)拉布拉他河。

()09. 「這個國家有豐富的海洋資源，也是世界生產葡萄酒的龍頭之一，還可以在沙漠中行走宛如月球漫步，更可以在陸地的盡頭看見企鵝、冰川與峽灣，與南極隔著海峽相望。」請問：根據前述文字的內容，最有可能是指下列哪個國家的自然環境？

- (A)祕魯 (B)智利 (C)紐西蘭 (D)阿根廷。

- ()10. 西元 1980 年 5 月 18 日的早晨，北美洛磯山脈的聖海倫斯火山爆發，岩漿外溢，火山灰遮蔽天空，高溫氣團摧毀無數生物，並且引發積雪融化，形成狂流，吞沒沿途的橋梁屋宇。請問：根據該地區氣候特色判斷，在火山爆發後，火山灰大部分會吹向



【圖 5】

【圖 5】中的哪一個方向？

- (A)甲 (B)乙 (C)丙 (D)丁。
- ()11. 中南美洲受到殖民地式經濟的影響，人口分布和聚落發展會呈現特殊的地理現象。下【表 1】是 2010 年阿根廷國家、首都及首都周邊都會區的人口與面積統計相關資料，從圖中的資訊判斷，下列哪個敘述最能夠解釋表中的地理現象？

項目	名稱	面積 (km ²)	人口數 (萬人)	人口密度 (人/ km ²)
國家	阿根廷	2,780,400	4,122	15
首都	布宜諾斯艾利斯	203	289	14,236
首都周邊都會區	大布宜諾斯艾利斯	4,758	1,274	2,678

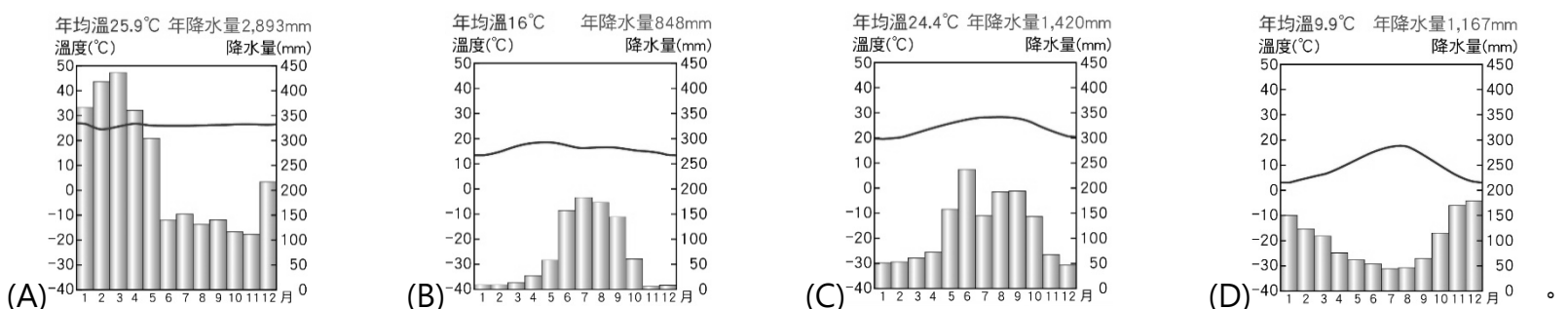
【表 1】

- (A)由於地形因素，首都山高涼爽適宜人居住 (B)甘蔗的生產需要大量勞力，並由首都出口
(C)鄉村過於貧窮，強大推力使居民移往都市 (D)國家位在高溫多雨的環境，糧食生產充足。

◆ 請閱讀下文，根據文中敘述回答第 12-13 題：

中美洲具有充足的陽光、肥沃的土壤、豐富的勞動人口，過去歐洲人在殖民時期將原產於非洲的咖啡傳入中美洲種植。中美洲「部分地區」日夜溫差大的氣候特色，讓咖啡在白天獲得充足的日曬，夜晚則可適當休息，使得咖啡豆成熟飽滿，但又不過度熟成，發展出不同於非洲的獨特風味。目前中美洲已成為世界四大咖啡產區之一，其中瓜地馬拉、哥斯大黎加與宏都拉斯為全球前十大咖啡出口國。

- ()12. 根據上文中「部分地區」的氣候特色判斷，中美洲在下列哪的氣候區的環境適合種出有別於非洲的獨特風味咖啡？



- ()13. 現今中美洲的經濟活動仍深受早期殖民統治的影響，請問：下列哪些敘述最能表現中美洲的殖民地式經濟的特色？

(甲) 經濟發展易受國際市場價格波動影響；(乙) 大多種植單一的經濟作物；(丙) 農、礦原料以自給自足為主；
(丁) 沿海城市為輸出農、礦原料，多屬港埠型都市；(戊) 糧食生產充足；(己) 勞力具有高階技術的優勢

- (A)甲乙丁 (B)甲丙戊 (C)乙戊己 (D)丙丁己。

◆ 請閱讀下文，根據文中敘述回答第 14-15 題：

早期全臺皆有石虎分布，因為人為的開發、棲息環境的改變，石虎族群數量銳減而瀕臨滅絕，目前僅剩苗栗、臺中、南投等縣市的低海拔山區曾發現其蹤跡，其中苗栗地區保有較完整的石虎棲地環境，較常見石虎出沒，但也引發保護與經濟開發孰重的爭論。但石虎的棲息地多屬私有土地，要劃設保護區較為不易，因此公部門、生態保育學者、非政府組織、在地農民及民眾，共同推出「石虎米」的產品，期望以友善環境的方式，讓石虎的獵物如老鼠、野兔等棲息在自然的農田，營造出生態、生活及生產三生共存的產業發展。

() 14. 根據上述文字，目前石虎最多的棲息地的主要地形，可以用下列哪張等高線地形圖表示？



() 15. 上文中提及「石虎米」的產品精神，想要營造三生共存的產業特色，請問：下列何者的精神與「石虎米」的精神最為相似？

- (A) 推行產銷履歷，讓民眾更了解農產品的生產過程
 (B) 不用農藥、化學肥料，多採用生物防治方式耕作
 (C) 推出民眾體驗活動，增加民眾對農業耕作的認識
 (D) 和大型企業簽訂契作合約，保障農作銷售的價格。

◆ 請閱讀下文，根據文中敘述回答第 16-17 題：

阿岳和小翰是經營臺灣環島餐車「岳吃岳滿足」的合夥青年們，其主打的餐點是花生牛肉起司堡及深海鮭魚起司堡。他們對於漢堡所使用的食材非常講究，採用臺灣在地生產的彰化雞蛋、雲林美生菜與番茄、漢堡麵包，美國進口的牛肉排、起司片、洋蔥，挪威的鮭魚，可以說是食物生產全球化的例子之一。但隨著食安的議題逐漸升溫，阿岳和小翰決定要親自到美國進口的產品生產地進行考察活動，確認所使用的食材是否真的安全無虞。

() 16. 右【圖 6】是美國的重要農業分帶圖，若今天阿岳和小翰分別要考察牛肉排和起司的原料產地，請問：阿岳和小翰應分別前往哪些農業帶？



【圖 6】

- (A) 阿岳 - 甲；小翰 - 乙
 (B) 阿岳 - 乙；小翰 - 丙
 (C) 阿岳 - 丁；小翰 - 甲
 (D) 阿岳 - 丁；小翰 - 丙。

() 17. 文中提到「岳吃岳滿足」採用臺灣生產的雲林美生菜與番茄，是產自於雲林的西螺鎮蔬菜專作區。請問：雲林西螺鎮近年來發展成蔬菜的專作區，跟臺灣下列哪個交通建設的開通關聯最為密切？



() 18. 一位作家討論某個「主義」時，認為「沒有它，印度可能還受英國統治，印尼也可能還屬於荷蘭，但日本的軍國思想卻

也因此而起。」這位作家所說的「主義」最可能是指：

- (A)保守主義 (B)民族主義 (C)帝國主義 (D)社會主義。

()19. 馬克思曾稱讚某一文獻是「人類歷史上第一個人權宣言」，這個文獻是從歐洲啟蒙學者「天賦人權」、「主權在民」的學說出發，以綱領的形式表述政治要求。請問：這個文獻為何？

- (A)法國《拿破崙法典》 (B)法國《人權宣言》 (C)美國《十四點原則》 (D)美國《獨立宣言》。

()20. 史家討論美國革命時，指出：1763年，英國在七年戰爭中擊敗法國，確保北美十三個殖民地的安全；但1776年，北美殖民地卻起來反抗英國，爆發獨立革命。下列何者最可能是史家推論的美國革命之因？

- (A)戰爭導致財政困窘，遂使英國想向殖民地課稅，引起不滿
(B)戰後英國對殖民地的控制減弱，殖民地人民覺得有機可圖
(C)戰爭讓殖民地經濟蕭條，殖民地人民心生不滿，起而抗爭
(D)戰後英國軍力大為衰退，殖民地人民乘虛而起，爭取獨立。

()21. 有學者認為：「帝國主義是資本主義制度發展下的必然現象；資本主義必須擴張，否則即趨死亡。而19世紀末期以來，人口的膨脹和過剩，列強對市場和原料追求所表現的無可饜足的饑渴，使各國急於尋覓剩餘資本的出口。」請問：這位學者是從哪一個角度思考帝國主義擴張的現象？

- (A)軍事 (B)交通 (C)經濟 (D)政治。

()22. 下文為一份回憶錄的片段文字：

□□戰爭爆發後，皇帝召回羅馬的駐軍，不再對教皇國提供保護，此時義大利仍按兵不動。後來我軍在色當慘敗，我國皇帝也遭普魯士軍隊俘虜，普魯士國王在凡爾賽宮登基；同時，○○國無視教宗的拒絕，趁機以武力強硬拿下羅馬，並定為首都。

根據內容判斷，回憶錄作者應是哪一國的國民？

- (A)法國 (B)奧國 (C)英國 (D)德國。

()23. 關於歷史人物與其主張，下列配對何者正確？

- (A)梅特涅 - 「革命是萬惡之源，如一條張牙舞爪吞噬社會秩序的九頭蛇。」
(B)玻利瓦 - 「分裂的房子必不能長久，半奴役半自由的政府絕無法持久。」
(C)加富爾 - 「當前問題若要解決，不能憑演說和議會，只能藉著鐵和血。」
(D)俾斯麥 - 「沒有打碎西班牙對祖國的束縛前，我將不倦怠的打擊敵人！」。

()24. 這座城市在西元1780年建立起第一座大型機械化的棉紡織廠。當1835年，法國歷史學家托



【圖7】

克維爾到訪此城時描述道：「從這污穢的陰溝裡泛出了人類最偉大的工業溪流，肥沃了整個世界；從這骯髒的下水道中流出了純正的金子。人性在這裡獲得了最為充分的發展，也達到了最為野蠻的狀態；文明在這兒創造了奇蹟，而文明人在這兒卻幾乎變成了野蠻人。」請問：托克維爾所描述的城市應位在右【圖 7】中哪一地區？

(A)甲 (B)乙 (C)丙 (D)丁。

()25. 19 世紀初，一份美國總統致國會的諮文中提到：「我們尊重西歐諸國在西半球的殖民地，但對於已經宣布獨立，並經我國承認的國家，西歐諸國如果要予以干涉的話，我們認為他將危害美國的和平與幸福。」根據上述諮文，下列敘述何者正確？

(A)提出諮文的總統是威爾遜 (B)目的在確保美國中立地位

(C)諮文意在警告德國與奧國 (D)成為美國干預他國的藉口。

()26. 「他在上任美國總統一年後，戰爭爆發。美國的輿論認為這場戰爭與自己國家沒有任何關係，不想干涉其他國家的事務，反對參戰。直到這個事件發生，讓美國承受巨大的人員與物質損失，國內開始有參戰的呼聲出現。之後，美國宣布參戰，加入協約國陣營。」請問：文中提及的「這個事件」最可能是指下列何者？

(A)日本偷襲美國的軍事基地 (B)英國在北美地區徵收新稅

(C)歐洲國家入侵拉丁美洲 (D)德國無限制使用潛水艇。

()27. 共產主義思想家恩格斯曾針對西元 1814~1815 年間召開的某次會議說過：「帝王們分配贓物和獎金，商量能將革命前的形勢恢復到何種程度，民族被買進和賣出、分割和合併，只為符合統治者的利益。」請問：下列何者是此次會議召開最主要的原因？

(A)社會主義盛行，各國擔憂共產分子破壞社會安定

(B)美國獨立戰爭爆發，各國預防革命危害皇室安全

(C)拿破崙勢力瓦解，各國討論如何重建國際秩序

(D)帝國主義盛行，協商如何劃定各國的勢力範圍。

()28. 某次國際會議上，戰勝國以克里蒙梭與勞合喬治為首，要求德國承擔起發動戰爭的全部責任，並賠償各國損失。德國外交代表聲言，他們不想逃避應負的戰爭責任，但反對由德國負起全責，因為他們認為自己是在打一場防衛戰。請問：這場戰爭爆發於右

【圖 8】中哪一地區？



【圖 8】

(A)甲 (B)乙 (C)丙 (D)丁。

()29. 【資料一】：斷頭臺是法國人理性智慧的產物，法國通過《人權宣言》後，有人提出「死刑平等」議案，處決方法不因出

身貴賤或地位高低而有不同。結果後來「革命廣場」斷頭臺也處決不少反革命份子。

【資料二】：有一位學者認為法國大革命的「自由、平等、博愛」理想在革命期間蕩然無存，因此將 Alfred Cobban 的原著「The Social Interpretation of the French Revolution」譯為《變調的馬賽曲》。

請問：上述兩段資料都與下列哪一事件有關？

- (A)路易十六的專制統治 (B)羅伯斯比的恐怖統治 (C)拿破崙改共和為帝制 (D)法蘭西波旁王朝復辟。

【表 2】

- ()30. 伊藍將上課內容簡單整理成右【表 2】，卻沒有填寫完整。根據表中內容判斷，「？」填入下列哪項內容最適當？

背	工業國家需要原料、礦產與遼大
景	市場等因素，積極向外擴張
理	白種人自認為是最優秀的民

- (A)印加與阿茲提克帝國因此滅亡 (B)西方的列強競相殖民非洲大陸
(C)荷蘭在巴達維亞設立貿易總部 (D)耶穌會派遣傳教士到世界傳教。

- ()31. 某國首都爆發一場「群眾革命」，革命派成立臨時政府。這個政府受到鄉紳、專業人士、商人、知識分子等的支持，但與下層民眾失去聯繫，數月之後就被一個更激進的革命所推翻。學者評論說：這是一場「布爾喬亞(即：資產階級)革命」，結果是「權力由布爾喬亞的自由派掌有」，工人階級掌權的時機尚未成熟。這場「群眾革命」最可能是：

- (A)美國的獨立戰爭 (B)義大利統一運動 (C)俄國的二月革命 (D)俄國的十月革命。

- ()32. 一場名為「世紀回顧」的展覽中懸掛一張老相片，這張相片顯示：火車站中有數列滿載士兵的火車，其中有兩列預計開赴比利時前線，另有一列即將駛往東方邊界，車廂上的標語寫著：「向沙俄宣戰！為祖國奮鬥！」請問：這張相片最可能是何時拍下的情景？

- (A)法國爆發大革命，普魯士投入反法聯盟 (B)拿破崙攻打俄國，法軍遠征俄羅斯帝國
(C)德法戰爭爆發，德意志軍隊向法國開拔 (D)第一次世界大戰爆發，德軍向俄國挺進。

- ()33. 西元 1789 年法蘭西王國波旁王朝制憲國民會議通過《人權與公民權》，部分內容如下：

【第 1 條】在權利方面，人類是與生俱來而且始終是自由與平等的。

【第 2 條】一切政治結社的目的都在於維護人類自然的和不可動搖的權利。這些權利是自由、財產、安全與反抗壓迫。

【第 6 條】法律是普遍意志的表達。每一個公民皆有權個別地，或透過他們的代表去參與法律的制訂。法律對於所有的人，無論是施行保護或是懲罰都是一樣的。在法律的眼裡一律平等的公民，除了他們的德行和才能上的區別之外，皆能按照他們的能力，平等地取得擔任一切官職、公共職位與職務的資格。

【第 11 條】自由傳達思想與意見乃是人類最為寶貴的權利之一。因此，每一個公民都可以自由地從事言論、著作與出版，但在法律所規定的情況下，仍應就於此項自由的濫用負擔責任。

上述條文是針對當時何種社會現象所提出的理念？

- (A)封建體系下，附庸須服勞役無遷徙自由 (B)傳統制度下，教士與貴族特權造成不公
(C)殖民統治下，殖民地人民沒有議會代表 (D)工業發展下，社會貧富懸殊且勞資對立。

- ()34. 有位外交官參加一次國際和會，原本期望大會能對戰費、領土等議題作出公正明智的處置，但會中的決議卻令他失望。

他表示：許多代表運用詭辯來掩飾他們的報復行為；強索巨額賠款；又屈從於強權，不能公正處理領土問題。這位外交官批評的是：

- (A)巴黎和會期間，西方列強對中國的脅迫 (B)維也納會議中，戰勝國對法國的安排
(C)九一八事變後，國際聯盟對事件的處理 (D)凡爾賽條約中，協約國對德國的處置。

()35. 下【圖 9】是喬克在某份專題報告中所舉的例子。根據其內容判斷，下列何者最可能是喬克報告的主題？

- | |
|--|
| 1. 流感、COVID-19 等疾病，透過便捷的交通運輸網在世界各地蔓延。
2. 部分國家發展工業時大量使用化石燃料，加速地球暖化。
3. 俄烏戰爭風暴與國際油價攀升，對各國經濟發展造成影響。 |
|--|

【圖 9】

- (A)資訊科技 (B)全球關連 (C)國際貿易 (D)區域統合。

()36. 歷經八年漫長談判，亞太 15 國在 2021 年 11 月 15 日正式簽訂「區域全面經濟夥伴協定」(RCEP)，不僅成為全球規模最大的超級經濟圈，協定生效後，未來區域內超過九成的貨物貿易零關稅，並開放服務業、鬆綁專業人士進出，將大幅提升區域貿易的自由度。但臺灣被排除在外，尤其以機械、紡織與石化業影響最大，因為臺灣不是會員，產品仍須繳納高額關稅才得以進入該關稅同盟的市場，這個因素對臺灣產品的競爭力將有很大的衝擊。」根據內容判斷，文中所指不利臺灣產品競爭力的原因，最可能是下列何者？

- (A)生產要素不足 (B)生產成本提高 (C)產品售價較低 (D)勞動所得增加。 【表 3】

()37. 九年仁班同學上家政課三人一組，製作馬卡龍和草莓大福，以同時段由其中二人工作的方式輪班生產馬卡龍與草莓大福，且每人一次只負責生產一項產品，下表為他們的產能狀況，三人中小司在生產馬卡龍產量最高；但若考量機會成本，小司與小康搭檔生產時，小司卻適合生產草莓大福；而小康與小布搭檔生產時，小康適合生產馬卡龍。根據【表 3】中資料判斷，甲最可能為下列何者？

	馬卡龍	草莓大福
小司	24	20
小康	甲	12
小布	20	18

- (A)10 (B)12 (C)16 (D)26。

()38. 世界各國以「同酬日」來衡量是男女薪資是否平等的指標，用意在於提醒改善兩性的職場薪資差距，右【表 4】是歷年臺灣「同酬日」的對照表。以 2017 年來對比，我國女性需比男性再工作 54 天，整年總薪資才會相同；以 2020 年來對比，我國女性需比男性再工作 51 天，整年總薪資才會相同。在我國若要讓「同酬日」的天數持續減少，需要透過下列哪一法律來執行才較為具體？

【表 4】

年分	女性需增加工作的天數
2017 年	54 天
2018 年	54 天
2019 年	52 天
2020 年	51 天

- (A)《憲法》 (B)《民法》

(C) 《性別平等教育法》 (D) 《性別工作平等法》。

()39. 清代畫師郎世寧是義大利人，原名 Giuseppe Castiglione，在中國宮廷當畫師的期間繪製了許多膾炙人口的作品，其中又以「八駿圖」為最。郎世寧雖然是採用中國傳統的顏料來作畫，但在馬匹、人物和柳樹的表現上，卻融入了西畫著重光影的手法，顯得立體感十足，後人評價極高。根據上文敘述，可以看出下列何種概念？

(A)強勢文化的行銷 (B)融合文化並加以創新 (C)排斥不同文化的交流 (D)認識和發揚傳統文化。

()40. 「全世界 99%參與咖啡產業的人不曾親身拜訪過咖啡產地。許多人說得一口好咖啡經，然而他們可能沒想過，這杯最頂級且昂貴的咖啡，竟是出自全世界最貧窮的農夫手裡。我們為了這杯『黑金』，掏出了白花花的銀子，但是為我們生產豆子的人，可能工作一季還賺不到買這杯『黑金』的錢。」上述現象反映出「經濟全球化」的何種現象？

(A)工作移轉至成本較低的非洲，美國農民的失業率因此增加
(B)開發中國家大規模生產，可增加就業機會、提高國民所得
(C)貿易利益多由跨國企業掌控，開發中國家農民被不當剝削
(D)開發中國家無法獲得貿易利益，主要原因是政府效能不彰。

1	2	3	4	5	6	7	8	9	10
B	B	D	A	D	A	D	B	B	B
11	12	13	14	15	16	17	18	19	20
C	B	A	D	B	C	A	B	B、D	A
21	22	23	24	25	26	27	28	29	30
C	A	A	A	D	D	C	D	B	B
31	32	33	34	35	36	37	38	39	40
C	D	B	D	B	B	C	D	B	C