

一、選擇題

()01. 「有袋類動物的幼獸多為早產兒，存活下來的能力遠不及發育較完全才出生的胎盤類動物幼獸，因此全球的有袋類動物逐漸減少。但澳洲因具有某項環境特徵，以致沒有其他胎盤類動物與澳洲的有袋類動物生存競爭，有袋類動物因而成為澳洲數量最多的哺乳動物，占了全世界有袋類動物的 70%。」從前述文字中提及澳洲具有某項環境特徵，請問：這項自然環境特徵最有可能為下列何者？



【圖 1】

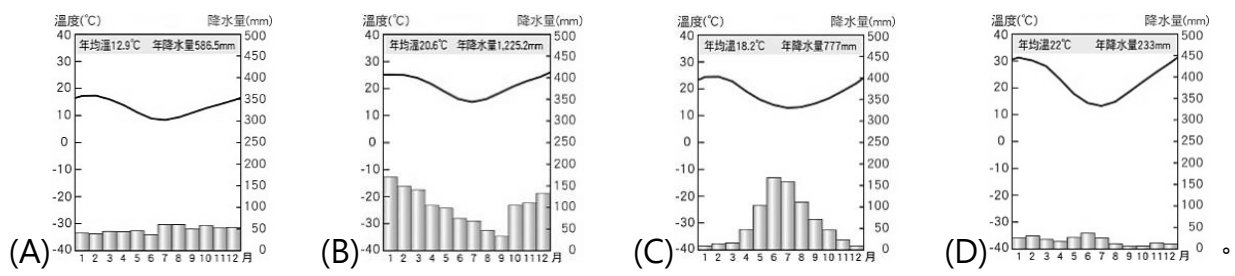
- (A)終年受東南信風的吹拂 (B)國土多高溫的熱帶氣候
(C)東西岸皆有洋流的流經 (D)四面環海與各大陸隔絕。

()02. 每隔數年東太平洋熱帶海水異常增溫，使沿岸涼流減弱，抑制沿海湧升流，讓深海的營養鹽難被帶上海面來，切斷附近浮游生物和魚類食物來源供給，造成右【圖 1】某處外海魚群聚集數量銳減。請問：上述期間圖中何處的船隻漁獲量將減少，影響漁民生計？

湧升流：由深海往上向表層流動的水流。

- (A)甲 (B)乙 (C)丙 (D)丁。

()03. 右【圖 2】深色區塊是無尾熊的棲息地分布圖，根據【圖 2】中的分布資訊判斷，無尾熊主要分布在下列何種氣候區？



()04. Zespri 是知名水果品牌，該公司總部位於紐西蘭，讓消費者一整年都看得到 Zespri 奇異果，是 Zespri 在品牌經營上的重要策略，但由於紐西蘭的奇異果一年只收成一次，紐西蘭採收旺季在 4~7 月，為了讓消費者四季皆能品嚐到 Zespri 奇異果，公司打算其他具有類似氣候環境的國家果農合作生產，透過產季分散達到整年供貨目標。若僅考量地理位置及適宜生長環境判斷，請問：與紐西蘭奇異果產期互補的合作果農最可能位在下列哪個國家？

- (A)法國 (B)巴西 (C)智利 (D)古巴。


()05. 目前全球多達 98%的鐵礦砂用於鋼鐵業，鋼鐵廠將鐵礦砂、焦煤及石灰石等原料，經高爐生產出粗鋼，再依不同使用方式製造出各式鋼材，主要用在建築、機械和造船等產業。全球鐵礦砂分布相對集中，含鐵量高的鐵礦資源多集中在澳洲西部、巴西南部與印度南部等，請問：這些鐵礦的產地具備下列哪項共同特徵？

- (A)具有熱帶沙漠氣候的分布 (B)皆位於寒暖流的交會地區

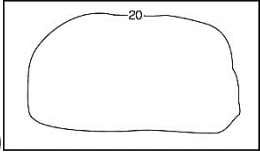
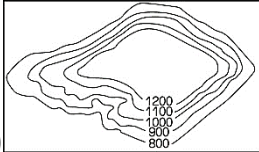
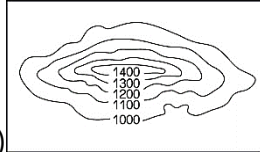
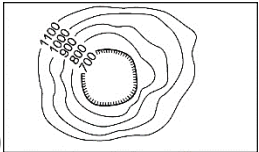
(C)皆為地質古老的高原地形 (D)位在環太平洋火山地震帶。

()06. 右【圖 3】為非洲國家辛巴威發行面額最大的紙鈔，不過當年 100 兆辛幣只能買半條土司，當地的公廁甚至出現警告標語：「嚴禁將鈔票當衛生紙使用，以免阻塞…」依上述，辛巴威當時面臨的現象，下列何者正確？

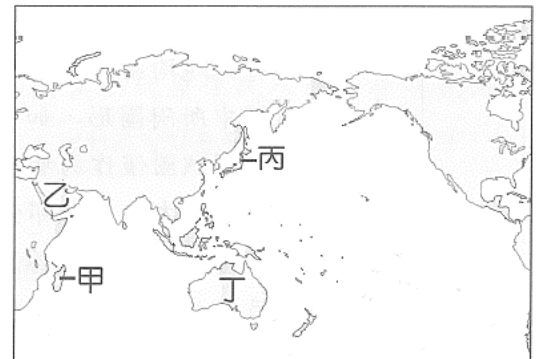
- (A)幣值下跌，民眾搶購囤積物資
- (B)民眾減少消費，儲蓄意願上升
- (C)物價水準上漲，民眾生活水準提升
- (D)政府須發行更多貨幣以解決物價上漲問題。



()07. 兩極地區的北極跟南極地區是兩個半球最高緯的地區，但在氣溫的測量結果，南極地區的氣溫較北極地區還得更嚴寒，主要差異的原因是在地形的主體部分不同。請問：南極地區的地形主體為下列何者，導致氣溫較北極地區嚴寒？

- (A) 
- (B) 
- (C) 
- (D) 

()08. 在臺灣俗稱「鹿仔樹」的構樹，廣泛分布於東亞及中南半島各地。在西方紡織品被帶入太平洋前，南島語族長期種植構樹，並製作成樹皮衣，近年來從生物地理學家對於構樹的相關研究發現，推論南島語族可能起源自臺灣。根據前述的內容推測，請問：右【圖 4】中的哪個地區最可能也出現樹皮製成衣物的傳統？

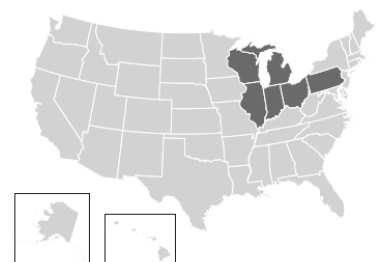


- (A)甲 (B)乙 (C)丙 (D)丁。

()09. USMCA 是美洲地區內某一區域性經濟結盟組織的簡稱，其中該組織內某個成員國與東歐會員國家在歐盟所扮演的角色極為類似。請問：有關這個 USMCA 成員國的經濟活動及所依據的發展條件敘述，下列何者正確？

- (A)掌控巴拿馬運河，收取來往兩大洋間的過路費
- (B)在與美國邊境設立工業區，發展勞力密集產業
- (C)成員國之間享有關稅減免，並且發行共同貨幣
- (D)憑藉擁有先進的技術，吸引外資前往巴西設廠。

()10. 右【圖 5】深色區域的州別為美國鐵鏽帶 (Rust Belt)，這裡曾是全美工業的心臟地帶，創造輝煌歷史。然而，隨著華爾街金融業崛起、重工業衰退、自動化程度提高等因素，造成大量廠房關閉，地方經濟陷入困頓。請問：該區昔日工業發達，與下列哪一條件發展最相關？

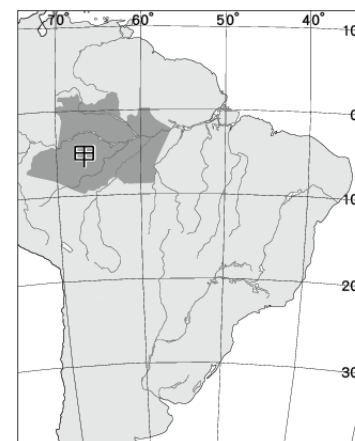


【圖 5】

- (A)聖羅倫斯河水運便利連接太平洋航線 (B)阿帕拉契山脈礦產資源多，具原料優勢
(C)氣候環境舒適，適合電影工業的發展 (D)靠近墨西哥灣石油產區，石化產業發達。

()11.2017 年美國總統唐納·川普秉持當初勝選的政見「把工廠都移回美國」，於 2020 年退出 2015 年由世界 195 個國家簽

訂的「某協議」；在政黨輪替後，2021 年 1 月美國總統喬·拜登則簽署行政命令重返「某協議」。該國際協議致力於全球暖化、減少排放溫室氣體等議題，希望將全球溫度升幅控制在 2°C 內，同時在此協議簽署後，各國也致力於推動綠色能源。請問：上述文字中的「某協議」是指下列哪個國際協議？



- (A)巴黎協議 (B)蒙特婁公約 (C)京都議定書 (D)生物多樣性公約。

()12.英國廣播公司 (BBC) 調查發現，南美洲有部分土地在社群媒體上被非法公開販售，其中包含

珍貴的自然保護區及文化保留區，只要將搜尋地點設定為右【圖 6】中的「甲」行政區，並以葡萄牙文輸入具有當地特色的關鍵字，便可找到被販賣的非法土地及賣家。請問：依甲行政區的位置判斷，上述的關鍵字應為下列何者？

- (A)森林、原始叢林、樹木 (B)高原、歷史文明、火山
(C)沙漠、仙人掌、捕霧網 (D)水力、南島語族、部落。

()13. 小穎是經營美式餐廳「越吃越過穎」的青年，其店內主打的餐點是巧克力牛肉起司堡。他

對於漢堡所使用的食材非常講究，採用臺灣在地生產的雞蛋、蔬菜、漢堡麵包，美國進口的牛肉排、起司片，但隨著近期食安的議題逐漸升溫，小穎決定要親自到美國進口的產品生產地進行考察活動，確認所使用的食材是否真的安全無虞。右【圖 7】是美國的重要農業分帶圖，若今天小穎分別要考察起司片和牛肉排的原料產地，請問：小穎應分別前往哪些農業帶進行考察？



- (A)起司片 - 甲；牛肉排 - 丙 (B)起司片 - 甲；牛肉排 - 丁
(C)起司片 - 乙；牛肉排 - 丁 (D)起司片 - 丙；牛肉排 - 乙。

()14. 澳洲有「騎在羊背上的國家」之稱、紐西蘭有「綿羊王國」的稱呼，這兩國皆因勞力不足，地廣人稀，皆有發展一定規模的畜牧業，在兩國的出口產業中，羊毛與乳製品佔有一定的比重。請問：下列哪個產業的經營型態，跟紐澳兩國畜牧業的經營型態最類似？

- (A)東南亞熱帶栽培業 (B)季風亞洲稻作農業 (C)北美洲帶狀農業帶 (D)西亞北非灌溉農業。

- () 15. 準備會考的段段，在上到紐西蘭課程時想起以前全家每年暑假出國遊玩的時光，隨手在課本的地圖上標示了四個代號（如右【圖 8】）。今天段段試著寫出小時候全家暑假時一起去紐西蘭遊玩的點點滴滴，請問：關於段段標示出的四個地點，以下哪一項的特色說明正確無誤？

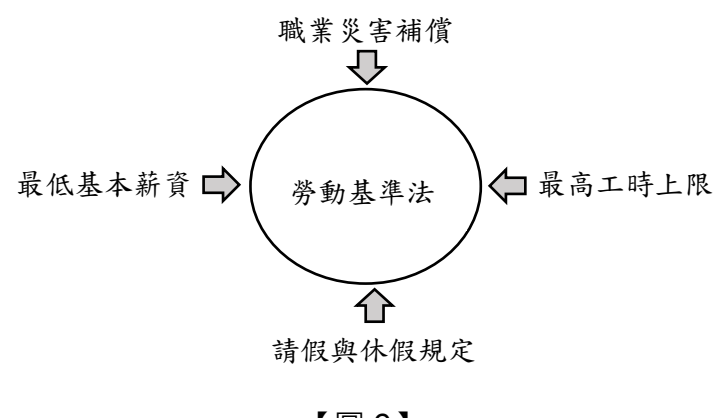


選項	地點	地方特色
(A)	甲	原住民族因紐特人文化體驗
(B)	乙	盛夏時光、人滿為患的海灘
(C)	丙	體驗逐水草而居的游牧生活
(D)	丁	驚为天人的冰河、峽灣景觀

- () 16. 新聞報導：「花旗銀行於 2021 年 4 月 15 日無預警宣布撤出包含臺灣在內 13 國金融市場，引起許多花旗信用卡卡友的緊張，擔心不能再用這張『電影神卡』的優惠去威秀影城觀賞電影。不過威秀影城立即發出公告要消費者別擔心，一切優惠將持續至年底。」關於上述報導，下列敘述何者正確？

- (A) 利用信用卡購買優惠電影票屬於「先儲值，後消費」的消費方式
 (B) 使用央行發行的信用卡購物屬於「先消費，後付款」的消費方式
 (C) 刷信用卡買電影票只是延遲支付款項，最終仍須以法定貨幣償還
 (D) 消費者若只顧刷信用卡看電影，不償還消費款項，會有刑事責任。

- () 17. 小元的公司辦了一場勞動參與講座，介紹相關法規如右【圖 9】。根據勞動參與概念判斷，途中列舉的四項規定，其制定目的應為下列何者？



- (A) 透過制定法律增加政府財政收入
 (B) 確保雇主營造性別平等工作環境
 (C) 肯定家務勞動的價值與社會貢獻
 (D) 保障勞動參與中的勞工基本權利。

- () 18. 「東方正教會與西方羅馬教會完全分裂前，彼此的歧見和教會傳教活動紛爭已長期存在。1053 年，君士坦丁堡總主教指責羅馬教宗篡改聖經內容以及教義，以各種禮儀問題質問羅馬，如安息日齋戒問題、四旬大齋期不唱哈里路亞等等。1054 年，教宗派了樞機主教至拜占庭協調，但隨即雙方談判失敗，樞機主教大怒，取出了教宗的敕書，把君士坦丁堡總主教破門（逐出教會）。君士坦丁堡總主教也不甘示弱，當眾把教宗送來的敕書點火燒了，也宣布把羅馬教宗破門。」上文敘述為某書內容片段，請問：本書的書名應是下列何者？

- (A) 十字軍東征緣由 (B) 宗教改革的始末 (C) 基督教首次分裂 (D) 西歐的政教衝突。

- () 19. 西元 1492 年，歐洲某報刊登著：「哥倫布發現通往東方新航線的消息傳來，某城市商人極度恐慌，債券暴跌，他們擔心

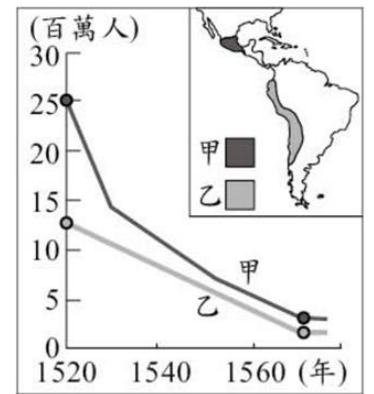
自己在亞洲貿易的主導地位可能會被取代。……直到確知哥倫布並沒有真的找到抵達亞洲的航線，商人們才驚魂甫定……」請問：文中「某城市」應該位在何地？

- (A)葡萄牙 (B)義大利 (C)英國 (D)荷蘭。

- ()20. 法國大革命期間，國民會議通過《人權宣言》宣告：「法律是公共意志的表現，全國公民都有權親自或由其代表來參與法律的制定。」請問：這段文字的主要概念符合哪一位思想家的主張？

- (A)盧梭 (B)洛克 (C)馬克思 (D)伏爾泰。

- ()21. 右【圖 10】呈現某時期甲、乙二地原住民人口數量估計值的變化。造成此變化的原因最可能是下列何者？



【圖 10】

- (A)當地天災嚴重，糧食缺乏 (B)工業革命後環境汙染致死

- (C)入侵者帶來嚴重的傳染病 (D)當地內戰頻繁，屍橫遍野。

- ()22. 十七世紀的這個國家仍然是個三流國家，搭上航海探險的熱潮，與臺灣鄭氏做生意。十八世紀以後，它不僅在大洋洲有牧場，阿根廷和北美西部草原上有它的羊群。在南非和澳大利亞挖出黃金；在印度與中國經營茶園，而且它的咖啡、白糖和香料種植園遍及東印度群島。請問：上述國家指的是：

- (A)葡萄牙 (B)西班牙 (C)荷蘭 (D)英國。

- ()23. 2020 年開始受到新冠肺炎影響，全球經濟衰退。美國為因應此種狀況，2021 年 3 月開始大量印鈔。部分經濟學者批評美國政府的做法無法挽救新冠肺炎造成的傷害，反而讓經濟陷入更大的危機。試問：美國政府的做法違背何人的主張？

- (A)洛克 (B)馬克思 (C)喀爾文 (D)亞當斯密。

- ()24. 十七世紀前期，歐、亞國家的商人活躍於東亞，使得此地的海上貿易蓬勃發展。若要描述當時荷蘭商人在東亞的活動，下列何者較合適？

- (A)以巴達維亞作為貿易據點，並占領臺灣南部 (B)因貿易策略考量，最早在臺灣北部建立城堡

- (C)首先來到東亞，在澳門建立據點與中國通商 (D)因日本實施鎖國政策，導致對日貿易的中斷。

- ()25. 米開朗基羅是佛羅倫斯的雕塑家、畫家、建築師和詩人。在雕塑方面，他認為每個石塊都蘊藏生命，他只是把多餘的表面部分剔除掉，將生命從其中解放出來，因此他的雕塑作品大多氣勢雄壯宏偉，充滿生命力。請問：米開朗基羅所處時代的藝術特色為何？

- (A)重視實用性，運用巧妙技法，興建羅馬競技場等建築

- (B)強調一切以神為中心，藝術作品充滿神聖的宗教色彩

- (C)運用寫實的手法，真實描繪工業革命之下民眾的生活

(D)主張以人為本，作品內涵在肯定人性價值和情感表達。

()26. 有位美國學者說：「哥倫布發現新大陸後，歐洲人將其文明帶往美洲，使得今日的美洲得以享有進步的生活。所以，海外拓殖運動對未開發地區是有好處的。」請問：下列哪一項史實明顯與這位學者的說法相互矛盾？

- (A)亞洲的香料、絲綢因此更加順利輸往歐洲 (B)白銀輸往中國，取代當時嚴重貶值的紙幣
(C)美洲作物傳入歐亞，舒緩糧食不足的問題 (D)不少非洲黑人被運至中南美洲販賣為奴隸。

()27. 泰迪熊的旅行日記如下：「這是個以高所得及風景著稱的國家。它跟一般歐洲國家貫徹週休二日的思想不太一樣，這裡多數的商店週六甚至連週日都有營業，這或許與當地宗教信仰中，強調努力工作以榮耀上帝的觀念有著密切相關吧！」請問：泰迪熊抵達的最可能是下列哪一國家？他們所信仰的教派為何？

- (A)西班牙，耶穌會 (B)瑞士，喀爾文教派 (C)德國，路德教派 (D)英國，英國國教派。

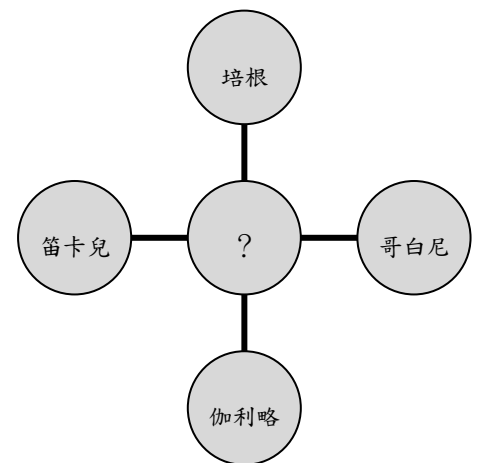
()28. 根據文中敘述，下列敘述何者正確？

一位國內大型外匯銀行交易員談到：「新臺幣已連升七個交易日，氣勢凌厲，臺幣已升破 28 元了耶！匯市一開盤，拋美元，這就對了！」一位主管機關行員則無奈的說：「臺幣升，A 罵；臺幣貶，B 罵。」

- (甲)匯率由央行決定；(乙)匯率由買賣雙方決定；
(丙)文中 A、B 分別是進口商、出口商；(丁)文中 A、B 分別是出口商、進口商。
(A)甲丙 (B)甲丁 (C)乙丙 (D)乙丁。

()29. 小新繪製了簡單圖表以快速記憶西方某一重要歷史事件，如右【圖 12】所示。請問：下列何者是小新的筆記中最有可能抄寫的事項？

- (A)理性思維改變傳統宇宙觀，天文、物理知識創新
(B)教會專制與腐敗遭受批判，基督教世界再度分裂
(C)任何統治者都不得任意剝奪人類擁有的天賦人權
(D)重新關注希臘羅馬古典文化，開始強調人性尊嚴。



()30. 某一文獻寫道：「共產黨人不屑於隱瞞自己的觀點和意圖。他們公開宣布：他們的目的只有用暴力推翻全部現存的社會制度才能達到。讓統治階級在共產主義革命面前發抖吧！無產者在這個革命中失去的只是鎖鍊，他們獲得的將是整個世界。」

試問：這份文獻出現的背景的時代背景為何？

- (A)羅馬帝國滅亡後，社會秩序崩潰 (B)海外探險後，殖民地的資源分配
(C)工業革命後，各種社會弊病橫生 (D)啟蒙運動後，思考財富合理分配。

()31. 某一市場人潮川流不息，好不熱鬧。市場中貨品分區買賣，應有盡有。如玉米、馬鈴薯、金銀飾品、羽毛、棉衣、繡花斗篷、巧克力，甚至奴隸。市場旁還搭有草棚，供人休息。這個市場最可能是在下列何處？

- (A)西元八世紀巴格達 (B)西元十世紀羅馬 (C)西元十四世紀君士坦丁堡 (D)西元十六世紀墨西哥。

()32. 某時期，歐洲出現收集古代抄本熱潮。學者遍訪修道院，尋找湮沒的古書抄本，雇人抄寫，並進行考訂、校勘，以回復古書原樣。他們摹仿古拉丁文，以之寫作。富商和權貴競相興建豪華宅第以彰顯個人權勢，也資助學者與藝術家的創作，展現文化品味。這最可能出現在哪一時期？

- (A)六世紀拜占庭帝國時期 (B)九世紀阿拉伯帝國時期
(C)十四世紀文藝復興時期 (D)十八世紀啟蒙運動時期。

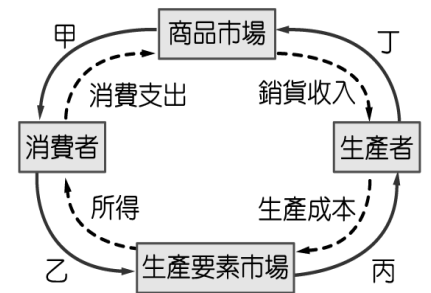
()33. 下【表 2】是某年甲國對乙國近半年的平均匯率，小康為甲國國民，他在某月份到乙國旅遊並說下內容：「一樣是 1000 元甲幣，上個月可以比現在多換 1000 元乙幣。」從上文及下表判斷，小康應是在何時到乙國旅遊？

月份	7月	8月	9月	10月	11月	12月
1元甲幣可兌換的乙幣數量(元)	17	18	17	20	21	20

【表 2】

- (A)只可能在 8 月 (B)只可能在 10 月 (C)8 月、11 月皆有可能 (D)9 月、12 月皆有可能。

()34. 許多國際企業看中臺灣高科技人才濟濟，紛紛到臺灣設工廠，藉其生產產品獲取高額利潤。請問：以經濟活動循環圖判斷，國際企業聘雇臺灣高科技人才的行為與下列何項行為同屬右【圖 14】中同一箭號？



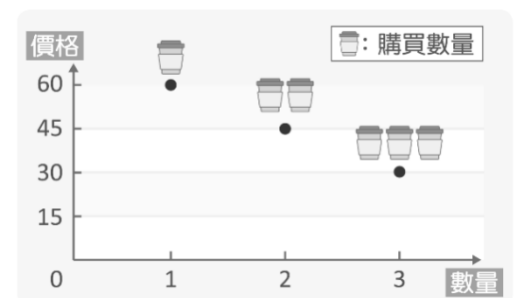
【圖 14】

- (A)爸爸上班賺取所得 (B)麵包店購買烤箱烘焙麵包
(C)媽媽在百貨公司週年慶大採購 (D)麵包店推出新口味麵包吸引消費者。

()35. 阿廣利用元旦連假到在百貨公司購買遊戲光碟，回家後卻發現光碟片有問題無法安裝。此時，他可依下列何項規定要求商家換貨？

- (A)《民法》的瑕疵商品 (B)《民法》的七天猶豫期
(C)《公平交易法》的不實廣告 (D)《消費者保護法》的七天猶豫期。

()36. 右【圖 15】為一經濟學原理，下列何者最符合右圖所表達的意涵？



【圖 15】

- (A)香蕉過剩，價格崩跌，蕉農減少種植
(B)受颱風影響，高麗菜減少，價格上漲
(C)過年領到年終獎金，增加咖啡購買量
(D)天氣漸漸轉熱，羽絨衣打折吸引買氣。

()37. 老師在上課講解貨幣時提到：「如果甲店一個背包的交換條件是 5 斤米，同樣的背包在乙店的交換條件是 10 斤蘋果，在

這種情況下，我們很難確認哪一家店的背包比較貴。若有共同的貨幣，就可以解決這種問題了。」請問上述內容最能凸顯貨幣的何種功能？

- (A)交易媒介 (B)價值衡量 (C)價值儲存 (D)債務清償。

- ()38. 據媒體報導，因飼料價格上漲，加上禽流感肆虐、蛋商囤貨等因素，即便今年年初蛋價已上漲三成，市場依然一蛋難求，民眾苦不堪言。為了因應市場缺蛋現象，各方採取多項措施，例如：(甲) 店家限制顧客每次只能購買 2 盒雞蛋，政府(乙) 亦公告補貼蛋農生產的獎勵措施，(丙) 宣布蛋價凍漲，要求售價不得超過每臺斤 35 元，並(丁) 進行現場稽查，嚇阻蛋商囤積行為，經查獲將處以罰鍰。不過蛋商普遍反映收購價格及運輸成本均不斷提高，漲價為不得已，除非政府提高補貼才可能「凍漲」。另外運輸業不滿政府只補貼蛋農，因為他們也面臨油價大漲的壓力。請問：上文畫線中哪項措施最無助於解決市場雞蛋供不應求的現象？

- (A)甲 (B)乙 (C)丙 (D)丁。

- ()39. 一卡通公司推出客製化「耶誕一卡通」，民眾可以為親友訂做專屬的相片或造型圖案一卡通，美觀又實用。上述一卡通公司的作法是考慮到哪一項生產課題？

- (A)為誰生產 (B)何時生產 (C)生產什麼 (D)如何生產。

- ()40. 住臺南的小壹去北京旅遊，於是查詢某銀行網站有關人民幣兌換匯率資料如下【表 3】，小壹從北京回臺灣，還剩 2,000 人民幣，直接在該銀行櫃檯換回臺幣，當天人民幣兌換匯率與他離開時是一樣的，請問他可兌換的臺幣現金最接近下列何者？

身上幣別	現金匯率	
	本行買入	本行賣出
人民幣 (CNY)	4.87	4.66

【表 3】

- (A) 410 元 (B) 429 元 (C) 9,320 元 (D) 9,740 元。

1 國立南科國際實驗高級中學 112 學年度第 1 學期 九年級社會科補考題庫答案

1	2	3	4	5	6	7	8	9	10
D	A	B	A	C	A	B	A	B	B
11	12	13	14	15	16	17	18	19	20
A	A	B	C	D	C	D	C	B	A
21	22	23	24	25	26	27	28	29	30
C	D	D	A	D	D	B	D	A	C
31	32	33	34	35	36	37	38	39	40
D	C	D	B	A	D	B	C	A	D

