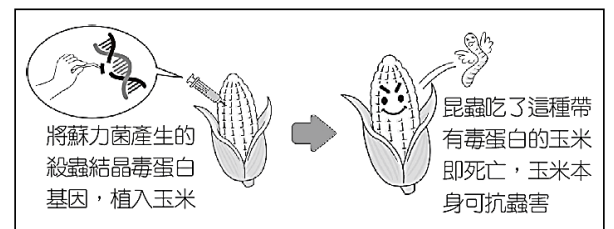


一、單選題

()01. 「農場到餐桌 (Farm-to-table)」是 1950 年代起在西方國家盛行的飲食風氣，旨在讓食材停留在供應商、批發商或倉儲的時間減少，鼓勵產地民眾盡量購買在地農產品，近年來臺灣也跟上此風潮，許多餐廳開始選擇在當地採購食物，或直接向農民購買食材，烹飪後直接端上餐桌供消費者食用，透過這樣的飲食方式運動，可以讓消費者對食安、環保、在地經濟等議題有更多的關注。請問：根據前述文字，「農場到餐桌」的飲食概念，其宗旨最希望達到下列何種目標？

- (A)縮短食物里程 (B)拓展農產市場 (C)產銷履歷認證 (D)吸引大量遊客。

()02. 基因改造技術透過基因改良，將某物質的一段脫氧核糖核酸 (縮寫 DNA) 轉殖移入到另一生物體內，所產出的「基因改造食品」同時擁有這段 DNA 所具備的特性。右【圖 1】是基改玉米研發生產圖示，根據圖中資訊內容推判，請



【圖 1】

問：下列何者應為該項農產的優點？

☞ 脫氧核糖核酸 (縮寫 DNA)：是一種生物大分子，可組成遺傳指令，引導生物發育運作。

- (A)詳細記載原料的源頭 (B)增加作物的營養價值
(C)大量增加農作物產量 (D)能維持生態的多樣性。

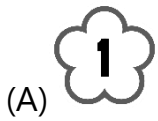
()03. 聚落的命名通常源自於當地的自然環境或人文景觀，透過地名，我們可以探究其地方特色。下【表 1】是某個地名在臺灣各縣市的數量分布比例，依照表中的資訊判斷，請問：下列何者最可能為該地名的釋義說明？

【表 1】

新竹縣	52%
苗栗縣	37%
桃園市	6%
南投縣	5%

- (A)腳：指在某物的下方，為閩南人習慣用語
(B)湳：指地勢較為低窪、較容易淹水的地方
(C)角：指海岸突出的岬角，為當地海岸特色
(D)窩：指三面環山一面矮，如畚箕狀的地形。

()04. 經營美式餐廳「越吃越過穎」的小穎考察回國後，展開了他的環島餐車夢，開著美式漢堡餐車來到臺南展開為期一週的販售。除了美式漢堡，小穎發現現代人越來越注重飲食，飲食習慣也改變了，因此推出臺灣國產的雞胸肉沙拉盒想要搶攻健身族群的市場，而沙拉盒中的美生菜、番茄等，皆是採用產自於雲林西螺蔬菜專作區的蔬果。請問：雲林西螺近年來發展成蔬果的專作區，跟臺灣下列哪個交通建設的開通關聯最為密切？



(A)



(B)



(C)



(D)

【表 2】

()05. 右【表 2】統計資料取自 1928 年臺灣總督官房調查課出版的《臺灣在籍漢民族鄉貫別調查》，請問：下列哪一組臺灣地方聚落或行政區的命名由來，與表中兩大漢民族早期所使用的「方言」最相關？

福建省	廣東省	其他省
泉州府 44.81%	嘉應府 7.91%	1.32%
漳州府 35.17%	惠州府 4.12%	
汀州府 1.13%	...	
福州府 0.72%	...	

- (A)許厝、陳屋 (B)馬公、關廟
(C)羅東、烏來 (D)新營、前鎮。

()06.小美參加一場演講，下列是該場演講中的相關內容。根據內容判斷，該主講者是在強調下列何者的重要性？

曾有語言學家估計，約每兩週就有一種語言死亡。還有學者悲觀的認為，50 年後，約有 3,000 種語言或方言消失，他感嘆的說：當語言死亡以後，那個群體的特有知識就此喪失，也關上了一扇可以觀察世界的獨特窗戶。

- (A)社會教育 (B)終身學習 (C)資訊倫理 (D)文化傳承。

()07. 蘇丹紅是人工合成的染料，屬於工業用染料，通常用於溶劑、機油、蠟、鞋油及地板蠟等，並非天然可食用色素，在動物及細胞實驗，發現會致癌以及突變。部分業者為了讓食品看起來有更鮮豔飽滿的橘紅色，便會添加蘇丹紅，因此蘇丹紅早已成為常見的非法添加物之一，除了辛香料產品可能添加外，鹹鴨蛋黃、辣椒粉、豆腐乳、調味粉等這些食物也都是可能會添加蘇丹紅的食品。請問：下列是有關面對食安問題的策略，身為消費者的我們，哪個策略是可行的？

- (A)因應全球化的趨勢，多加選購食物里程較長的異國食品
(B)只購買價格便宜、食物外觀光鮮亮麗、性價比高的產品
(C)購買使用低農藥、有機肥料、友善環境的有機農業產品
(D)選購有產銷履歷驗證的食品，了解該產品的來源與過程。

()08. 「這社區包含了三個里，是農村也是漁村，早期還曾經是鹽村，進入這個社區映入眼簾的，除了房舍外，就是附在屋外的剝蚵棚，簡單搭建的剝蚵棚裡，手腳俐落的居民熟練地將蚵殼剝開挑出牡蠣，廟前的蚵嗲是旅外遊子共同思念的家鄉味道。」前述文字是臺灣某個社區的人文景觀特色描述，從文中的景觀與產業來判斷，請問：下列何組地名最有可能出現在該社區附近？

- (A)崁頂、三重埔 (B)塭仔、栗子崙 (C)內壠、牛屎崎 (D)澳底、富貴角。

()09. 2024 年是臺南建城 400 年，臺南市政府在這充滿的意義的一年，於 3 月 9、10 日舉辦 Pokémon GO City Safari 活動，期望可以帶動人潮來臺南觀光、看燈會。住在臺中的越越，決定要搭火車來臺南抓限定怪爆炸頭水牛、坐騎小羊，沿途

經過許多車站，不禁思索該地地名的一些由來典故，並自己寫下了一些筆記。下列是從臺中站到臺南站間的車站名稱及

其地名由來，請問：越越的筆記中何者敘述有誤？

(A)彰化：原名「半線」，後來在清帝國時期因為朱一貴事件平定後，彰顯皇朝教化而改名

(B)民雄：原名「打貓」，在國民政府來到臺灣後，覺得地名不雅，因此賦予道德教化地名

(C)嘉義：原名「諸羅」，林爽文事件中當地居民協助平定叛亂，嘉許民眾忠義精神而改名

(D)新營：在過去鄭氏治臺時期，實施軍事屯墾制度，因此留下許多有「營」字的相關地名。

- ()10. 越瓜是原產於中國南方及東南亞熱帶地區的作物，浙江地區以產此瓜出名，而浙江古時為越國，故稱「越瓜」。炎熱的夏季是越瓜的盛產期，並且有極佳的抗雨性。我們常吃的蔭瓜、醃瓜、鹽瓜仔等皆是由越瓜製成，由於瓜菜類飽含水分，不利久放，因此過去每到夏季時，家家戶戶會將它們進行醬漬、曬乾加工，以便在冬季缺乏蔬菜或菜價貴時，仍有菜餚可食用。請問：過去會將瓜菜類進行醬漬、曬乾等加工程序，主要目的是下列何者？

(A)增添色澤 (B)加強口感 (C)增加美味 (D)保存食物。

- ()11.2002 年，臺灣以「臺灣、澎湖、金門、馬祖個別關稅領域」的名義加入世界貿易組織 (WTO)，世界各地的產品可以自由銷售至臺灣，進而衝擊臺灣的在地農民，但也因為農產品的國際貿易，讓我們的飲食全球化。請問：下列關於臺灣的食物產銷相關策略，何者敘述最為正確？

(A)交通革新及冷鏈技術的提升，購買外國農產品更方便 (B)鼓勵地產地消，讓臺灣農民的農產品可以行銷至全球

(C)鮮乳、乳品類產品和穀類作物皆以外國進口量為大宗 (D)農產品的食物里程越長，能源消耗及碳排放量會越少。

- ()12. 歷經八年漫長談判，亞太 15 國在 2021 年正式簽訂「區域全面經濟夥伴協定」(RCEP)，不僅成為全球規模最大的超級經濟圈，協定生效後，未來區域內超過九成的貨物貿易零關稅，並開放服務業、鬆綁專業人士進出，將大幅提升區域貿易的自由度。但臺灣被排除在外，尤其以機械、紡織與石化業影響最大，因為臺灣不是會員，產品仍須繳納高額關稅才得以進入該關稅同盟的市場，這個因素對臺灣產品的競爭力將有很大的衝擊。」根據內容判斷，文中所指不利臺灣產品競爭力的原因，最可能是下列何者？

(A)生產要素不足 (B)生產成本提高 (C)產品售價較低 (D)勞動所得增加。

- ()13. 受到濁水溪的堆積作用影響，彰化平原過去有許多河岸沙丘分布，為全臺河岸沙丘地形最發達的地區之一。後來因濁水溪整治導致沙源減少，加上開闢農地種植作物，彰化平原的沙丘地形大量消失，目前已難看出原始的沙丘景觀。依上述判斷，請問：下列何項地名特色可作為過去此區曾存在河岸沙丘地形的參考依據？

(A)「厝」為彰化平原常見的地名之一 (B)彰化平原有多個「糖廍」聚落地名

(C)彰化平原有許多「崙」字地名分布

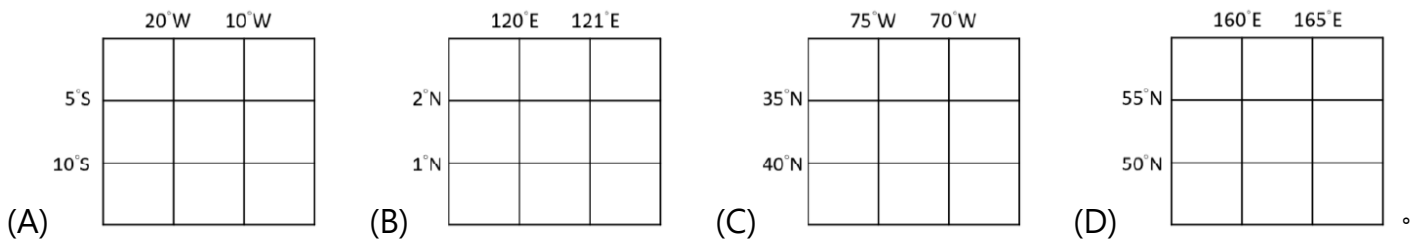
(D)「崎」字地名零星分布於彰化平原。

◆ 題組題，請根據下文，回答第 14-15 題：

「釋迦」原產於南美洲低緯度的秘魯、厄瓜多等地，於 17 世紀前葉西班牙殖民政權佔領菲律賓期間，由傳教士將其帶至時值明朝後期的中國，因幼果極似荔枝遂被稱為「番荔枝」。

不過，在臺灣則稱為釋迦，在約定俗成下，民眾已認為此名稱對佛陀末有不敬之意；臺灣釋迦是由荷蘭人於 17 世紀，從南洋群島引進臺南一帶，並有專家認為釋迦之名有可能是源自當地語言的 srikaya；另一更為大眾普遍採信的說法，乃是釋迦果實外形頗似佛陀頭形遂有此稱。因為南臺灣日照充足，使釋迦得以順利生長，嗣後數百年釋迦不斷擴植於經年陽光普照的南部和臺東，如今臺東從南邊的太麻里到北邊的卑南、東河，都可以看到大片的釋迦園，當地果農藉由○○，以掌握農業經營優勢，共同運銷並且穩定銷貨價格，不僅市場接受度高，農民收益也獲得保障。

() 14. 根據上述文字，請問：下列哪個示意圖為臺灣釋迦最早引進的來源地？



() 15. 請問：上述文字中的「○○」，應該是指下列何者？

(A)加工製造 (B)產銷履歷 (C)多元化種植 (D)成立產銷班。

() 16. 「全世界 99% 參與咖啡產業的人不曾親身拜訪過咖啡產地。許多人說得一口好咖啡經，然而他們可能沒想過，這杯最頂級且昂貴的咖啡，竟是出自全世界最貧窮的農夫手裡。我們為了這杯『黑金』，掏出了白花花的銀子，但是為我們生產豆子的人，可能工作一季還賺不到買這杯『黑金』的錢。」上述現象反映出經濟全球化的何種現象？

(A)工作移轉至成本較低的非洲，美國農民的失業率因此增加
(B)開發中國家大規模生產，可增加就業機會、提高國民所得
(C)貿易利益多由跨國企業掌控，開發中國家農民被不當剝削
(D)開發中國家無法獲得貿易利益，主要原因是政府效能不彰。

() 17. 我國外交部新聞稿：「為協助受到戰火蹂躪的烏克蘭，我國政府指派駐波蘭大使代表政府與波蘭簽訂協議，依據該協議，臺灣將與波蘭合作重建烏克蘭醫院及學校、修繕年長者過冬住所、成立單身女性就業輔導中心及青少年遠距教學中心等，並且運送人道援助物資到烏國境內各收容中心」。請問：我國協助烏克蘭屬於下列何種互動方式？

(A)國際交流 (B)國際合作 (C)國際援助 (D)國際衝突。

() 18. 「日耳曼地區各邦林立，關卡龐雜，三十八道的過境稅線使國內的往來陷於癱瘓…在漢堡與奧地利進行交易，在柏林與

瑞士從事貿易，要經過十個國家，支付十次強迫徵收的稅。」請問：上述情況因下列那一件史事而獲得改善？

- (A)拿破崙帝國瓦解 (B)國際聯盟的設立 (C)日耳曼邦聯成立 (D)關稅同盟的組成。

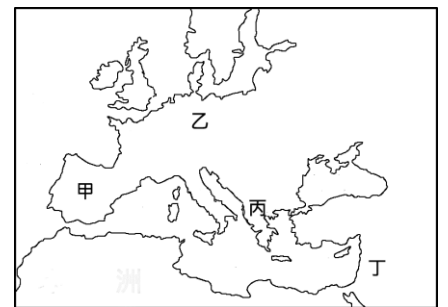
- ()19. 「一個人人追求私利的君主國中，任何政治團體其實都有演變為暴政的可能。所以個人自由的維護，有賴於我們透過對政治機構的技巧性設計，特別是透過立法、行政與司法權威的相互區隔，以均衡社會內部的利益糾葛。」請問：下列哪一國家最早落實此種政治理想？

- (A)美國 (B)法國 (C)德國 (D)蘇聯。

- ()20. 在近代史上發生過許多的政治運動，如德國與義大利統一運動、日本明治維新與中國的革命運動，請問：引發這些政治活動共同的因素為何？

- (A)啟蒙思想的影響 (B)共產主義的衝擊 (C)民族主義的刺激 (D)極權政治的威脅。

- ()21. 「…從技術面來看，這無疑是 20 世紀初的一場衝突。碉堡再也無法抵擋巨大榴彈砲的攻勢，步兵的衝鋒在機關槍面前不過是自取滅亡。此時的戰鬥，士兵大多坐在狹小泥洞裡，任憑外面砲彈傾瀉而下，壕溝戰令人恐懼而絕望。戰勝陣營的國家動員的四千兩百餘萬人中，至少有七百萬人慘遭屠殺，另有三百萬人殘廢。」請問：這場衝突最初的引爆點位在右【圖 3】中的何地？



【圖 3】

- (A)甲 (B)乙 (C)丙 (D)丁。

- ()22. 西元 1789 年法蘭西王國制憲國民會議通過《人權與公民權宣言》，部分內容如下：

【第 1 條】在權利方面，人類是與生俱來而且始終是自由與平等的。

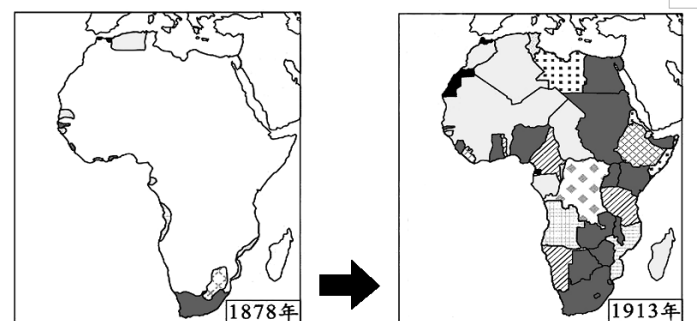
【第 6 條】法律是普遍意志的表達。每一個公民皆有權個別地，或透過他們的代表去參與法律的制訂。法律對於所有的人，無論是施行保護或是懲罰都是一樣的。在法律的眼裡一律平等的所有公民，除了他們的德行和才能上的區別之外，皆能按照他們的能力，平等地取得擔任一切官職、公共職位與職務的資格。

上述條文是針對當時哪一社會現象所制定的？

- (A)帝國主義下，殖民地人民沒有議會代表 (B)種姓制度下，平民與奴隸承擔全國賦稅
(C)傳統制度下，教士與貴族特權造成不公 (D)工業社會下，社會貧富懸殊且勞資對立。

- ()23. 右【圖 4】是施木魚在書上看到的插圖，這二幅圖的變化最適合用來說明當時國際上的哪一種現象？

- (A)民族自決盛行 (B)孤立主義興起
(C)關稅壁壘建立 (D)帝國主義肆虐。



【圖 4】

- ()24. 一位歷史人物曾獲得這樣的評價：「他將歷史推往現代，他的天才

與歷史的建設性力量合而為一；德意志與義大利的統一、民主自由政治的確立未必是他的本意，但這些事件皆得益於他的行動。」請問：這位歷史人物應是指下列哪一個人？

- (A)威爾遜 (B)拿破崙 (C)華盛頓 (D)俾斯麥。

- ()25. 「同胞們，想想我們上古時代建立的輝煌帝國；即便是黑暗的中古時期，我們有著主宰基督教精神的教宗；更別忘了，近代文藝復興是從我們這裡開始！如今我們被譏笑只不過是個地理名詞，試問這口氣誰嚥得下去？」請問上文所描述的地區是：

- (A)拉丁美洲 (B)巴爾幹地區 (C)義大利半島 (D)日耳曼地區。

- ()26. 「在大革命法庭加速作業後，每天判決7人死刑，所有的貴族都被逮捕，許多已被處死刑。另外，自6月2日起被收押的吉倫泰黨人，於10月24日受審。曾任巴黎市長的貝利以及羅蘭夫人也於此時被捕。瓦格尼奧與伯力索的雄辯對他們完全無用，全部給予迅速與提前處死刑。……瓦格尼奧說：『大革命，像農神(Saturn)，它正在吞噬它的後代。』」請問：該段敘述應該是發生在哪一時期的法國？

- (A)攻陷巴士底獄時 (B)國王被處死之後 (C)拿破崙帝國建立 (D)德法戰爭失利後。

- ()27. 十九世紀某一場國際會議是在不斷的慶祝會、招待會、舞會和各種娛樂活動下進行的，因此被稱為「跳舞大會」。而奧國首相梅特涅頻頻穿梭在各國代表之間，被與會代表稱為「蝴蝶大使」。這一場國際會議可說是歷史的反動，與日後盛行的民主政治及民族主義背道而行。請問：各國召開這場會議的背景為何？

- (A)社會主義盛行，各國擔憂共產分子破壞社會安定 (B)民族自決興起，各國預防新思潮動搖原有的政權
(C)殖民地衝突不斷，協商如何結盟與劃定勢力範圍 (D)拿破崙勢力崩解，商討如何恢復與重建國際秩序。

- ()28. 關於歷史人物的作為與其主張，下列配對何者最正確？

- (A)威爾遜 - 「一個民族可以決定自己的命運，不受其他民族的歧視或干涉。」
(B)玻利瓦 - 「從進化論的觀點來看，創造輝煌西方文明的白人才配生存。」
(C)加富爾 - 「當前問題若要解決，不能憑演說和議會，只能藉著鐵和血。」
(D)俾斯麥 - 「沒有打碎西班牙對祖國的束縛前，我將不倦怠的打擊敵人！」。

- ()29. 二十世紀初期，各地報紙頭條出現：「捷克脫離奧地利獨立建國」、「波羅的海三小國脫離俄國宣布獨立」、「臺灣展開政治請願運動」、「中國五四學運爭取主權」等標題，請問：上述事件都受到什麼影響？

- (A)工業革命後社會達爾文主義盛行 (B)拿破崙席捲歐洲，宣傳自由平等
(C)維也納會議後，恢復舊王室政權 (D)一次世界大戰後，民族自決原則。

- ()30. 某媒體常在網站上以虛擬動畫呈現新聞內容，但因表現方式有時過於血腥、暴力，引起輿論譴責。民間團體呼籲該媒體應顧及報導對社會可能產生的負面影響，勿以商業利益為優先考量。上述團體的訴求內容，主要凸顯出下列何項議題的重要性？
- (A)資訊科技的多元發展 (B)社會團體的監督力量
- (C)新聞報導的自由程度 (D)傳播媒體的社會責任。
- ()31. 有位作家回憶：「參訪這座城市時，經濟情況相當惡劣，正在執行第二個五年計畫經濟。三十歲以上的人，還懷念帝國時代的安適生活及富強繁盛；三十歲以下的人，對往日的安定、富庶感受不深，也無法接觸到國外的事物。此外，私人財產均遭沒收，一切收歸國有。」這位作家描述的情況是：
- (A)1800 年的巴黎 (B)1920 年的柏林 (C)1930 年的莫斯科 (D)1960 年的北京。
- ()32. 海洋塑膠垃圾是近年全世界關注的重要議題，塑膠垃圾不僅會汙染環境，崩解後形成的塑膠微粒還會影響海洋生物，進而危害人類的安全與健康。某海洋文教基金會執行「島航計畫」，從花蓮港出發開船繞行臺灣一圈，進行周邊海域海漂垃圾及塑膠微粒的調查，同時希望藉此號召民眾重視海洋環境。文中所述調查行動的主要目的，最可能是下列何者？
- (A)促進社會關心海洋永續發展 (B)呼籲業者減少海洋遊憩活動
- (C)督促政府打擊海上犯罪行為 (D)確保領海範圍漁民捕撈權益。
- ()33. 國內智慧科技發展日趨成熟，路燈融入影像監控是下一波智慧校園與智慧城市趨勢，然而精準的人臉辨識功能，會衍生個人隱私被侵犯的問題，未來可能以個人特徵做為辨認資料主體、人臉辨認影像只當輔助之用，讓智慧科技合法合理被應用。上述內容最可能反映出下列哪一項議題？
- (A)生物科技的發展與衝擊 (B)智慧財產權的合法保障
- (C)資訊汙濫造成真偽難辨 (D)科技發展與隱私的兼顧。
- ()34. 「……在發表會中，好幾個境外生及接待家庭共同展現了泰國舞蹈、孟加拉民謠演唱，以及祕魯、印度、菲律賓傳統舞蹈等具有特色的表演，最後則由我國大學原住民組成的學生社團帶來原住民舞蹈演出，大家手牽手一起同樂，象徵心與心的連結。」以上是小廣在一則臺灣英語新聞中閱讀到的部分訊息。根據文中敘述，可以看出哪一項概念？
- (A)文化單一與國際貿易 (B)文化交流與多元文化
- (C)文化傳承與弱勢文化 (D)文化創新與強勢文化。
- ()35. 根據報載：緬甸民眾發起大規模的公民不服從運動，要求讓遭到罷黜的民選政府領導人翁山蘇姬重返執政，但緬甸軍政府卻以武力加強鎮壓，對此，某一全球性的國際政府組織強力譴責，要求緬甸軍方立即停止鎮壓行動及釋放囚犯，否則將採取制裁措施。根據上述內容，關於該國際組織之相關敘述，何者是正確的？

- (A)簡稱 EU，總部設於美國華盛頓 (B)維護世界和平，協助跨國合作
(C)發行單一貨幣完成經濟上的統合 (D)宗旨為使世界各地的人們盡可能獲得高水準的健康。

()36. 由於智慧型手機的普及，許多人會將照片上傳至網路空間，但國外卻傳出不法人士侵入網路空間，盜竊名人隱私照片，廣為散布，甚至進行勒索。請問：上文事件的發生，說明資訊科技發達造成了下列何種隱憂？

- (A)公眾人物無法承擔社會責任 (B)資訊氾濫造成內容真偽難辨
(C)閱聽人成為被動的資訊接收者 (D)網路犯罪成為新興社會問題。

()37. 樂團「蘇打綠」被恩師林暉哲控告違反因「詞曲版權授權合約」，商標官司打了將近 3 年，一度為此改名「魚丁糸」登臺表演，後來林暉哲聲明放棄「蘇打綠」的商標所有權，魚丁糸正式拿回「蘇打綠」的名字。蘇打綠商標，由智慧財產局正式發布公告，商標權將由蘇打綠公司取得，為期 10 年。關於商標權的敘述，何者正確？

- (A)保障智慧財產，屬於憲法的自由權 (B)周杰倫的熱門歌曲「告白氣球」亦屬於商標
(C)必須申請審查通過後才能取得權利 (D)侵害他人商標，須負起損害賠償的刑事責任。

()38. 根據下文中內容判斷，在網路科技發達的時代，下列何者更應受到重視？

什麼是內容農場 (content farm) ?

內容農場是指為了創造流量、賺取網路廣告分潤建立的網站，它們多以各種合法、非法手段大量生產文章，原創性少，內容的真實性難以確認。由於內容農場並不主動管理內容，許多文章是由侵權盜用、抄寫、改寫而來，常摻雜浮濫內容與不實訊息，形成漏洞。長輩手機內，災情慘重，一不注意就成了受害者，內容農場有不少與健康保健有關的生活資訊，通常以「XX 研究」為名呈現斷章取義的醫學內容，這些內容不但對身體無益，還可能有害健康。

- (A)媒體識讀的素養 (B)醫療技術的提升 (C)資訊科技的革新 (D)生命倫理的推廣。

()39. 下列是小樂的報告：「……根據一項訪問逃離北韓人士的研究調查，顯示北韓存在著包括人體實驗或拷打致死等許多不人道的現象。另外，51%的逃離北韓人士回答，曾經目睹過公開處決。……本於廢除非人道的懲罰、終止非法處決之宗旨，我們呼籲北韓應停止這些行為……」根據內容判斷，報告中的「我們」是指下列哪一個國際民間組織？

- (A)APEC (B)聯合國 (C)國際刑警組織 (D)國際特赦組織。

()40. 亞馬遜公司總部位於美國，目前是全球最大的網際網路線上零售商之一。記者透過訪問亞馬遜的員工揭露了內部工作環境，如右【圖 6】。依據圖中內容判斷，下列敘述何者正確？

(A)全球化使商品快速跨國流動

(B)勞工因產業外移失去工作權

(C)跨國企業追求利潤忽視勞動權益

(D)全球化浪潮形成犯罪及詐欺現象。

上司可以透過手環，知道你一天抓過幾次癢，手離開過工作檯多久，以及一天上過幾次廁所、每次上多久。

在攝氏40度的炎夏寧可僱用救護車在場外待命，也不願意安裝冷氣，因為這樣比較划算。

【圖 6】

國立南科國際實驗高級中學 112 學年度第 2 學期 九年級社會科補考題庫答案

1	2	3	4	5	6	7	8	9	10
A	C	D	A	A	D	D	B	B	D
11	12	13	14	15	16	17	18	19	20
A	B	C	B	D	C	C	D	A	C
21	22	23	24	25	26	27	28	29	30
C	C	D	B	C	B	D	A	D	D
31	32	33	34	35	36	37	38	39	40
C	A	D	B	B	D	C	A	D	C

