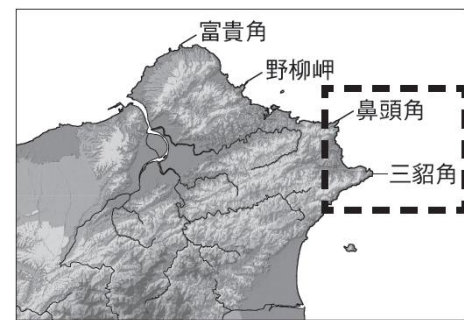


一、選擇題：

()01. 右【圖 1】是某區域的臺灣地形圖，圖中所標示的地名其由來皆與當地海岸地形有關。依據圖中資訊判斷，虛線中圈起處的地區，是下列哪座山脈尾端突出海岸而形成的地形？



- (A)雪山山脈 (B)海岸山脈 (C)中央山脈 (D)阿里山山脈。

()02. 過去臺北市由於政治、經濟的發展，因此早年吸引人口大量往市區集中。但在人口向都市中心集中且達到飽和後，市中心出現的問題反而產生人口逐漸往郊區移動的現象，也造成都市範圍不斷擴張，進而與鄰近都市間的界線模糊，形成都會區。請問：下列哪一項交通建設，會加速上述都市擴張的現象？（註：松山機場＝臺北國際航空站）

- (A)臺北捷運系統完工 (B)增建花東高速公路 (C)增加松山機場航班 (D)高鐵向南延至屏東。

()03. 近年來，季節限定的野溪溫泉成為國內的旅遊熱點，在假日，常有旅客成群結伴預約溫泉祕境之旅。臺灣有一熱門也星溫泉行程，限定於每年 1~4 月開放，因為這段期間的溪水量較小，較為安全。請問：上述行程最有可能是下列何處的野溪溫泉行程？

- (A)桃園 四稜野溪溫泉 (B)宜蘭 梵梵野溪溫泉 (C)花蓮 鴛鴦谷野溪溫泉 (D)高雄 十三坑野溪溫泉。

()04. 「位於省道臺 9 線北宜公路中繼站的坪林，過去是往來臺北市與宜蘭縣間的遊客休息處，也是文山包種茶盛產地。在某條高速公路通車前，北宜公路上沿途數十家的茶行及小吃攤，皆仰賴來坪林歇腳的遊客所帶來的過路財，假日更是全天候等生意上門；但在該條高速公路通車後，北宜公路的重要性隨即被取代，坪林的街上不復見車水馬龍盛況，商機也隨著流失。」請問：前述文字中提及的某條高速公路，其標誌應為下列何者？

- (A)  (B)  (C)  (D) .

()05. 韓國實力女團 aespa 將在 2024 年 8 月 9、10、11 日一連三天在臺開唱，樵樵好不容易搶到門票將和友人一同進場體驗一場充滿視覺、聽覺饗宴的演唱會，因此條列出演唱會當天前往林口國立體育大學體育館參與演唱會活動會使用到的交通工具（如下【表 1】）。請問：以下是演唱會當天前往演唱會現場途中所使用的交通工具相關敘述，四位同學所做的敘述，何者有誤？

代號	交通工具相關敘述
甲	從南科實中出發，行經國道 8 號連接國道 1 號一路北上
乙	自國道 1 號連接到快速道路臺 82 線，前往位在太保的車站
丙	搭乘 13:32 的 642 車次北上，於 14:59 抵達臺北車站
丁	在臺北車站轉乘機場捷運前往位在林口的體育大學站

【表 1】

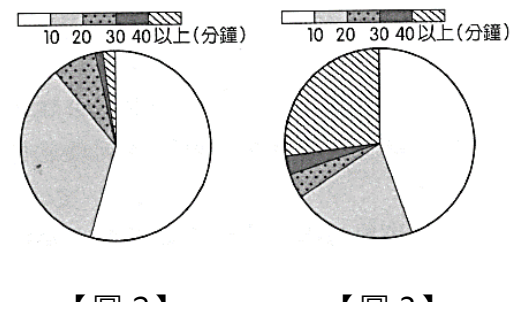
- (A)儒儒：「甲、乙兩種交通工具數字為單數代表南北向、偶數代表東西向。」

(B)岳岳：「國道 1 號名為中山高速公路，也是帶動農業專作區的交通建設。」

(C)翔翔：「丙交通工具形成臺灣西部一日生活圈，北起臺北站，南至左營站。」

(D)閔閔：「丁的興建是為解決都市交通壅塞問題，六都除臺南市皆有此建設。」

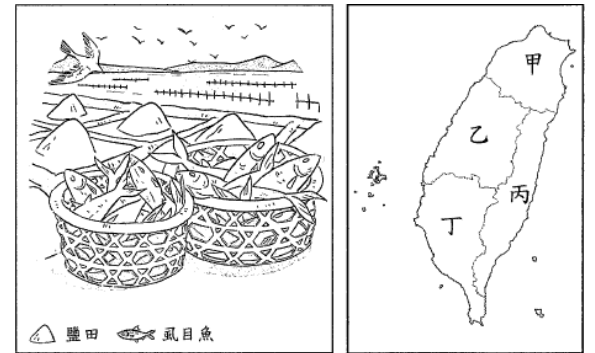
- ()06. 根據《醫院緊急醫療能力分級標準》，全臺醫院分為一般級、中度級、重度級等三類，中度級與重度級醫院才設有急診部門。受到醫療資源分布不均與各地交通網絡密集度的影響，臺灣各地民眾到離家最近的中度級醫院所花費的車程時間有明顯差異，右【圖 2】是全臺民眾至離家最近的中度級醫院平均所需時間的人口比例圖，



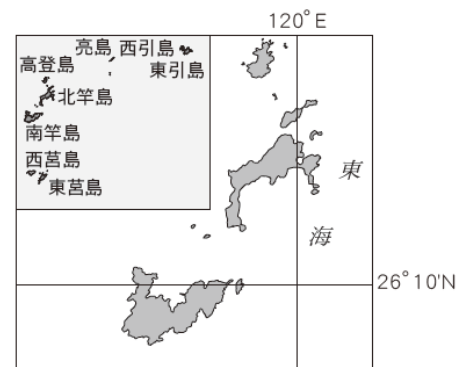
可知超過半數的民眾住在離醫院 10 分鐘內的車程距離內。請問：若改以縣市為單位，【圖 3】最可能為下列哪個縣市的醫院車程人口比例？

- (A)新北市 (B)花蓮縣 (C)嘉義縣 (D)基隆市。
- ()07. 近年來，許多國家積極推動智慧城市與智慧港口的發展，強調軟硬體建設投資及科技技術的運用，「智慧港市」更是將港口與都市串聯，以港促市、以市興港，發揮相乘效益，藉以強化國際競爭力。請問：臺灣若選擇高雄港先行推展「智慧港市」，最有可能是因為該港口本身具備下列哪項優勢條件？
- (A)連接太平洋航線，利於國際貿易開展 (B)港區重工業發達，對外連接國道 1 號
(C)海岸線平直，港闊水深有利船隻停泊 (D)鄰近首都都會區，水陸空運交通發達。

- ()08. 右【圖 4】是阿賢跟家人到某地旅遊時畫的素描，根據【圖 4】中阿賢畫出的景觀及特產，請問：阿賢最有可能前往在【圖 5】臺灣四大區域中的哪個區域旅遊？



- ()09. 喜愛騎單車的荃荃，暑假跟著朋友一起騎單車環島一周，並用文字記載著他每一天的單車旅途，其中有一天他寫道：「今天騎上了蘇花公路，一連串迭宕起伏的山路過程，在不斷上上下下、左彎右拐的過程中，讓原本迷茫的我好像有了一些指引方向。」請問：根據前述文字，荃荃在騎行的公路途中，會看到下列何種景觀？
- (A)高鐵從身旁呼嘯而過 (B)險峻陡直的斷崖峭壁
(C)東側是巴士海峽海域 (D)上班時間忙碌的六輕。



- ()10. 近年臺灣離島地區觀光人數明顯成長，右【圖 6】所示離島的在地航商打造兩艘「南北之星」客輪，開闢當地與臺北港間的航線。請問：遊客搭船前往這座離島遊玩時，最可能有下列何種體驗？

- (A)登大陸島造訪昔日戰地坑道 (B)觀賞地質公園內柱狀玄武岩
(C)享受海底珊瑚礁浮潛的行程 (D)火山島上享受海底溫泉泡湯。

()11.臺灣高鐵已經是目前許多旅客南北往來的首選，高鐵票價會依據行駛距離長短而有不同，已知從臺北站前往臺中站的標準車廂全票票價為 700 元，臺中站前往高雄左營站的標準車廂全票票價為 790 元，臺北站前往高雄左營站的標準車廂全票票價為 1490 元。今日睿睿預計在暑假時來趟高鐵之旅，預訂了一張票價為 1060 元的標準車廂全票，請問，睿睿搭乘的路線最有可能是下列何者？

- (A)臺北往新竹 (B)嘉義往臺中 (C)臺南往新竹 (D)雲林往高雄。

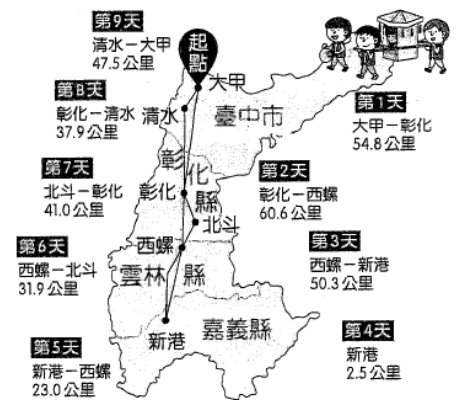
()12.臺灣的交通建設發展歷經數十年來的鐵路電氣化、環島鐵路計畫、高速公路陸續完工，加上國內航空路網的建構，以及各大都市軌道交通系統、高速鐵路的興建，逐漸形成今日的交通樣貌，但各區域間仍因自然環境與經濟發展條件而有所不同。下【表 2】為高雄市、花蓮縣、宜蘭縣、桃園市的交通建設情況，請問：下列哪個代號，最有可能是宜蘭縣？

縣市	甲	乙	丙	丁
高速公路	○	○	○	×
高速鐵路	○	○	×	×
國際商港	×	○	○	○
國際機場	○	○	×	×

備註：○代表該縣市已具有此交通建設
×代表該縣市尚未有此交通建設

【表 2】

- (A)甲 (B)乙 (C)丙 (D)丁。

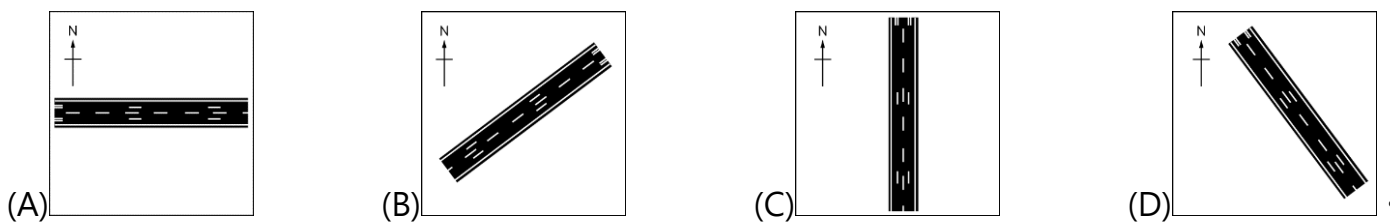


【圖 7】

()13. 一年一度的大甲媽祖繞境，不僅是宗教盛事，也是臺灣重要的在地文化活動。右【圖 7】是九天八夜的路線圖，進行橫跨四個縣市的 350 公里的繞境，其中第 2 天的行程會經由西螺大橋進入西螺。請問：在第 2 天的時候繞境隊伍會越過下列哪條河川？

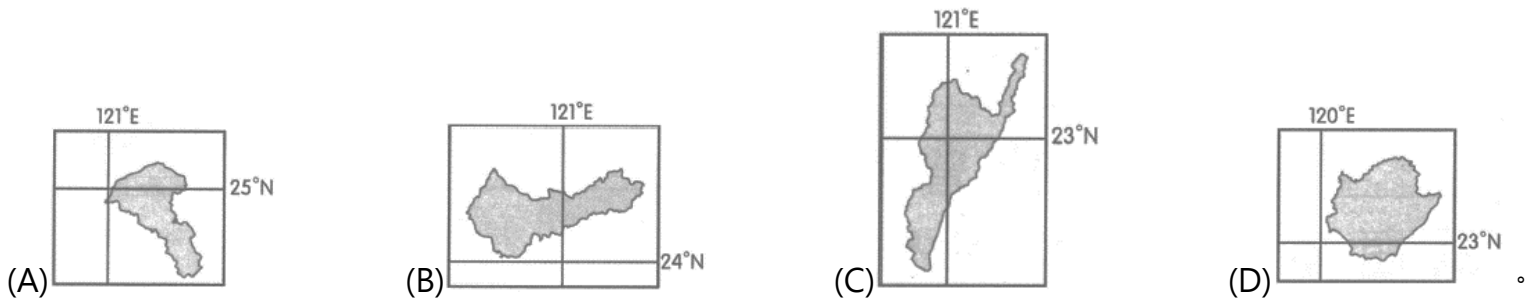
- (A)淡水河 (B)大肚溪 (C)曾文溪 (D)濁水溪。

()14. 機場跑道的方向為了符合「逆風起降」飛行需求，跑道規劃方向必須配合機場所在地盛行風的方向，才能夠在大部分的日子讓航機得到適合起降的風向。請問：臺灣桃園國際機場若為了避免飛機起降時受側面強風所帶來的威脅，其跑道設計方向以下列何者最為適合？



()15. 某公司是臺灣服裝製造商中的領航者，在全世界有 20 多座工廠，旗下員工達 3 萬多人。為了在成衣產業價值鏈中取得關鍵地位，近年來研發機器人製作成衣，朝向自動化、智慧化生產的無人工廠邁進。在公司的成長茁壯的同時，在 2015

年與荒野保護協會合作，認養位在宜蘭縣的「五十二甲溼地」，推行「無化肥、無農藥」的自然農法，並投入農地、溼地及水鳥保育。請問：前述文字某公司認養「五十二甲溼地」所在的縣市，與下列哪一縣市劃分在同一區域中？



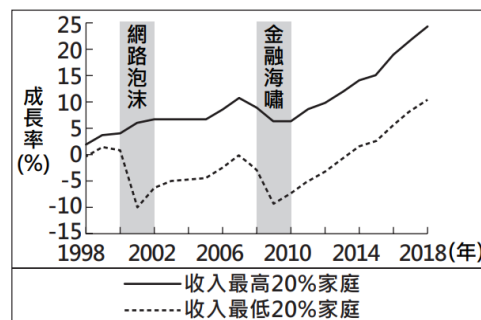
() 16. 公民老師在課堂上講解價值觀變遷的主題，並請同學小組討論舉出適當的例子加以說明。請問下列哪一位同學舉出的例子，最符合上述主題？

- (A) 真畫：送神禮祭孔典禮儀式 (B) 雷姆：設置 YouBike 微笑單車站點
(C) 多賢：環境保護意識抬頭 (D) 颯枷：人工智慧 AI 科技技術發達。

() 17. 宋江因家境不好，向善化區公所申請低收入戶證明，之後每個月可領到生活補助。請問：政府實施上述這項社會福利措施的目的為何？

- (A)保障人民的經濟安全 (B)維持國民的基本生活 (C)轉移民眾的生活風險 (D)營造健康的生活環境。

() 18. 右圖呈現我國 1998 至 2018 年間，收入最高 20% 家庭與收入最低 20% 家庭的可支配所得(家庭可以自由使用於消費或儲蓄的所得)成長率變化，其中灰階區塊是曾發生經濟成長率大間。根據圖中內容判斷，上述兩個灰階區塊的數據，最不可能呈現下列哪一現象？



幅衰退的兩段時
現出下列哪一現

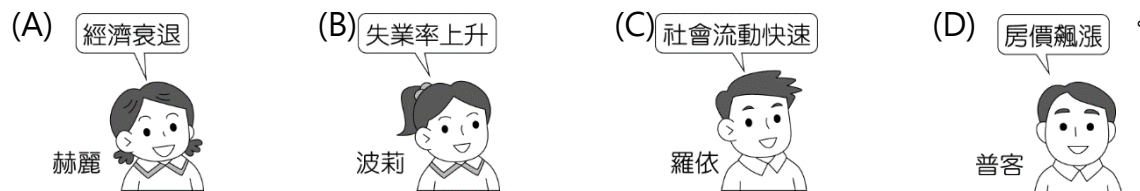
- (A)收入較高者的財富減損情況較輕微
(B)經濟大幅衰退可能造成城鄉發展不均
(C)經濟大幅衰退導致了貧富差距擴大
(D)收入較低者的生活面臨衝擊比較嚴重。

() 19. 我國新住民人數至 112 年 12 月已逾 59 萬人，為營造友善的移民環境，全方位推動移民輔導政策，協助新住民適應我國生活。為整合各部會資源，以提供更完善權益保障，內政部移民署建置 7 國語言版，包含中文、英文、越南文、泰文、印尼文、緬甸文、柬埔寨文之「新住民培力發展資訊網」，並設立 Line 的官方帳號 (ID 為@ifitw)，提供各部會、各直轄市、縣市政府相關新住民福利及權益資訊。請問：上述社會福利措施與下列哪一項社會福利措施類型相同？

(A)提供健全的長期照顧友善環境 (B)放寬急難災害民眾申請補助的相關資格

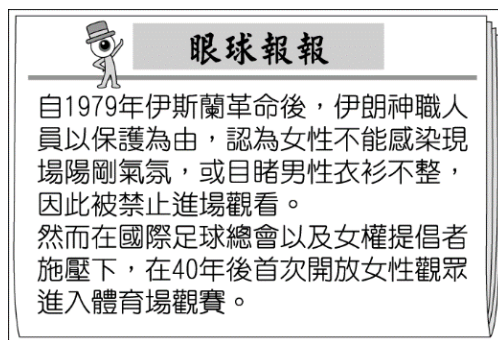
(C)開設水電工訓練班等職業課程 (D)辦理 65 歲以上高齡者裝置假牙的補助。

()20. 公民課時，老師請同學們討論造成我國貧富差距日益擴大的原因，下列何人的說法最不正確？



()21. 根據右圖新聞報導的內容判斷，下列敘述何者正確？

- (A)伊朗女性的社會地位已部分提升
- (B)伊朗女性取得資源的機會較男性少
- (C)伊朗男性偶爾會遭受到性別偏見
- (D)伊朗足球協會有較多的權勢與資源。



()22. 民國 61 年(1972)，美和青少棒隊和臺北市少棒隊，在一週內分別得到世界冠軍。《中國時報》特地為此發表評論：「……

在國家地位到處受到窒息之下，有這兩份小小的喜訊，誠有如在長期窒息中，呼吸到一點點新鮮空氣。」請問：「國家地位到處受到窒息」，是指前一年我國在外交戰場上所遭遇的哪項挫敗？

- (A)廢止中美共同防禦條約
- (B)退出聯合國
- (C)中共和日本建交
- (D)與美國斷交。

()23. 右圖中的事件發生於臺北，激動的群眾認為美國背棄了臺灣，所以拿著國旗與海報抗議來臺協商的美國代表團，並蛋洗

其座車。請問：圖中激動的群眾是為了抗議何事？

- (A)臺灣退出聯合國
- (B)美國宣布與中共建交
- (C)第七艦隊協防臺灣海峽
- (D)美國派軍援助南韓。



()24. 吳濁流短篇作品《三八淚》中，描述一位辛苦攢錢、捨不得花用，也從未注意物價與幣值波動的牛皮哥，原以為錢是越存越多，背了一大箱舊臺幣，結果只換得四十元的震撼。據此內容判斷這篇故事的時代背景？

- (A)日本在殖民體系時期 (B)第二次世界大戰時期
(C)國共內戰後國民政府遷臺 (D)石油危機造成的衝擊。

()25. 下表是關於臺灣自耕農持有耕地與佃農持有耕地的比例變化。請問：促成這項變化的主要原因是什麼？

農地比例	年代		
	1948	1953	1956
自耕地	56%	83%	85%
佃耕地	44%	17%	15%

- (A)日本結束統治，土地歸還人民 (B)二二八事件後的土地補償
(C)國民政府遷臺後的土地改革 (D)經濟發展出現奇蹟，農業隨之進步。

()26. 「鹿港辜家是臺灣五大家族之一，發跡於鹿港，父親辜顯榮先生在日治時期即為紳商，深受日人禮遇。兒子辜振甫先生二十歲即繼承父業，『配合當時政府的政策』，一躍將土地資本轉為工業資產，成為臺灣水泥公司主要負責人。由於戰後大量基礎建設的推動與民國 60 年代起臺灣經濟成長等因素，水泥生產供不應求，臺泥公司的事業遂因而繁榮，後來更逐漸進行多角化經營，發展成企業集團，其水泥產量占臺灣產量三分之一以上。」請問：上文『配合當時政府的政策』所指為何？

- (A)「耕者有其田」政策 (B)加工出口區的設置 (C)「十大建設」的開展 (D)創辦新竹科學園區。

()27. 作家楊青矗曾有自述如下：「我開始有計畫地寫作一系列的女工小說。當時光是一個高雄加工出口區，就有 7、8 萬名的女工。從鄉下來的女孩子，離鄉背井到工廠去做女工，裡面有很多感人的故事。我刻意到各地的工廠去，想辦法認識裡面的女工，約她們出來訪談。」從文中所述推測，請問當時政府經濟政策的大方向應該為下列何者？

- (A)以農業培養工業 (B)進口替代政策 (C)出口導向路線 (D)高科技產業升級。

()28. 臺灣積極的參與國際組織，1991 年我國成為亞太經濟合作組織 (APEC) 的一員，2002 年我國正式加入世界貿易組織 (WTO)。請問：臺灣未來經濟發展的趨勢為何？

- (A)邁向經濟自由化與國際化 (B)產業升級，走向勞力密集型的產業
(C)完全取消關稅，臺灣商品行銷全世界 (D)第二次進口替代取代之前的出口導向。

()29. 下表為歷年來臺灣農、工業占國內生產淨值的比例：

年別 (西元)	1952	1955	1960	1965	1970	1975	1980	1985	1990
農業 (%)	32.2	29.1	28.5	23.6	15.5	12.7	7.7	5.8	4.1
工業 (%)	19.7	23.2	26.9	30.2	36.8	39.9	45.7	46.3	42.5

我們可運用表中資訊回答下列哪一問題？

- (A)工業產值比例在 1960 年後，呈現出何種發展趨勢？ (B)1985 年的勞工人口比 1960 年的勞工人口增加多少？
(C)自哪一年起，資訊工業占工業產值的比例大幅提升？ (D)1955 年後，農地轉為工業用地的土地面積比例為何？。

()30. 歌手林強的流行歌曲：〈向前走〉曾造成廣大的轟動，歌曲內容描述來自鄉下的年輕人，到了找工作的年齡，準備告別父母親離開故鄉來到大都市討生活，因為聽別人說大都市是繁華之地，工作機會多，所以要鼓起勇氣、不怕辛苦也不怕阻難，抬頭挺胸、大無畏的向前行。就你的歷史知識判斷，這首歌所呈現的時代背景應是何時期？

- (A)1940 年代戰爭告急日本急需勞動力，投入各項戰爭建設 (B)1950 年代為反共復國，防衛首都
(C)1960 年代臺灣邁向工業化，人口往都市集中 (D)1980 年代社會運動風起雲湧，投入街頭抗議。

()31. 大雄搭乘時光機來到臺灣某個時期，他在路過學校時看到三人在對話如右圖，根據內容判斷，下列敘述何者正確？

- (A)日本推動皇民化運動，提倡說國語
(B)國民政府實施義務教育，競爭激烈
(C)國民政府推行國語運動，限制方言
(D)國民政府宣布戒嚴，打壓異議分子。



()32. 阿彥想拍攝一齣呈現「今日臺灣社會」的紀錄片，下列何者最可能出現在影片中？

- (A)兒童穿著「中美合作」的麵粉袋短褲滿街跑 (B)外籍配偶暢談來臺生活情形
(C)反共與懷鄉文學為文學主流 (D)「反攻大陸」的標語四處張貼。

()33. 近年來兩岸之間的往來相當頻繁，官方與民間的互動也相當熱絡。請問：兩岸之間主要進行協商與會談的機構各自為何？

- (A)國務院臺灣辦公室、行政院大陸委員會 (B)海峽兩岸關係協會、海峽交流基金會
(C)國務院臺灣辦公室、海峽交流基金會 (D)海峽兩岸關係協會、行政院大陸委員會。

()34. 某學者想要寫一本《臺灣經濟起飛史》，有以下章節：(甲)度過世界經濟不景氣的法寶：十大建設(乙)吸引外商投資祕技：加工出口區(丙)安定農民的貼心政策：耕者有其田(丁)創造世界第一名：竹科的誕生。請問：按照這些政策實施的時間，應該如何安排章節的先後？

- (A)甲乙丙丁 (B)甲乙丁丙 (C)乙丙丁甲 (D)丙乙甲丁。

()35. 我國社會福利制度中包含依法實施的強制性保險。右圖中克菁所指的社會保險應為下列何者？

- (A)勞工保險
- (B)意外保險
- (C)全民健康保險
- (D)國民年金保險。



()36. 下列新聞報導的內容當中，創造工作機會最符合何種公民素養的精神？

財政部國庫署副署長林秀燕表示，第4屆公益彩券發行期間自103年1月1日起至112年12月31日為期10年，累計盈餘2957億元，其中1331億元補助國民年金、148億元用於全民健保準備、1478億元分配予地方政府運用於社會福利支出，同時創造了4萬多個工作機會，扶植弱勢群體就業。

- (A)尊重公共意見
- (B)追求公平正義
- (C)遵守公共秩序
- (D)維護公眾利益。

()37. 下表為花花國人口發展趨勢的推估數據。根據表中內容判斷，政府最不可能以下列哪一項政策來面對此種發展趨勢？

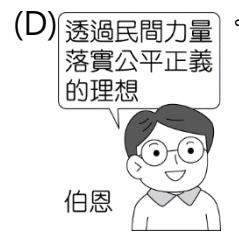
- (A)健全老人福利制度
- (B)提高國民年金失業給付金額
- (C)完善長期照顧服務
- (D)擴增托育服務制度。

年分 (年)	人口結構(%)		
	14歲以下	15~64歲	65歲以上
2000	21.2	70.3	8.5
2008	17.0	72.6	10.4
2016	13.2	73.4	13.4
2036	10.3	61.3	28.4
2056	8.0	52.5	39.5

()38. 2006年諾貝爾和平獎得主尤努斯是一位經濟學家，他在1976年創辦了專門借貸小額資金給窮人的銀行。尤努斯認為窮人雖然沒有東西可以抵押，但窮人銀行把他們當作「人」，基於對人的尊重，相信他們會還錢，發揮了顯著的約束力，還款率高達99%，證明了「借錢給窮人，並非不可能的生意」。此模式後來也複製到其他國家，幫助窮困的人得以自身力量擺脫貧窮。請問：尤努斯獲得諾貝爾和平獎的主要原因應為下列何者？

- (A)縮小貧富差距
- (B)消弭城鄉差距
- (C)相信人性本善
- (D)合理的所得稅稅率。

()39. 聯合國環境規劃署於2024年3月27日發布報告，指出全球每天浪費的食物總量超過10億人份，而世上同時卻有7.83億人遭受飢餓之苦，三分之一的人面臨糧食短缺問題。因此有許多慈善團體，透過將剩餘食物發送給弱勢群體，讓食物再分配、再分享及再利用。請問：上述發送食物的行為符合下列哪一概念？



- () 40. 衛福部於 112 年起於全國 22 縣市全面推動「幼兒專責醫師制度」，幼兒專責醫師提供幼兒自出生到 3 歲前的照護需求、疾病預防及健康促進等服務，家長可選擇在有參與計畫的基層醫療院所加入「幼兒專責醫師制度計畫」，就能夠讓專責醫師來擔任寶寶的「醫療管家」，以優化每個孩子的健康照護。請問政府推動「幼兒專責醫師制度計畫」，屬於何項社會福利措施的內涵？
- (A)社會保險 (B)社會救助 (C)社會津貼 (D)福利服務。

國立南科國際實驗高級中學 112 學年度第 2 學期 七年級社會科補考題庫答案

1	2	3	4	5	6	7	8	9	10
A	A	D	D	C	B	B	D	B	A
11	12	13	14	15	16	17	18	19	20
C	C	D	B	A	C	B	B	D	C
21	22	23	24	25	26	27	28	29	30
B	B	B	C	C	A	C	A	A	C
31	32	33	34	35	36	37	38	39	40
C	B	B	D	A	B	B	A	D	D