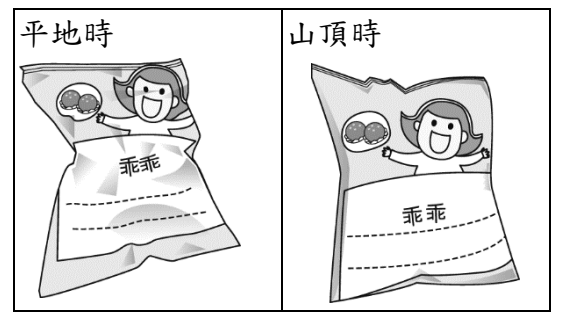


()01. 安迪攜帶了乾糧參加登山活動，卻發現在平地時和在山頂時，包裝外觀有了改變，如附圖所示。請問：造成這種問題的最主要因素為何？

- (A) 氣溫變化 (B) 氣壓大小
(C) 風力強弱 (D) 日照溫度。

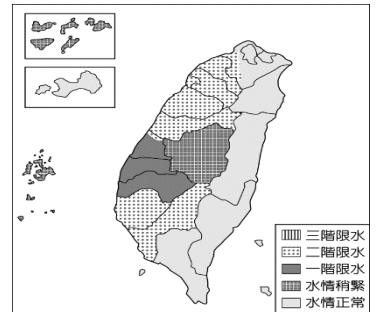


()02. 下列哪一個河段地區的水汙染情況嚴重，且容易造成水資源的不足？

- (A) 人口稀疏的河川下游 (B) 人口稠密的河川上游
(C) 人口稀疏的河川上游 (D) 人口稠密的河川下游。

()03. 臺灣供水情勢（枯旱預警）通報示意圖，由圖可推知，這最可能是下列哪一時間的供水情勢？

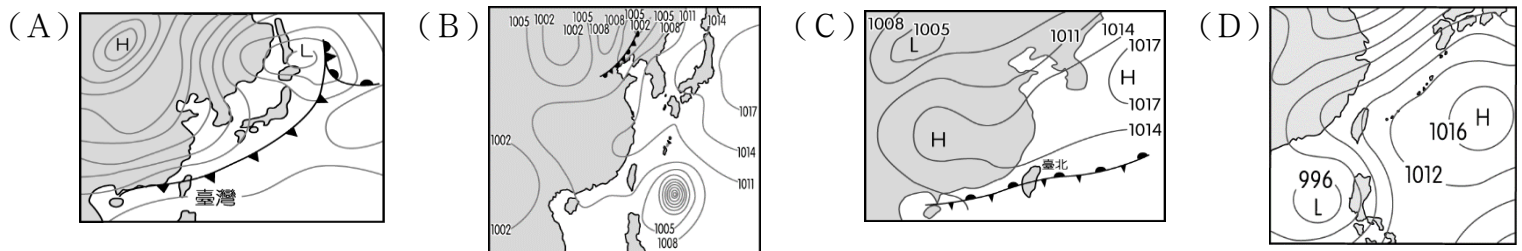
- (A) 三月初 (B) 六月底 (C) 七月中 (D) 十月初。




()04. 小明與住在臺灣某地的網友聊天，網友介紹當地的氣候狀況說：「這裡地勢不高，所以夏天很熱，受到夏季盛行風的影響，降水日較多。但是冬天受到緯度影響，氣溫比其他地區高，且受到山脈阻擋水氣，冬季為乾季。」請問：小明的網友可能住在下列何處？

- (A) 臺北 (B) 南投 (C) 高雄 (D) 宜蘭。

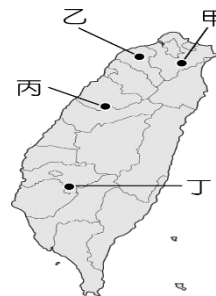
()05. 「新聞快報：受到極端氣候的因素影響，養殖漁業業者雖然已經覆蓋塑膠布來進行保溫，但是仍然損失相當慘重。漁民血本無歸，亟待政府相關單位的補助措施。」請問：此時的地面天氣圖最可能為下列何者？



()06. 臺灣的降水受到地理條件的因素影響，出現時空分布不均的現象。請問：圖(一)中的蓄水量圖最可能出現於圖(二)中的哪一個地區？ (A) 甲 (B) 乙 (C) 丙 (D) 丁。



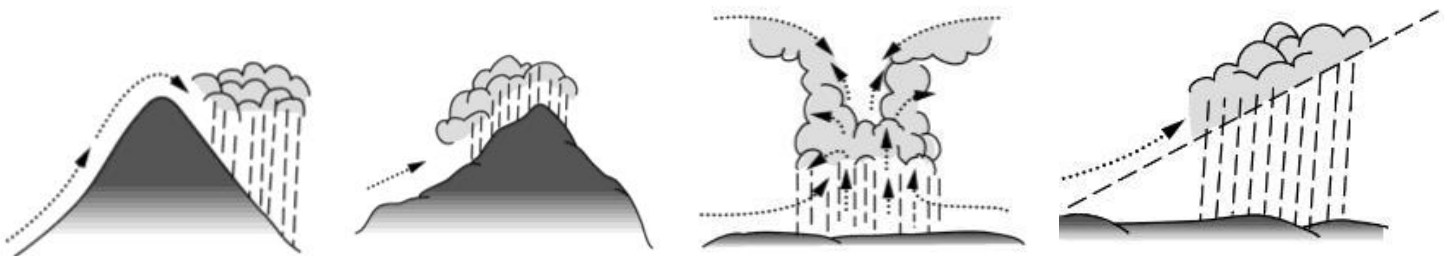
▲圖(一)



▲圖(二)

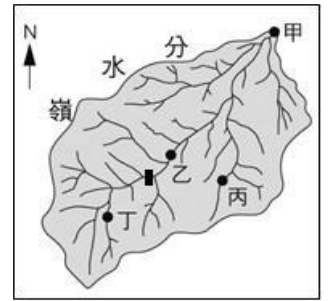
()07. 彤彤在書上看到某種類型的降雨：「雨區涵蓋範圍，一般小者僅一、二公里，大者可數十公里，降雨時間短者數分鐘，長者可持續一小時以上，因此所造成的降雨有時僅局部性。」請問：關於以上敘述的現象，應配合下列何者作為示意圖較為正確？

- (A) (B) (C) (D)



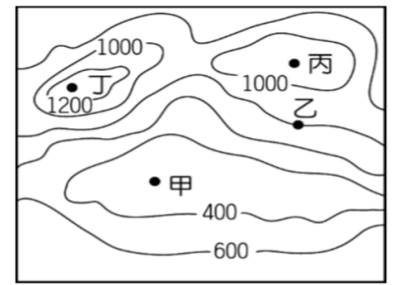
()08. 臺灣水資源不足，水庫已成為我們生活中相當重要的蓄水設施。右圖為某流域示意圖，若水庫位於「■」地，則在圖中何處實施人造雨，水庫的進水量效益最大？

- (A)甲 (B)乙
(C)丙 (D)丁。



()09. 聯合國定每年3月22日為世界水資源日，而溫暖多雨的臺灣卻被列為世界缺水國家之一，請問下列何項選項不是臺灣水資源缺乏的原因？

- (A)人口密度高，用水需求量過大 (B)河川豐、枯水期流量變化大
(C)河短且坡陡流急，快速入海不易蓄留 (D)年平均降水量低於年平均蒸發散量。



()10. 右圖為台灣某地的等高線地形圖。若安安想要在圖中甲~丁四個地點測量氣溫，請問哪一個地點所測得的氣溫可能會最低？

- (A)甲 (B)乙
(C)丙 (D)丁

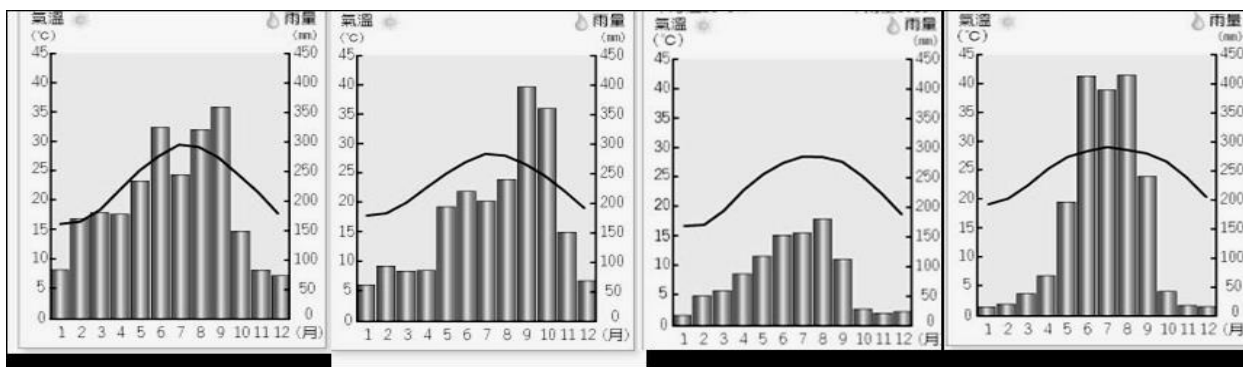
()11. 根據報導內容推測，此新聞稿最有可能為哪一個月份發布的？ (A)1月 (B)月 (C)7月 (D)12月

南部三縣市大雨特報！各地留意午後雷陣雨

中央氣象局指出，今天受西南風影響，中南部有大雨或豪雨發生的機率，氣象局針對台南市、高雄市、屏東縣發布大雨特報。

氣象局表示，今天其他地區上午為多雲到晴的天氣，僅台東有局部雨勢，中午過後各地需留意午後雷陣雨，桃園以北及宜蘭、花蓮地區、各地山區及其鄰近區域降雨機率高。溫度方面，北台灣及東半部高溫約33至36度，中南部地區降雨時約31度左右，降雨緩和下來，則會快速上升至33、34度。

()12. 最接近標題所述南部三縣市的氣候圖為下列何者？



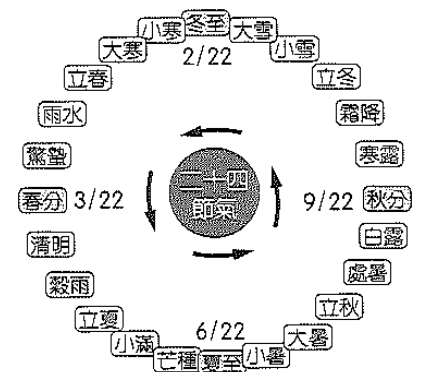
- (A) (B) (C) (D)

()13. 某電視節目到澎湖出外景，發現一對老夫妻賣仙人掌冰，便將採摘和製冰過程拍攝下來，造成仙人掌冰成為澎湖的觀光商品，澎湖適合仙人掌生長，是由於當地降雨少，請問是以下什麼原因？

- (A)北回歸線經過，副熱帶高氣壓下沉 (B)四周有高山阻擋，缺乏水氣
(C)地勢低平，無法攔截水氣降雨 (D)位於東北季風背風面

()14. 中國古代將季節更替和氣候變化的規律，結合日月運行的方位，把一年平分為附圖中的24節氣，請問滯留鋒帶來的降水最可能發生在哪一個節氣？

- (A)驚蟄 (B)芒種 (C)白露 (D)大雪



()15. 「道光15年，淡水廳同知李嗣艱先後諭令粵籍姜秀鑾、閩籍林德修、周邦正訂立合約，共同組成『金廣福墾號』進駐新竹北埔，以此為據點組成龐大墾拓組織，金廣福公館即是當時之墾墾總部及指揮中心，姜秀鑾為金廣福第一代粵籍墾首。」根據上文判斷，早期臺灣先民開墾過程中大多採用何種方式？

- (A)官方派兵駐紮屯墾 (B)移民合資模式拓墾 (C)與原住民合作開墾 (D)私自越界開墾番地。

()16. 「大眾爺，又稱大將爺，均為成群無依之鬼魂。考其本源，當閩粵移民拓荒，初期多為單身隻影，輾轉各地，舉目無親，加以蠻煙瘴雨，疫癘橫行，械鬥時起，番害亦多，死於溝壑，無人認屍，是以仁人善事收埋枯骨，為之建祠。」由上文可知「大眾爺」的祭拜，應是源自清帝國時期對何者的祭祀？

- (A)王爺 (B)開臺祖 (C)土地公 (D)有應公。

()17. 以下是某書對臺灣的描述：「此時期臺灣居民不得與外國往來，而且統治者為了管制移民、稽查海盜，還限定臺灣與中國大陸的對渡港口。當時臺灣所輸出的稻米幾乎全部銷往福建及其附近地區，糖則主要運銷華中、華北和東北。」此時期由負責上述貨物運銷的商人所自行組成的組織，最可能是下列何者？

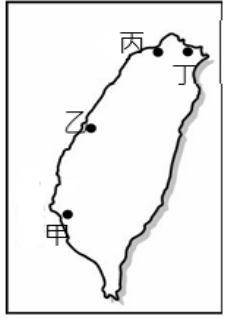
(A)郊行 (B)洋行 (C)墾號 (D)公行。

()18. 為慶祝彰化建縣 300 年，彰化縣政府邀請明華園戲劇總團以彰化母親河「□□□」開墾故事，改編「□□□傳奇」紀念大戲。作品裡面有兩位重要人物，其中一位是歷史人物—施世榜，劇中描述他帶領族人歷經千辛萬難的水圳開墾過程。上述缺空處應填入下列何者？

(A)瑠公圳 (B)八堡圳 (C)曹公圳 (D)貓霧揀圳。

()19. 此港口在荷治與鄭氏時期已經是臺灣與島外的運輸貿易中心。1683 年，清康熙年間，此處成為臺灣對外的唯一「正口」，所有來往中國、日本、南洋的船隻均須取道於此，當時臺灣盛產蔗糖，商船運載出入，也多經此地輸往日本、菲律賓等地。請問：此重要港口是指？

(A)甲 (B)乙 (C)丙 (D)丁。



()20. 「…在政策實施後，某位英國商人來到臺設立洋行，當時在考察過中，他發現臺灣具有發展茶葉的前景，因此決定在北臺灣推廣種茶。他首先透過買辦輔導農民種植茶葉，並談妥茶葉的收購條件；接著，為了改善茶葉品質，也投資製茶設備、從福建引進製茶師與茶工，進行茶葉精製加工…。最後，終於成功將臺灣的烏龍茶推上國際市場。」上述提到的「政策」最可能與下列何者有關？

(A)臺灣相繼開放與中國的對渡港口 (B)鄭氏投降後臺灣納入清帝國版圖
(C)沈葆楨來臺後廢除畫界封山政策 (D)清廷戰敗後被迫開放臺灣的港口。

買辦：外商多雇用通曉外語的本地人作為買辦，擔任採買時的翻譯與交涉。

()21. 臺灣為移民社會，早期由於政治、軍紀不良及社會不安，時常會出現武力的衝突，若以清帝國時期的「朱一貴事件」和「林爽文事件」為例，他們的衝突是屬於下列何種性質？

(A)原漢衝突 (B)官逼民反 (C)地方械鬥 (D)外患入侵。

()22. 右圖是臺灣歷史悠久的經濟作物的產地分布圖，此經濟作物在荷治、鄭氏和清帝國時期都是臺灣的重要出口貨物，在清帝國統治後期主要銷往中國大陸和日本。請問：上述的經濟作物應為下列何者？

(A)茶葉 (B)蔗糖 (C)鹿皮 (D)樟腦。



()23. 「林來生於雍正晚年至彰化二水一帶拓墾，死後留下公產 5 甲地，由他的兒子們輪流耕種，每一年由輪到耕種公田的人負責當年的祭祀費用。每年清明節前後，林家後代都會擇日掃墳，祭祀林來生。」請問：關於文中所述的林氏宗族應該是屬於哪一類型的宗族組織？

(A)有應公 (B)土地公 (C)唐山祖 (D)開臺祖。

()24. 發生於 1886 年的「大嵙崁事件」，是清帝國為掠奪樟腦資源，派兵入侵泰雅族部落，引發群起反抗，最終泰雅族人歸順投降。上述事件的發生，與當時的統治者實施哪一政策有關？

(A)渡臺禁令 (B)海禁政策 (C)劃界封山 (D)開山撫番。

()25. 小新看到一則新聞如下，文中的五條港文化園區應位於哪一個縣市？

(A)高雄市 (B)臺中市 (C)臺南市 (D)臺北市。

五條港是昔日清帝國時存在於今某縣市中區裡的五條商用港道，由北到南分別是新港墘港、佛頭港、南勢港、南河港與安海港，當時為商船往返臺灣與中國大陸的重要據點，也是清帝國時期臺灣府城最重要的商業門戶，今日市府所設立的五條港文化園區即是因此而設。

()26. 有位傳教士在回憶錄提到以下內容。請問：此回憶錄最有可能出自哪位傳教士？

(A)馬雅各 (B)馬偕 (C)韋廉士 (D)戴潮春。

(一)在兩國開戰前，我從香港想回臺灣，卻被當成是德國間諜，只好去見法軍司令才被允許回臺上岸。回臺後，英國領事還給我一份證明說我是英國人。

(二)戰事逼近我在淡水的教堂時，曾醫治受傷的清軍與法軍，劉銘傳大人還獎勵我，並賠給我在戰火中受損的教產。

- ()27. 臺灣首支國產火箭「飛鼠一號」在發射前，獲得當地原住民族召開部落會議認可後，也將由部落舉行傳統祈福儀式，請祖靈保佑發射順利。上述政府或私人於原住民族土地或部落及其周邊一定範圍內之公有土地從事土地開發、資源利用等，應諮商並取得原住民族或部落同意使用，這是依據下列何項法律的規定？
 (A)國家語言發展法 (B)中華民國憲法 (C)原住民族基本法 (D)原住民族別認定辦法。
- ()28. 法國於2018年，全國實施「禁止學生在校園內使用手機、平板電腦、智慧型手錶等電子產品。」該國總統表示「為了防止校園霸凌、暴力、色情等不良行為擴散，且來學校是為了學習，故適當的限制將有助於學生學習。」下列敘述何者正確？
 (A)該政策的主要目的，是透過法律來限制學生的隱私權
 (B)根據法國總統的論述，手機可能助長網路霸凌的發生
 (C)此項規定是希望透過學生自我管理，來控制使用手機
 (D)網路上不能有校園霸凌的行為，若是開玩笑的，就沒有關係。
- ()29. 為達成到學校學習的目的，政府制定了明確的規範，確保學生在校園生活中的權利。下列有關學生權利保障的敘述，何者正確？
 (A)《憲法》規定，學生不受任何體罰，避免造成身心侵害
 (B)《教育基本法》規定人民有受國民教育的權利與義務
 (C)為了維護學生身體自主權，學校不得無故搜查學生書包
 (D)每個人應該都要有維護自己名譽以及保有隱私的權利。
- ()30. 哲哲正在協助建置部落網站的各個專區，其中某個專區如右圖。
 請根據圖文內容與部落的概念判斷，該專區的設置是為了以下何項目的？
 (A)提醒原住民族注意文化認同的危機
 (B)藉由集會遊行的方式表達部落訴求
 (C)協助發展原住民族部落自治與運作
 (D)凝聚部落的祖靈信仰以及語言傳承。
- 檔案下載區

部落章程

部落會議通知書

部落會議簽到表

原住民家戶清冊

同意事項會議記錄

異議書
- ()31. 七年九班正在開會討論校外教學的地點，主席說：「目前依序有提案一飛牛牧場和提案二麗寶樂園，如果沒有別的意見要討論，我們就進行舉手表決，贊成麗寶樂園的請舉手。」此時，小惠舉手大喊：「主席，我提出●●，應該要……」請問依會議規範，文中小惠發言的內容最有可能是下列何者？
 (A)討論事項，應要先討論表決方式 (B)權宜問題，應要採用無記名投票
 (C)秩序問題，應要先表決飛牛牧場 (D)臨時動議，應要增加第三個旅遊地點。
- ()32. 下列有關「社區參與」敘述，何者有誤？
 (A)我到社區的圖書館，借閱圖書並在自習室看書
 (B)舉辦社區清潔日，居民利用假日打掃社區環境
 (C)政府計畫在社區蓋焚化爐，居民展開陳情抗議
 (D)居民發行社區刊物，以認識社區的環境和歷史。
- ()33. 「社區」及「部落」的組成要素不同，但兩者仍有許多的共同點，其中下列何者屬之？
 (A)居民擁有歸屬感是最重要的關鍵 (B)都需由政府主導，才能得到經費補助
 (C)都有成立發展協會來維護區域文化 (D)都有共同的文化與價值觀，供居民遵循。
- ()34. 屏東縣牡丹鄉排灣族四林村高姓村民的老屋要重建，數十位族人開始分工合作，老屋拆除、建材貨料到位後，師傅級的族人帶著後輩灌水泥打地基、綁鋼筋、砌磚牆，不僅贊助部分建材，工錢全免，估計省下三分之二的費用，其中一名族人說：「這就是原住民代代相傳的部落共工互助機制，很開心我們還保留著。」上文展現出原住民族部落的何種重要性？
 (A)傳統信仰中心 (B)基本政治組織 (C)生產分配中心 (D)語言文化傳承。

- ()35. 曾有原住民因持獵槍射殺山羌等保育類動物，被依違反《野生動物保育法》等法律判刑，引起許多原住民抗爭表達訴求，認為此舉是對傳統文化的歧視，也剝奪原住民依照習俗狩獵的權利。請問：若從「部落重建」的精神判斷，下列針對上述內容的意見，何者最為適當？
- (A)抗爭擾亂社會秩序且浪費社會資源，應立法禁止 (B)傳統的狩獵文化已經不合時宜，應該要盡快廢除
(C)尊重傳統文化與生態保育，兩者間應要取得平衡 (D)由全民一同討論後，再辦公民投票表決較為適合。
- ()36. 右圖為某學者於會議中提出的資料，從此份資料可以看出下列哪一項應為此次會議的主題？
- (A)參考原住民族對生態保護的作法 (B)發起社會運動訴求原住民族自治
(C)結合傳統文化創造永續發展契機 (D)確認部落的政治組織及運作模式。
- ()37. 根據右圖對話內容判斷，下列何項事務亦是小花在開會時扮演角色份內工作？
- (A)提示會議的規則 (B)宣達會議進行的程序
(C)宣布開會、散會 (D)記錄報告事宜及決議要點
- ()38. 韓劇《黑暗榮耀》劇情描述女主角出生在一個貧窮的家庭中，高中時期，她不幸被班上的惡霸五人幫選中，成為她們長期霸凌的對象。女主角甚至被高溫的捲髮棒燙得體無完膚。被霸凌的痛苦記憶如影隨形的跟著她，讓她成年後決定對霸凌她的高中同學展開一系列的復仇。請問：上述劇情突顯出女主角在高中時期，哪一項學生的權利受到侵害？
- (A)身體自主權 (B)受教權 (C)隱私權 (D)財產權。
- ()39. 阿成是位具有太魯閣族血統的公民老師，在課堂上講述原住民族某項議題時，分享了下面這段話：「我的祖先常對孩子們說，人死後，他的靈魂必定會在彩虹橋的橋頭，凡是斬獲過敵人首級的男人和會織布與編織的女人，一洗手便立刻會冒出血來，像這樣的人就可以通過彩虹橋，到祖靈那裡享福。因此為了能經過彩虹橋，男人要去取敵人的首級，女人必須會織布與編織。」由上述內容判斷，阿成正在講述哪一項原住民族的議題？
- (A)發展部落特色的經濟產業 (B)傳統信仰為部落生活重心
(C)強化共工共享的互助方式 (D)創造永續發展的生態環境。
- ()40. 紀錄片「回家」介紹屏東縣三地門鄉的大社部落，因有居住安全疑慮而被政府強制安置於山下組合屋，且被要求不再回原居住地居住。對此族人表示：失去了土地，失去了人情，我失去了我的族人，我的文化，我就覺得我什麼都失去了，我的小孩子也沒有童年。這段話述說了下列何者的重要？
- (A)有土斯有財，原住民族傳統領域代表他們的財富，政府不得剝奪
(B)人不親土親，原住民族是因居住在同一塊土地而連結的地緣團體
(C)原住民族仰賴土地維生，土地除了是居住場所，更是生活方式及文化
(D)原住民族以打獵維生，若無山地提供獵物，經濟會受影響

- ◎從山胞變成原住民族
◎回復個人傳統姓名權利
◎曹族陳情改名為鄒族
◎吳鳳鄉更名為阿里山鄉

小草：你在作什麼？
小花：我在做開會的準備，我待會要負責處理提案的討論和表決。

BDACA DCDDD

CDCBB DABAD

BBDDC BCBDC

CAACC BCABC