

一、選擇題：每題 2 分，共 100 分

- ()01. 愷愷前往夏威夷群島檀香山 (157°W, 21°N) 旅遊，在旅遊的過程中將夏威夷的相關資訊記錄下來，期待帶回去和同學分享所見所聞。請問：下列關於愷愷的記錄內容，何者最為恰當？
 (A) 夏威夷分布在美洲及歐洲間 (B) 夏威夷群島屬於大陸島類型
 (C) 夏威夷群島散布在大西洋上 (D) 夏威夷屬於玻里尼西亞群島。

- ()02. 右【圖 1】是美國某年的重要環境災害及其發生位置圖，包含乾旱、龍捲風、地震、颶風等。請問：圖中甲、乙、丙、丁分別為何種災害？
 (A) 甲—颶風；乙—龍捲風；丙—乾旱；丁—地震。
 (B) 甲—颶風；乙—乾旱；丙—地震；丁—龍捲風。
 (C) 甲—地震；乙—颶風；丙—乾旱；丁—龍捲風。
 (D) 甲—地震；乙—乾旱；丙—颶風；丁—龍捲風。



【圖 1】

- ()03. 讓消費者一整年都看得到 Zespri 奇異果，是 Zespri 在品牌經營上的重要策略，但由於紐西蘭的奇異果一年只收成一次，每年會有數個月的斷貨危機。為解決此問題，Zespri 找上北半球的法、義、日、韓等國的果農合作，以達全年、全球供貨的目標。請問：文中提及的合作國家，和紐西蘭具有哪一共同自然環境特徵？
 (A) 地質條件相似 (B) 降雨季節相同
 (C) 盛行風向一致 (D) 緯度位置接近。

- ()04. 現代社會通訊技術發達，有助於訊息的交流，許多民眾傾向利用社群媒體蒐集旅遊資訊，規畫行程。小裴經營的個人頻道《「裴」你去旅行》某天粉絲問小裴去某個地區旅行的建議，右【圖 2】是小裴給予該粉絲建議的部分對話內容，請問：根據圖中的對話內容判斷，小裴的粉絲最有可能是詢問去下列哪個地區旅行的建議？
 (A) 巴西 (B) 挪威 (C) 澳洲 (D) 紐西蘭。

最適合冰河健行的月分？

Like Comment Share

建議你11~2月去玩，雖然全年都是雨季，但夏季氣溫較高，晴天機率也較高，而且夏季的開團數量是冬季的兩倍

如果想省錢就6~8月去吧，冬季的健行團團費較低，但狂風暴雪的機率較高，要跟天氣賭一把就是了

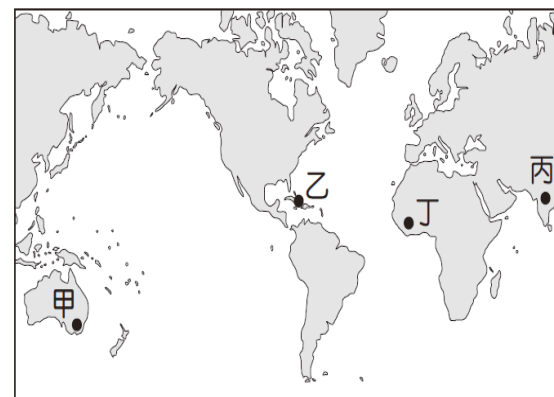
【圖 2】

- ()05. 古柯和祕魯人的生活可以說有著密不可分的關係。古柯 (Coca) 是一種原生於南美洲祕魯、玻利維亞一帶的植物；早在數千年前，印加人就已有使用古柯的習慣，不僅是醫療上的麻醉藥物，也是平常生活中提神、抗飢、補充體力的重要食材；而身處海拔 3000 公尺以上的高山國度，在旅館、餐廳等地方常會看到古柯葉 (如右【圖 3】) 或古柯茶包，可以緩解高山反應的症狀。請問：根據前述文字，在中南美洲下列哪個地理區旅遊時，最容易在旅館、餐廳看到古柯葉或古柯茶包？
 (A) 洛磯山脈 (B) 彭巴草原 (C) 巴西高原 (D) 安地斯山。



【圖 3】

- ()06. 航海家在發現這裡之前，此地的菸草種植和使用，已有 3 千年以上的歷史。1492 年，由西班牙王室所贊助的船隊抵達這裡，上岸探險的兩名水手嚐了幾口，成為最早吸菸的歐洲人，其後菸草也跟著歐洲人的腳步傳遍世界各地。請問：文中的「這裡」，應是右【圖 4】中的何處？
 (A) 甲 (B) 乙 (C) 丙 (D) 丁。



【圖 4】

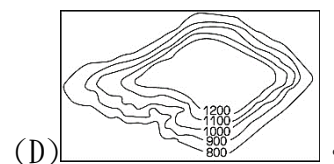
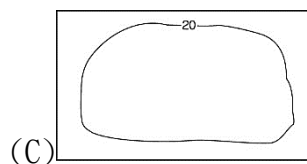
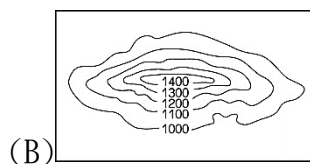
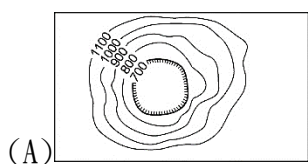
- ()07. 右【圖 5】是北極航道圖，由西北航線和東北航線構成，隨著全球暖化愈趨嚴重，極區冰層持續消融，近年這兩條航線在夏季已開通，伴隨海上航行時間、距離縮減的現象，促使此航道運量增長。請問：根據上述，此現象讓下列哪兩地間的海運受惠相對較多？



【圖 5】

- (A) 泰國 曼谷至印度 孟買
(B) 日本 橫濱至丹麥 哥本哈根
(C) 巴西 里約熱內盧至秘魯 利馬
(D) 義大利 威尼斯至南非 開普敦。

- ()08. 兩極地區的北極跟南極地區是兩個半球最高緯的地區，但在氣溫的測量結果，南極地區的氣溫較北極地區還得更嚴寒，主要差異的原因是在地形的主體部分不同。請問：南極地區的地形主體為下列何者，導致氣溫較北極地區嚴寒？



- ()09. 目前全球多達 98% 的鐵礦砂用於鋼鐵業，鋼鐵廠將鐵礦砂、焦煤及石灰石等原料，經高爐生產出粗鋼，再依不同使用方式製造出各式鋼材，主要用在建築、機械和造船等產業。全球鐵礦砂分布相對集中，含鐵量高的鐵礦資源多集中在澳洲西部、巴西南部與印度南部等，請問：這些產地有豐富的鐵礦砂原料，是因具備下列哪項共同特點？

- (A) 多為地質古老的高原地形 (B) 皆位於熱帶氣候區的範圍
(C) 位環太平洋火山地震帶上 (D) 皆面臨寒暖流交會的海域。

- ()10. 澳洲昆士蘭州的 Ingham 建立於 1864 年（如右圖【圖 6】黑框處），到此地打工度假的小澍正準備寫明信片回臺灣向朋友介紹這個地區的所見所聞。請問：若小澍想要用文字描述該地區的地理特徵，下列敘述何者最為合適？

- (A) 濃醇香乳品之鄉 (B) 麝香葡萄酒小鎮 (C) 彩色斑斕珊瑚礁 (D) 金黃色小麥之都。



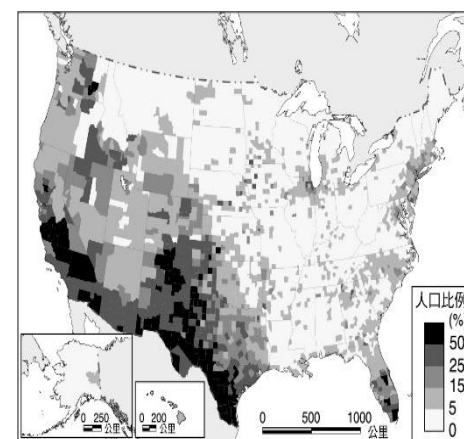
【圖 6】

- ()11. 秘魯被列為世界文化遺產的「納斯卡線 (Nazca Lines)」，是散落在納斯卡沙漠荒土上，數百個神秘而巨大的地畫圖像，若非從遠處或高空俯瞰，幾乎難以窺見圖騰全貌。散落在納斯卡沙漠的這些巨畫，主要以石塊擺放與挖除表層土壤形成色差，構成圖樣線條，此處儘管此處西臨太平洋，卻是世界上最乾燥的地區之一。請問：根據所學，納斯卡線所在的地區，其乾燥氣候的成因，與下列哪個地理區有共通點？

- (A) 美國西南部沙漠 (B) 中國塔克拉瑪干沙漠
(C) 澳洲中部辛普森沙漠 (D) 阿根廷巴塔哥尼亞沙漠。

- ()12. 右【圖 7】是美國境內某個外來族群的分布圖，依照所學，請問：下列有關於該族群的相關敘述，何者正確？

- (A) 受過去歷史因素影響，全部皆以葡萄牙語交談
(B) 屬於非洲裔勞動力，多分布在美國棉花帶工作
(C) 該族群受到歷史殖民母國影響，多信奉天主教
(D) 為美洲的原住民族因紐特人，並有三大古文明。

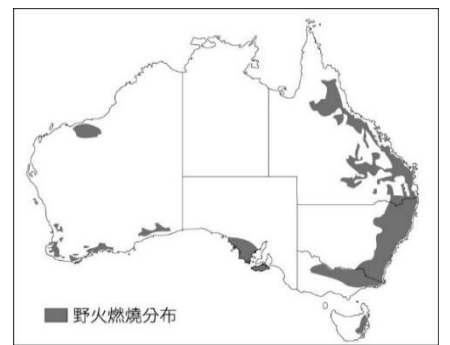


【圖 7】

- ()13. 阿睿是一家跨國企業的老闆，除了長期耕耘臺灣跟亞洲地區的市場外，近年更預計往大洋洲、美洲擴張企業版圖，想要創立橫跨三洲的大企業。為了拓展業務，阿睿來到澳洲進行洽談，在過程中發現當地政府的經貿政策從過去與歐洲國家互動密切，到近年則以亞太地區為當地外銷產品的主要市場。請問：根據上述文字，澳洲近年來將貿易重心放在亞太地區，這跟澳洲加入下列哪一個國際組織關係最為密切？

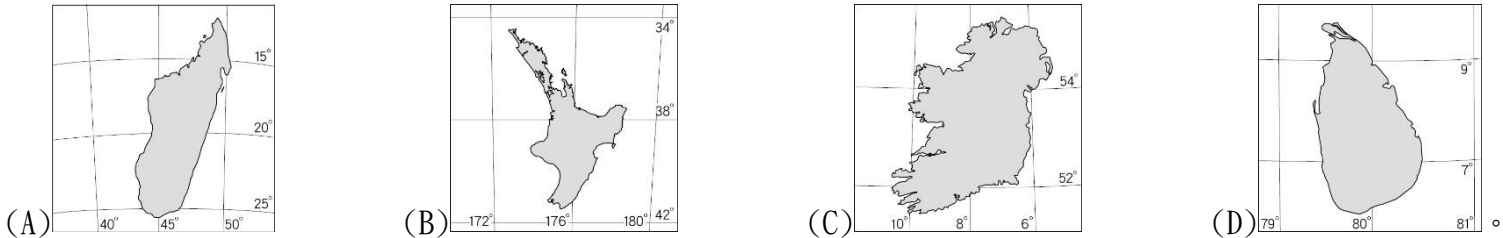


2019年，可以說是澳洲近百年來最熱的一年。澳洲人幾乎年年都要對抗森林大火，但這次從2019年9月開始持續延燒的大火，不僅燒毀數百萬英畝土地，也奪走五億多隻動物的性命。這次澳洲森林大火的主因，被認為是從2019年12月中旬開始的熱浪，以及已長達3年的乾旱，隨之而來的極端高溫、乾旱及強風成為助長火勢的元素，根據研究，是受多重氣候因子綜合影響，尤其是「全球暖化」。右【圖9】是該年度澳洲野火燃燒的分布圖，請根據圖中的資訊，回答第14-15題：

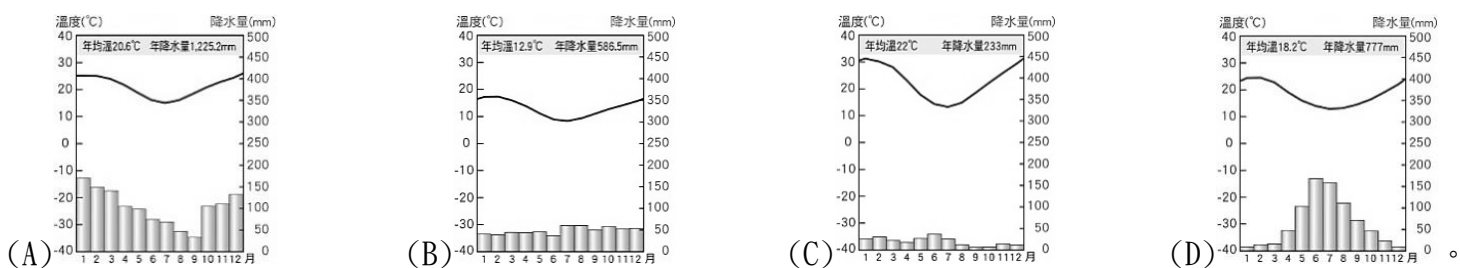


【圖9】

()14. 在野火發生後，各國陸續派出救難隊抵達澳洲，下列四個島嶼派出的救難隊，哪個與澳洲距離最近，能夠最即時將救援人力及物資送達當地？



()15. 根據右【圖9】判斷，該年度野火燃燒分布最廣的地區的氣候類型主要為下列何者？



()16. 「共產主義並不剝奪任何人占有社會產品的權力，它只剝奪利用這種占有，去奴役他人勞動的權力…共產黨人可以把自已的理論概括為一句話：消滅私有制。」請問：上述理論出現的時代背景為何？

- (A)文藝復興後，對現世生活的重視 (B)海外探險後，歐洲經濟秩序重整
(C)工業革命後，各種社會弊病橫生 (D)啟蒙運動後，思考資源合理分配。

()17. 人文學者米拉多蘭曾經自問：「為什麼人類是萬物中最幸運的？」「為什麼人在宇宙中占了如此重要的地位？」他自己回答說：「上帝創造了這個世界以後，希望人類能欣賞這個世界的美麗，並歌頌這個世界的偉大，於是上帝同時賦予人類自由的意志。人類可以自由自在地在這個世界做出他們所願望的一切。」根據上文，請選出最符合此一時代精神的論述：

- (A)中世紀歐洲：神的恩典是黑暗時代的救贖 (B)文藝復興時代：從上帝之城轉到人類之城
(C)宗教改革時代：挑戰威權，人人皆是教士 (D)啟蒙運動時期：尊崇理性，批判傳統教條。

()18. 中世紀後期，歐洲某一地區的商人用西方的絲織品、金屬品等交換拜占庭和伊斯蘭教徒的精細工藝品，或是從東方來的香料、絲、棉、糖、染料等。他們回到本土後將東方的貨物，除了少數為供應當地市場的需要外，其餘則以批發價格售予資本較小的商人，再由他們轉售到其他地區，所得獲利甚多。試判斷，上文所述應是指何地？

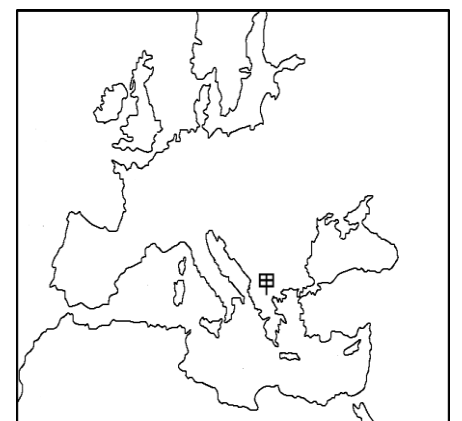
- (A)義大利 (B)葡萄牙 (C)西班牙 (D)日耳曼。

()19. 1554年，一位神聖羅馬帝國特使出使至右【圖10】中的甲地，並報導他在當地的見聞：「他們沒有時鐘標示時間……他們有一種報時人員，利用水鐘判斷時間。當天快破曉時，就從一座高塔放聲呼叫，為的是敦促眾人前來祈禱，大老遠就聽得到。他們在日出和中午間重複這動作，中午再來一遍，接下來是中午和日落之間，最後日落時再重複一次。」請問：當時甲地正值哪一政權統治？從報導內容判斷，該祈禱方式是哪一宗教獨有？

- (A)拜占庭帝國，東正教 (B)蒙兀兒帝國，印度教
(C)阿拉伯帝國，伊斯蘭教 (D)鄂圖曼帝國，伊斯蘭教。

()20. 「哥倫布無畏的向前跨出地理發現的一大步，十字架則林立四周，彷彿造物主偉大不可侵犯，然而鮮血卻正從畫了十字架的帆布流淌而下……。」試問：下列哪一選項最足以佐證雙底線的文字敘述？

- (A)美洲白銀大量流進中國，促成明朝貨幣經濟的重大變化
(B)歐洲殖民者的入侵造成美洲原住民的死亡與古文明滅絕
(C)大西洋沿岸國家取代地中海周邊的國家活躍於歷史舞臺
(D)亞洲部分土地成為歐洲列強的商業據點，如中國的澳門。



【圖10】

()21. 以下有四則與基督教相關的史料——

請問：哪一份資料內容最貼近四世紀羅馬皇帝君士坦丁的宗教態度？

(A)	總督的士兵給他披上紅色的外袍，又用荊棘編成冠，戴在他的頭上，把一根蘆葦放在他的右手，跪在他面前譏笑他說：「猶太人的王萬歲。」
(B)	不應(主動)搜捕這班人，如果他們受人檢舉而證明屬實，則理應受罰；…如被告否認為基督徒，而以崇拜我們的神來證明，他既悔過，就應免罪，雖然過去或有嫌疑。
(C)	任何人不得剝奪其遵奉基督教，或任何一自認最適合的宗教的機會。希望上帝將因我們對祂真心誠意的敬仰而降恩澤。…有關基督徒的一切禁令均已取消，今後凡欲崇奉基督教者，能自公開行之，不得受阻。
(D)	凡在我們寬大統治下的人民，都應繼續崇奉聖彼得傳授給我們羅馬人的宗教(指基督教)。我們命令，凡信奉這道理的應有「公教基督徒」的名號；其他人…既是狂妄不經之徒，應以「異端者」的污名稱之…他們將遭受到的不僅是天主的處罰…，也是我們法律的制裁。

()22. 西元 1521 年，神聖羅馬帝國皇帝查理五世在帝國會議中，對某事件申明他的立場，以防止此一事件繼續延燒，衝擊帝國內部的安寧。他以堅決的語氣宣示：「很明顯，當一位孤立的兄弟發表與整個基督教相反的言論時，他的話是謬論，否則千年、甚至更久以來的基督教就成了謬誤。因此，我決心以我的王國、領地、朋友，以及我的身體、鮮血和靈魂去鬥爭。」請問：這位遭到指責的「孤立的兄弟」最可能是誰？

(A)君士坦丁 (B)查士丁尼 (C)馬丁路德 (D)羅耀拉。

()23. 西元 1610 年伽利略出版《星際使者》一書，震撼全歐洲，當時人們宣稱「哥倫布發現了新大陸，伽利略發現了新宇宙」，遂稱之為「天空的哥倫布」。請問：伽利略的貢獻最可能為何？

(A)天文學界中首度提出太陽為宇宙中心論 (B)利用新工具觀察天體證實哥白尼的學說
(C)提出三大運動定律及萬有引力的科學家 (D)協助編撰百科全書將知識做系統性整理。

()24. 2025 年 1 月 20 日即將重返白宮的美國總統川普 (Donald Trump) 表示，他上任之後將對所有進口商品加徵 10% 關稅，而來自中國的進口產品關稅稅率將高達 60%，以提振美國工業，他也揚言要對鄰邦加拿大、墨西哥的商品徵收 25% 關稅。試問，美國總統川普的主張與下列何人的論點相悖？

(A)洛克 (B)馬克思 (C)喀爾文 (D)亞當斯密。

()25. 右【圖 11】為十六世紀的手稿本，每頁有左、右兩欄，左欄是西班牙文，右欄是以拉丁文字母書寫的納瓦特爾語。成書過程先是方濟會傳教士請耆老以當地的納瓦特爾語解釋其文化和宗教習俗，再由傳教士及其學生等人編寫右欄、繪製插圖，最後再將右欄內容譯成西班牙語，寫在左欄。納瓦特爾語最可能是何地的語言？



(A)巴西 (B)印度 (C)印尼 (D)墨西哥。

()26. 詩人布朗寧曾寫過一首詩：「我們很衰弱，不能跑或跳，我們整天拖著重擔，通過黑暗的煤礦地下道，或整天駕著鐵輪，在工廠裡團團繞。」試問，這首詩出現的背景最可能是下列何者？

(A)基督教創立後，羅馬帝國對基督徒的各種迫害 (B)歐洲人海外拓殖後中南美洲原住民的悲慘遭遇
(C)中古時期穆斯林虐待前往耶路撒冷的基督教徒 (D)工業革命後資本家雇用童工，壓榨工人的景況。

()27. 書中關於某座建築物的介紹如下：「此建築是歷史上某一帝國皇帝為為了紀念已故皇后而興建的陵墓。建築物主殿的基本設計元素源於波斯，主殿上巨大的圓頂是最壯觀的特徵，其圓頂飾清晰地表現了波斯風格和印度裝飾元素的融合，而頂端為兩角向上的新月形，為伊斯蘭王朝廣泛使用的象徵。」根據上文內容判斷，該建築最可能是下列何者？



(A)



(B)



(C)



(D)

()28. 某人覺得自己犯了罪過，便依照教會要求，前往指定教堂悔罪，還要申請贖罪。一位修士則給予憑證，赦免教會對他的處罰。試問，這位修士最可能隸屬於哪一教派？

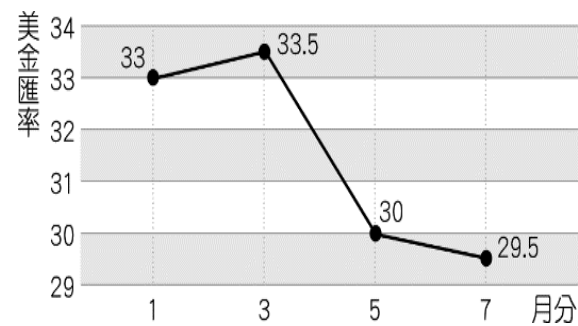
(A)羅馬公教 (B)路德教派 (C)伊斯蘭教 (D)希臘正教。

- ()29. 某個時期，一群受過教育的歐洲人指出：「鐘錶匠設計了一個複雜的機器，讓它準確報時；上帝創造宇宙之後，站在一旁，讓它根據自身的規律運轉。」由此，他們認為：宗教的精義不在於人類得救問題，而在於遵循宇宙的合理性與完美性。這是下列哪一時代的典型態度？
 (A)10 世紀的天主教徒 (B)15 世紀的人文學者 (C)18 世紀的啟蒙學者 (D)19 世紀的共產主義者。
- ()30. 「政府能夠代表國家行使統治權，是因為它經由合法的方式，獲得大多數人民的授權，而被統治的人民為了本身利益也願意與政府合作。若政府沒有獲得多數人民的授權，也不代表多數人民的利益，那麼人民應撤回自願的合作，絕不履行所謂的國民義務。但要嚴格遵守非暴力的原則，不可使用暴力反抗，要忍受暴力的打擊，自我犧牲，但絕不妥協，絕不服從，誓死反抗。」此文主要反映出下列何人的理念？
 (A)盧梭 (B)洛克 (C)馬克思 (D)伏爾泰。
- ()31. 在一次金融與經濟情勢預測研討會中，某政府官員發表相關職權的談話：「全球面臨科技進步及全球化的發展、在低通膨與低利率環境下的經濟長期停滯，皆讓貨幣政策面臨挑戰。」請問，該官員所任職的機關具備下列哪項特色？
 (A)民眾可到此機關存款與借款 (B)維持公平交易維持經濟秩序穩定
 (C)保護消費者權益並接受申訴 (D)往來對象僅限於政府與金融機構。
- ()32. 小廣是我國的貿易商，因此特別關注日幣匯率的變化。下表是 2023 年 8~11 月，1 日幣兌換新臺幣的匯率變動情形。根據下【表 1】中資料，不考慮其他條件，下列相關敘述何者正確？

月分	8	9	10	11
新臺幣	0.2234	0.2201	0.2128	0.2073
日幣	1	1	1	1

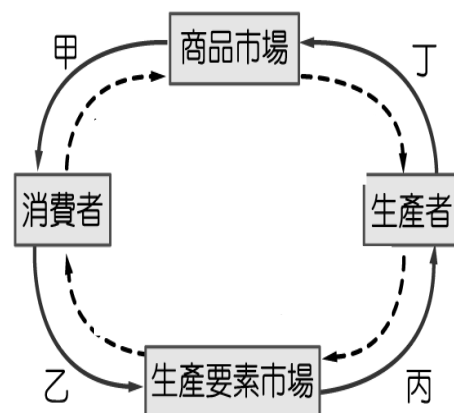
【表 1】

- (A)小廣要將新臺幣兌換成日幣，必須至中央銀行辦理 (B)相較 8 月，11 月小廣用相同新臺幣可兌換到較多日幣
 (C)對日本進口商而言，11 月從我國進口商品較 8 月有利 (D)11 月新臺幣對日幣升值，有利於我國商品出口至日本。
- ()33. 我國少子化與高齡化的情況日益嚴重，未來恐面臨勞動力不足的危機。政府除了促進人口成長以減緩影響程度外，根據人力運用調查資料顯示，2018 年時約有 150 萬的壯年人口，因須承擔無酬勞動而未就業，有學者建議可設法提高這些人參與市場勞動的意願。根據上述內容判斷，下列何者最可能是該學者的建議之一？
 (A)增加高齡勞工的就業職缺 (B)健全國際志工的培訓制度
 (C)修法保障勞工的就業福利 (D)廣設優質平價的托育機構。
- ()34. 新聞報導：「中國每年向全世界出口幾十億雙鞋子，但中美貿易觸礁之後，中國製鞋廠訂單減少，再加上人力成本的不斷攀升，一些企業開始向東南亞轉移，中國鞋類產量占比下降至 45.5%，而位居第 2-4 名的東南亞國家印度、越南及印尼的產量合計占比則成上升趨勢。」請問：上述說明下列何種現象？
 (A)東南亞國家製鞋機會成本較低 (B)中國製鞋工人沒有失業的問題
 (C)鞋產業屬高技術、高利潤產業 (D)中國較東南亞不重視勞動權益。
- ()35. 怪獸電力公司向美國進口 200 臺定價 1599 美金的發電機，假設某年 1 美金兌換新臺幣的匯率如下圖，根據右【圖 13】中內容判斷，若以新臺幣為衡量單位，哪一月份的進貨成本最高？
 (A)1 月 (B)3 月 (C)5 月 (D)7 月。



【圖 13】

- ()36. 2000 年到 2009 年間，辛巴威發生長期物價大幅上漲即為通貨膨脹。2004 年，辛巴威通貨膨脹達到了 624%，經過政府的調控，2005 年的通貨膨脹率低於 3 位數，然而到了 2006 年又飆到了 1,730%，2007 年辛巴威通膨率達到上升到 11,000%，最嚴重時每個月通膨率達 79,600,000,000%，辛巴威政府甚至印出面額高達 100 兆的鈔票，情況嚴峻迫使辛巴威長期棄用本國貨幣改用美元。請問此時辛巴威會出現下列何種現象？
 (A)貨幣的面額大、價值越高 (B)貨幣的購買力逐漸的上升
 (C)人們儲蓄的意願不斷提高 (D)民眾搶購、囤積生活物資。
- ()37. 近年交通部推動多元化計程車方案，號稱臺版 Uber，車身顏色放寬，除了一般計程車用的黃色禁用，以做區隔外，業者可自選顏色，車資費率也放寬，但業者不得在路上攬客，得透過 APP 預約叫車，並採用電子支付方式付費。目前高雄市已有多家業者上路，依據高雄市政府規劃，多元化計程車收費下限不得低於現行市內計程車運價，上限則不得高於 2 倍。喬克加入多元化計程車業者行列，(I)購買了一輛小自客車，(II)提供線上預約叫車的服務，請問：(I)、(II)畫雙底線敘述是分別屬於右【圖 14】中的哪一項？



【圖 14】

- (A)甲、乙 (B)甲、丙 (C)乙、丁 (D)丙、丁。

- ()38. 根據 2020 年 4 月統計臺灣信用卡持卡人平均一人持卡張數為 4.18 張，信用卡流通數為 4,773 萬張，顯示民眾使用信用卡頻繁，但是也因此延伸的法律問題也逐漸浮現，包括持卡人償還不出刷卡金額的卡債問題，以及遭人偽造盜刷信用卡的問題，都須請政府加以重視並處理。若偽造他人信用卡，企圖在連鎖量販店盜刷，所產生的法律責任與下哪種相同？
 (A) 撿到手機據為己有被失主提起自訴 (B) 搭乘捷運時不禮讓博愛座給需要的民眾
 (C) 餐廳不符合衛生標準遭開罰五萬元 (D) 不小心將朋友的手機摔壞賠償修理費用。
- ()39. 翔陽在網購平臺上買了一件球衣，經賣家確認尺寸與款式無誤後即安排出貨，翔陽也利用線上完成付款，3 天後收到衣服的翔陽立刻試穿，卻發現穿起來不如預期好看，故於貨到當天立即向賣家要求退貨還款，不料賣家以事前確認過訂單無誤為由拒絕。翔陽將此事件告訴好友們請求協助，以下為大家的建議，下列何人的說法最為正確？
 (A) 影山：「親自到地方的消費者保護處尋求協助。」
 (B) 月島：「可向行政院公平交易委員會提起訴願。」
 (C) 西谷：「消費者保護法規定網路購物享有 7 天的猶豫期。」
 (D) 澤村：「可用調解解決紛爭，若調解不成可依《公平交易法》提出訴訟。」。
- ()40. 經濟學之父—亞當斯密經典的一段話：「我們的晚餐，不是來自屠夫與釀酒師的善心，而是來自他們的自利。」他提出「看不見的手」，所指的就是市場機能，當每個參與經濟的角色皆追求極大化自利（可能是效用，可能是利潤），市場機能或價格機能充分運作下，自然而然能讓市場在無形間從不均衡的狀態往均衡調整。透過價格的運作，市場自然能夠調和供需雙方並達成資源的有效配置。根據上文敘述，請問：下列何者是由「一隻看不見的手」決定？
 (甲) 國際航線機票價格 (乙) 美元兌換新臺幣的匯率
 (丙) 地震災民領取愛心捐贈物資 (丁) 澎湖縣政府舉辦花火節的預算。
 (A) 甲乙 (B) 丙丁 (C) 甲乙丙 (D) 甲丙丁。

DDDDD BBDAC

CCDBA CBADB

CCBDD DAACA

DBDAB DDACA