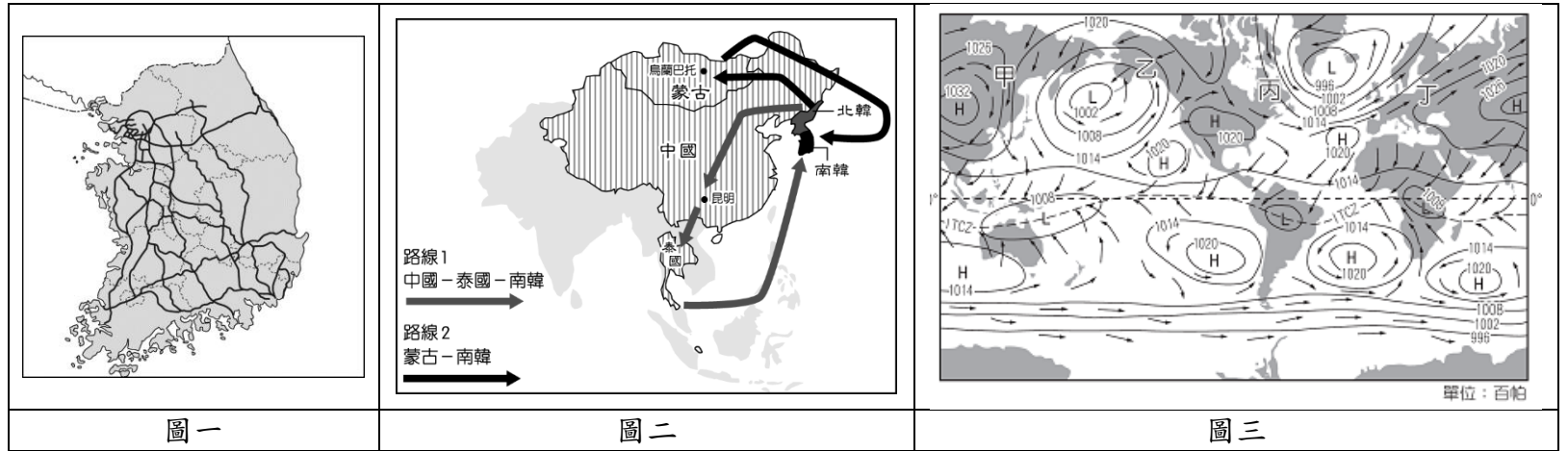


國立南科國際實驗高級中學 113 學年度第 1 學期八年級社會科補考題庫

一、選擇題：

- ()01. 「據厚生勞動省的數據顯示，2021 年日本的出生人數比 2020 年減少 2 萬 9 千多人，出生嬰兒約 81 萬 1 千多人；死亡人數則比 2020 年增加 5 萬 9 千多人，達到 145.2 萬人。如果情況未有改變，預估到 2050 年前，日本人口將從 1.27 億人減少至 9 千 5 百萬人，少了約 1/3 的人口。」為了因應上述可能發生的狀況，日本政府最應採取下列哪些措施？(甲)發放家庭育兒津貼；(乙)增加醫療資源，降低死亡率；(丙)鼓勵老年人移往他國養老；(丁)增強托兒服務。
- (A)甲乙 (B)甲丙 (C)乙丁 (D)甲丁。

- ()02. 下圖一為韓國的高速公路的路線地圖，圖中最可以反映出哪一項朝鮮半島的地理特質？
- (A)冬季時吹西北季風 (B)地形東部高西部低 (C)西部水力資源豐富 (D)寒流流經東部沿海。



- ()03. 北韓為共產國家，實施極權統治且經濟發展落後，因此經常出現北韓民眾逃亡海外，成為國際難民以期獲得其他國家的政治庇護。附圖二為北韓難民的主要脫逃路線，請問：由附圖中的路線 1 來看，北韓難民抵達泰國後，不會經過哪個海域才能前往南韓尋求庇護？

- (A)東海 (B)南海 (C)黃海 (D)日本海。

- ()04. 圖三為世界某日的地面天氣圖，依圖中的等壓線推論，此時最可能出現下列何種現象？

- (A)日本北海道的櫻花盛開 (B)韓國首爾楓葉陸續轉紅
(C)臺灣海峽東北季風強勁 (D)廣東深圳遭遇強颱風侵襲。

- ()05. 緯度相近的日本、韓國與中國華北同樣屬於溫帶季風氣候，但是所表現的氣候特色卻頗有差異。請問此三者氣候的差異在下列哪些方面表現得最為明顯？

- (甲)年溫差；(乙)季風方向；(丙)降水量多寡；(丁)夏季氣溫。

- (A)甲乙 (B)乙丙 (C)甲丙 (D)丙丁。

- ()06. 韓國的大型企業固然帶動經濟的發展，但也可能帶來下列哪兩項缺點？

- (甲)壓縮中小企業的發展空間；(乙)易受國際金融風暴的衝擊；(丙)產品易受國際市場價格波動；(丁)人才流失嚴重。

- (A)甲乙 (B)乙丙 (C)甲丙 (D)乙丁。

- ()07. 日本政府 2008 年推出的留學生 30 萬人計畫，其目的是為了吸引各國的頂尖學生成為日本的重要高度人才，實際的情況卻是留學生成了「學工」，在便利商店或餐飲業等服務業都可以看到外國留學生的身影，為了學費每天超時工作，但當局對黑工一事視而不見。日本這種狀況的原因與下列敘述何者相同？

- (A)工廠移至東南亞國家 (B)超商推出無人店服務 (C)開發老人照護新產業 (D)港口多進口工業原料。

- ()08. 日本的漁業活動發展甚早，漁獲量常居世界第一。自古以來，魚貝類一直是日本人最重要的動物性蛋白質來源，甚至創造一百多個以魚為部首的漢字，諸如：鮭、鯊、鯖、鱈等。請問：造成日本人上述食魚文化的產生，不包括下列何者？

- (A)地狹人稠 (B)島嶼廣布 (C)寒暖流交會 (D)海岸線平直。

- ()09. 韓流風潮席捲亞洲，從電視劇、偶像歌手到現今的文化觀光，透過明星魅力及新穎的行銷手法，吸引許多「哈韓族」前往朝聖，成為南韓重要的收益來源。下列何者是南韓政府現今發展的面向？

- (甲)發展娛樂影視業，結合品牌化時尚產業；(乙)開採金屬能源礦，以積極發展汽車工業；
(丙)保留傳統韓文化，體現文化觀光的價值；(丁)投資高科技產業，開發手機、遊戲軟體；
(戊)成立加工出口區，發展輕工業產品為主。

- (A)甲乙丙 (B)甲丙丁 (C)乙丙戊 (D)丙丁戊。

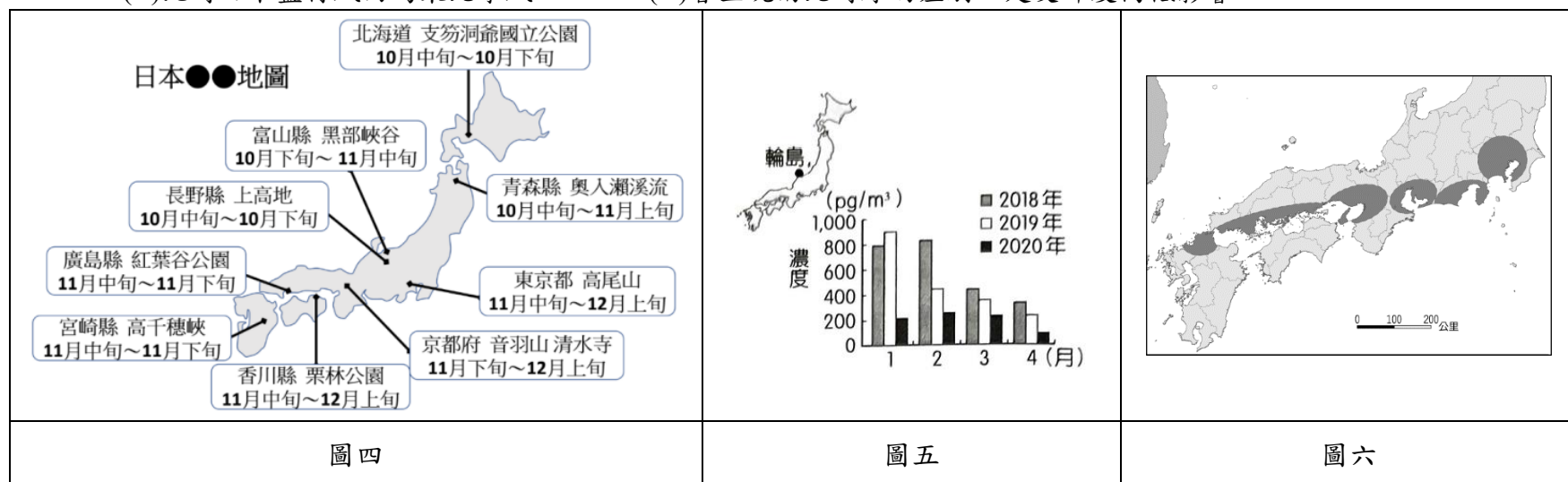
- ()10. 朝鮮半島上有兩個國家——南韓與北韓，兩國雖然位在同一個半島上，但是自然資源與人文環境差異很大。附表中兩國的比較哪幾項錯誤？

國家	(甲)年溫差	(乙)地形	(丙)天然資源	(丁)產業活動
北韓	較大	地勢較低	豐富，原料動力充足	重工業發達
南韓	較小	地勢較高	較缺乏	以軍事工業為主

- (A)甲乙丁 (B)乙丙丁 (C)乙丙 (D)乙丁。
- ()11. 2023 年因 COVID-19 疫情趨緩，各國旅遊潮大爆發，地理老師也決定寒假到日本京都(135°E)旅遊，並於 2024 的 1 月 5 日便先利用訂房系統預定當地的飯店，訂房系統顯示京都時間 1 月 6 日 00:00 前都可免費取消，請問：地理老師若想更換飯店，最晚需於臺灣何時取消原訂單，才不會被扣款？
- (A)1 月 5 日 23:00 (B)1 月 6 日 23:00 (C)1 月 5 日 1:00 (D)1 月 6 日 1:00。
- ()12. 表中甲~丁為 2019 年亞洲太平洋地區的中國、日本、南韓及臺灣，國家面積、預期壽命、平均受教育年限和經濟指標的比較，以下有關四個國家的敘述何者是完全正確的？

	面積(萬 km ²)	預期壽命(年)	平均受教育(年)	GDP(百萬美元)	人均GDP(美元)
甲	959.7	76.7	7.9	14,342,903	10,262
乙	3.6	80.7	12.2	646,041	27,371
丙	10.0	82.8	12.2	1,642,383	31,762
丁	37.8	84.5	12.8	5,081,770	40,247

- (A)甲和乙都是以山地和高原為主的國家 (B)乙和丁都是位於環太平洋火山地震帶上
- (C)甲和丁的主食都是以小麥為主 (D)乙和丙冬夏季節吹的風向都相同。
- ()13. 小琪 2024 年規畫自己的日本旅遊計畫，如圖四，她參考了旅遊網站發現了一張主題觀光地圖。但是地圖的主題卻沒有呈現，對於該旅遊地圖的敘述何者正確？
- (A)此旅遊地圖主題為賞櫻 (B)該主題依時間早晚順序呈現由南向北排列
- (C)此時日本盛行風向為東北季風 (D)會呈現南北時序的差別，是受緯度高低影響。



- ()14. 多環芳香烴(PAHs)為一種空氣汙染物，主要是由化石燃料、木材、垃圾等有機物的不完全燃燒所產生。圖五為日本金澤大學輪島空氣監測站在 2018~2020 年相同月分測得的多環芳香烴濃度統計圖，圖中 2020 年當地多環芳香烴濃度的變化，與中國在新型冠狀病毒疫情下，多數工廠停工，使盛行風帶來的汙染源減少有關。上文提及的盛行風為下列何種風向？
- (A)↖ (B)↙ (C)↗ (D)↘。
- ()15. 日本是亞洲著名的工業大國，主要工業區集中於最大島東側太平洋沿岸地帶，如圖六所示，歷來以生產品質精良、穩定可靠的工業產品行銷國際。請問：下列何者與日本主要工業區分布形成的區位條件最似？
- (A)挪威 沙威曼鮭魚工廠 (B)法國 佛卡夏麵包工廠
- (C)臺灣 高雄臨海工業區 (D)中國 北京中關村園區。
- ()16. 「產業空洞化」指企業為降低成本，將生產單位轉移至生產成本相對較低的國家，導致其國內失業率提高、產業衰退與經濟結構失衡的現象。這個現象也是經濟全球化之後，世界上許多經濟發展速度較快的已開發國家正在面臨的問題，考驗國家領導人處理的智慧。請問下列四個日本的人民，何者最有可能會面臨所屬產業外移的問題？
- (A)在東京市郊養乳牛的晴子 (B)在太平洋從事遠洋捕撈的魚住
- (C)在玩具工廠組裝的流川 (D)在任天堂遊戲研發部上班的櫻木。

- ()17. 日本和南韓在地形、氣候和人口密度條件大致相仿，兩國也皆有發展「集約的水稻農業」。若以此種農業型態判斷，附表中哪一個國家的數據會與日、韓兩國最為接近？

國家	年均溫(°C)	山地佔全國面積比例 (%)	人口密度(人/ km ²)
甲	14.8	64	379
乙	21.4	72	5
丙	16.1	8	43
丁	3.7	15	202

- (A)甲國 (B)乙國 (C)丙國 (D)丁國。
- ()18. 小駱翻閱清代發行的報刊，發現以下的文字：「去叫『谷』(go)，是叫『也司』(yes)，勿叫『諾』(no)，如此如此(so and so)，請儂坐叫『雪堂雪堂』(sit down)，烘洋山芋叫『撲鐵禿』(potato)，爹叫『發茶』(father)，娘叫『賣茶』(mother)」請問：這種怪里怪氣的英文，應該是源自於中國哪個城市的產物？
(A)北京 (B)上海 (C)西安 (D)哈爾濱。
- ()19. 中國向來自視為「天朝」，其他諸國則為「蠻夷番邦」，這樣的觀念在明清時代達到最高峰。但隨著世界局勢變化，到清末時已不得不放棄這樣的思想，轉而加入平等往來的現代國際關係中。請問以下哪個事件最能展現出清政府外交思想的轉變？
(A)設立總理衙門 (B)推行君主立憲 (C)鴉片戰爭爆發 (D)實施戊戌變法。
- ()20. 中國女報的創辦人秋瑾曾奉父母之命，與門當戶對的王廷鈞結婚。但二人婚後卻在思想上出現極大落差，王廷鈞從小苦讀儒家經典，奉行中國傳統倫理道德，秋瑾卻是個思想前衛的時代新女性，曾因穿著男裝去看戲而造成社會轟動。最後秋瑾毅然選擇離婚，赴日留學進修，過著獨立自主的生活，追求實現自我的人生。請問秋瑾的選擇可反映出清末民初什麼風氣？
(A)城市工商業開始發展經濟繁榮 (B)仇視洋人與其帶入的基督教
(C)儒家思想在中國根深蒂固的地位 (D)個人與家族的關係開始轉變。
- ()21. 二十世紀初期，有一名臺灣人在福建因為商業訴訟紛爭遭到清朝官吏逮捕，此事引發日本政府抗議，依據與清朝簽訂的條約規定：「日本臣民在中國境內的訴訟，皆由日本派官吏調查，與中國官員無關。」以此為由，要求釋放該名臺灣人。由上述日本援引的條約內容，可見日本享有哪一項權利？
(A)協定關稅 (B)領事裁判權 (C)設立租界 (D)片面最惠國待遇。
- ()22. 清末，某篇社論報導：「長期以來都是白種人打敗黃種人，而這次戰爭將使人認識到國家強弱之分，不是由於種而是由於制。明確提出，國家強弱的關鍵在於制度，而在於其他。」請問此戰爭之後造成什麼影響？
(A)中國開始著手戊戌變法 (B)中國派幼童至美國留學 (C)派大臣至國外考察憲政 (D)成立京師大學堂。
- ()23. 中國面臨亡國之際，康有為曾面見光緒皇帝，提出：「能變則全，不變則亡；全變則強，小變仍亡。」意指改革變法應該全面施行，而不是像以往皮毛、片面，只流於器物層次的「小變」。請問：下列何者符合康有為所說的「小變」？
(A)自強運動 (B)戊戌變法 (C)庚子後新政 (D)立憲運動。
- ()24. 關於日本在十九世紀中後期的發展，下列何者正確？
(A)遭受英國以武力要求開港通商 (B)擁護明治天皇，推行西化改革
(C)假借台灣漁民被殺，出兵琉球 (D)與俄國爭奪朝鮮的權益，獲勝。
- ()25. 清末不平等條約對中國的影響極大，請問以下敘述的影響正確者有幾項？
(甲)《南京條約》—公使進駐北京； (乙)《辛丑條約》—賠款數額最大，影響國計民生；
(丙)《馬關條約》—割讓臺灣、朝鮮； (丁)中英、法《天津條約》—外國軍隊進駐北京，造成國防洞開。
(A)1項 (B)2項 (C)3項 (D)4項。
- ()26. 曾用功是清末讀書人，他寒窗苦讀好不容易考取舉人的功名後，一直等待考上進士的機會，但卻因為制度的變革，他只能另謀出路，到新式學堂念書，學習洋文與西方科技。根據判斷，上述的制度改革，可能與下列何者最相關？
(A)自強運動 (B)戊戌變法 (C)庚子後新政 (D)革命運動。
- ()27. 以下是清末文人對某事件的描述：「當時在官府的默許下，群眾進入天津租界，縱火焚燒教堂、房屋，於是各街市店鋪有販售洋貨者，皆用紅紙將招牌上的『洋』字糊上，以防群眾焚掠。即便是一般家庭日用之物，如洋燈、鐘錶等類，也都掩藏不敢使用。」根據上文判斷，此事件最後造成什麼影響？
(A)外國公使可以進駐北京 (B)外國人在中國設立工廠
(C)中國展開自強運動改革 (D)慈禧下詔辦理新政改革。

()28. 萱萱平時沈迷於閱讀穿越小说，沒想到晚上睡覺居然夢見自己穿越時空到 19 世紀末的通商口岸，成為當時的新時代女性，請問下列場景何者不該出現在萱萱的夢中？

- (A)穿著西服、洋服，成為流行女王 (B)平常會搭乘電車到附近公園遊玩
(C)在家相父教子成為當代模範婦女 (D)與女同學課後相約喝咖啡看賽馬。



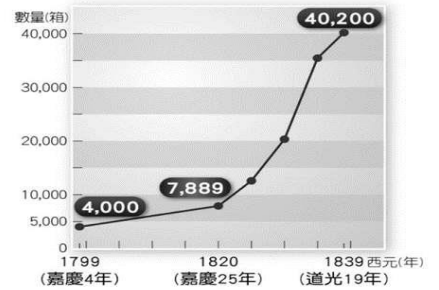
圖七

()29. 右圖七為 1894~1895 年間，刊登於英國諷刺雜誌《Punch》的時事漫畫，畫中人物分別代表中國與日本。請問關於這場戰爭的敘述，下列何者正確？

- (A)起因為琉球國內亂 (B)中國戰敗簽天津條約
(C)戰後琉球被日本併吞 (D)出現臺灣民主國抗日。

()30. 右圖八是清末自英國輸入某商品的數量變化。請問：依史實判斷，下列敘述何者觀點有誤？

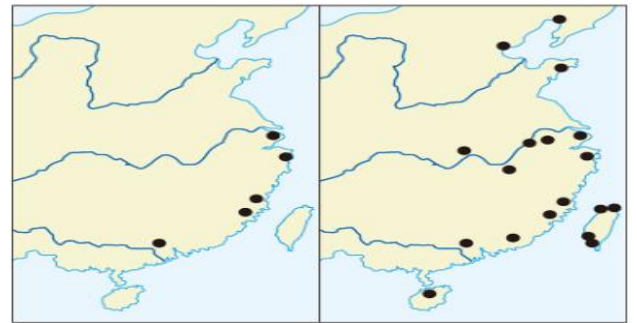
- (A)英國為了改善貿易，曾派遣使者馬加爾尼使節團來謁見道光皇帝
(B)英國將此商品大量輸入中國的目的是為了平衡與中國的貿易逆差
(C)此項商品大量輸入中國，造成中國白銀外流，士兵體弱無法作戰
(D)中國派遣林則徐為欽差大臣進行查禁，嚴厲要求英方不得再販售。



圖八

()31. 右圖為清末中國通商口岸數量增加的狀況，請問由圖九到圖十與某事件有關，關於此事件下列敘述何者正確？

- (A)此事件後中國對外陷入不平等地位
(B)此事件後中國開始制度層次的改革
(C)此事件後外國可以在中國設立工廠
(D)此事件後臺灣的對外貿易開始出超。



圖九

圖十

◆ 題組題，請根據文章內容，回答第 32~33 題：

1841 年，英國海軍艦隊占領香港，而廣州藥房也趁勢到香港島上環的「占領角」開設「香港大藥房」，出售藥物給駐港英軍，用以醫治熱症和瘧疾。此後，香港大藥房的生意，也就愈做愈大了。1855 年，托馬斯·屈臣 (Mr. Thomas Boswell Watson) 加入香港大藥房。1858 年，他的侄子亞歷山大·斯柯文·屈臣 (Alexander Skirving Watson) 擔任藥劑師。1871 年，以小屈臣之名，藥房更名為屈臣氏公司 (A.S. Watson & Company)，並成為正式的商业品牌。這家公司的中文名稱，是根據當地人的廣州話發音而來的。所以把「Watsons」譯為「屈臣氏」，這就是我們在大街小巷都能看到的屈臣氏的起源。19 世紀後期，屈臣氏成功在中國各地開辦多家分號，成為成功的連鎖企業，同時發展汽水、飲料生產，以及酒類進出口生意。屈臣氏在香港與廣州影響深遠，擁有數十家大藥房，並且積極參與公益事業。1887 年，孫中山先生以第一名考進西醫書院後，就曾以優異成績 (化學 90 分、物理 92.5 分、生理學 81.5 分)，獲得屈臣氏獎學金。19 世紀末，中國已有超過 30 家屈臣氏大藥房，一海之隔的香港，也有超過 30 家的屈臣氏。當時的屈臣氏大藥房，大多設在中國最繁榮的城市裡最繁忙的大街上。到了 20 世紀初，屈臣氏已經發展成遠東最大的藥房。

()32. 根據上文，請問屈臣氏可以在中國大放異彩，發展成遠東最大的藥房，是與下列哪一場戰爭有關？

- (A)鴉片戰爭 (B)英法聯軍 (C)甲午戰爭 (D)八國聯軍。

()33. 在半個世紀之間，屈臣氏大藥房能在中國各地開辦多家分號的原因，最可能是？

- (A)自強運動推行有成 (B)販售鴉片賺取利益 (C)中國經濟繁榮發展 (D)西式飲食習慣普及。

森有禮被稱為日本現代教育之父，其對日本的教育改革政策廣為人知。他亦是一名外交家。1875 年曾派駐中國，並且與清朝大臣李鴻章對於日本改穿西服一事有過爭論。雙方對話內容如下：

李鴻章：「衣冠是祖先遺制，子孫不應改變。日本人穿洋服，就是失去獨立精神，難道不覺得可恥嗎？」

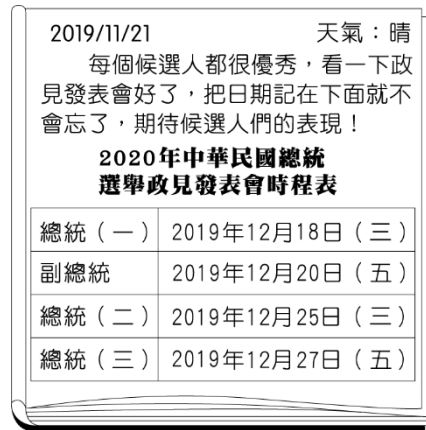
森有禮：「祖宗生於今日，也一定會改變衣冠。日本向來攝取各國之長，洋服比和服輕便、適用，為什麼不能變？」

李鴻章：「中國學西方，只學它的兵器、鐵道、電信之類、絕不會變衣冠。」

森有禮：「貴國人士四百年前也不穿閣下這樣的服裝吧？清兵入關時，強迫漢人變革服裝髮型，貴國人士最初不也是很反感嗎？」

李鴻章對於森有禮的質問感到驚嚇，莫敢回話，立刻轉移話題。

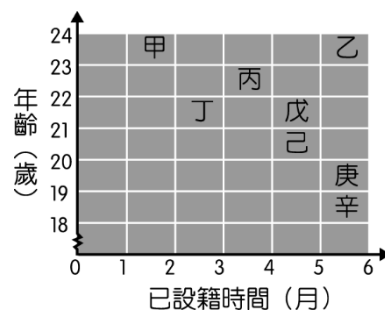
- ()34. 從二人的對話中可以看出中、日兩國對於改革運動的差異性。關於中、日改革運動的說明，下列何者較為適合？
- (A)李鴻章是反對中國改革，因此對於日本改革運動深感不屑
 (B)八國聯軍證明中國的改革運動是失敗，日本明治維新成功
 (C)日本改革受到國內一致的肯定，沒有反對聲浪，因此成功
 (D)日本願意接受西服，表示其從思想、文化層面深度的改革，而中國拒絕接受，則表示其停留在表面器物的變革。
- ()35. 日本總務省公布，第 50 屆眾議院選舉的投票率為 53.85%。東京大學教授小林哲郎解釋，日本許多年輕人認為「一票無法改變現狀」，且家庭和友誼間少有政治討論，讓政治在日常生活中的存在感較低。相較之下，台灣的投票率則顯著較高，尤其在總統大選中，過去十年投票率保持在 65%-75%左右。根據下圖中小由的日記所述，他所採取的政治參與方式為何？



- (A)參與投票 (B)投入政黨活動 (C)關心時事 (D)投書媒體。
- ()36. 2024 年中華民國立法委員選舉於 1 月 13 日舉行，下表是我國辦理立法委員選舉時四位國民的相關資料。根據資料判斷，下列哪個人最可能在本次選舉中具有投票資格？

姓名	年齡 (歲)	在選區設籍時間	備註
小華	18	七個月	就讀大學中
小春	25	三個月	曾有竊盜罪前科
小旗	42	五個月	喪失我國國籍
小滿	65	九個月	受法院監護宣告

- (A)小華 (B)小春 (C)小旗 (D)小滿。
- ()37. 2024 年 12 月南韓總統尹錫悅 (Yoon Suk Yeol) 因宣布戒嚴而遭到彈劾。憲法法院將決定是否罷免他或恢復他的總統權力。該法院計劃於 12 月 27 日舉行首次預備聽證會。據路透社報導，12 月 21 日有支持和反對尹錫悅的示威者，在首爾舉行遊行，兩個遊行隊伍相隔數百公尺表達各自的訴求。請問上述畫線處凸顯公共意見的下列何種特性？
- (A)議題性 (B)變動性 (C)影響性 (D)複雜性。
- ()38. 即將舉辦臺南市議員選舉，以下有八位年輕人為想要出來參選，其皆設籍在臺南市，附圖是他們在投票日當天的參選資格示意圖。由圖中資訊判斷，下列幾個人能參選此次選舉？



- (A)1 人 (B)2 人 (C)3 人 (D)5 人。
- ()39. 小億：「新冠肺炎疫情全球延燒，台灣援助國際首波千萬片口罩，近日陸續由華航貨機送抵歐美各國，物資外裝雖可見『台灣能幫忙』圖樣與我國國旗等，卻因華航『China Airlines』字樣，甚至有國際媒體誤解是中國捐贈，台灣社會因而湧現要求華航改名的聲浪。」小健：「是阿，根據《TVBS》民調顯示，51%民眾不支持華航改名，支持的比例僅有 26%，剩餘 22%未表示意見。」請問關於小億的說法，最能展現哪一項公共意見的特性？
- (A)民眾對公共利益相關的事務公開表達並形成議題 (B)社會成員對同一項議題的意見表達經常呈現複雜現象
 (C)公共意見並非恆久不變，它會隨時空變化而改變 (D)民眾意見形成後，常會影響利益團體或政府的作為。

- ()40. 2024 年 1 月 13 日，我國舉行第 16 任總統、副總統選舉與第 11 屆立法委員選舉。此次選舉受到國內外關注，在德國念書的小喬和被公司派駐越南的小魚，都特地搭機返國參與投票。請問不論是小喬或小魚，他們的選票均具有同等價值，這是選舉的何項原則？
- (A)平等原則 (B)直接原則 (C)無記名原則 (D)普通原則。

01.DBDCC

06.ABDBD

11.ABDDC

16.CABAD

21.BCABA

26.CDCDA

31.DADDC

36.DDAAA