

國立南科國際實驗高級中學 107 學年第 2 學期第 3 次定評八年級社會科題目卷

八年 班 號 姓名：

注意事項：單選題，以 2B 鉛筆劃記於電腦卡上，每題 2 分。資料務必書寫整齊及畫卡正確，請勿潦草漏寫。畫記有誤予以扣分(參閱本校成績評量辦法)，成績以電腦讀卡為主。

- ( ) 1. 住在高雄市新興區的張先生想要依照調解程序，向辱罵他是「腦震盪的豬」的惡鄰居討回公道。請問，他應該到哪裡求助才正確？  
 (A) 高雄市地方法院 (B) 高雄市新興區警察局派出所 (C) 高雄市地檢署  
 (D) 高雄市新興區區公所
- ( ) 2. 若發生衝突的雙方能達成協議，提出和解也是解決問題的方式之一，關於和解的敘述何者正確？  
 (A) 一進入到司法訴訟程序後就無法再進行和解  
 (B) 民事糾紛或告訴乃論的刑事案件均可進行和解  
 (C) 非告訴乃論的刑事案件，也可以進行和解  
 (D) 訴訟上和解必須經過調解委員會來進行，調解完成後再講調解書送交法院核定。
- ( ) 3. 壯男之漢和曲棍球王子宜康因口角發生衝突，各自委託律師上法院解決，但法院並未判決任何一方敗訴。由上述可推測出，他們可能是尋求何種方式來化解衝突？  
 (A) 訴訟上和解 (B) 訴訟上調解 (C) 訴訟外和解 (D) 訴訟外調解
- ( ) 4. 在我國，權利救濟的途徑包括和解及調解等。下列是關於「和解」與「調解」之適用範圍的認識，何者**錯誤**？  
 (A) 民事案件兩者皆可適用 (B) 非告訴乃論的刑事案件，和解及調解均不適用  
 (C) 兩者的好處在於程序簡單、方便 (D) 不論何種刑事案件，和解及調解均不適用
- ( ) 5. 下表是佩涵就權利救濟的筆記資料。若打✓代表可以採用的權利救濟方式，附表中將會出現幾個✓？

項目	民事案件	刑事案件	
		告訴乃論	非告訴乃論
和解	<input type="checkbox"/>	<input type="checkbox"/>	<input type="checkbox"/>
調解	<input type="checkbox"/>	<input type="checkbox"/>	<input type="checkbox"/>
訴訟	<input type="checkbox"/>	<input type="checkbox"/>	<input type="checkbox"/>

- (A) 6 (B) 7 (C) 8 (D) 9
- ( ) 6. 大茂積欠房東王先生三個月的房租費，王先生向大茂催討，大茂不但不還錢，還大言不慚用三字經辱罵王先生。王先生可因大茂的行為向法院透過哪些方式來捍衛自己的權利？  
 (A) 民事訴訟、行政訴訟 (B) 民事訴訟、刑事訴訟  
 (C) 刑事訴訟、行政訴訟 (D) 民事訴訟、刑事訴訟、行政訴訟

- ( ) 7. 小芸無意中看見有人被毆打，立即以手機通知警察來處理。小芸的行為屬於下列何者？  
 (A) 告發 (B) 自訴 (C) 公訴 (D) 告訴
- ( ) 8. 小明因長期失業導致收入不穩定，後來繳不起房貸，銀行便向法院要求將他的房子查封法拍。銀行的行為應是提起哪種司法手段的結果？  
 (A) 仲裁 (B) 行政 (C) 刑事 (D) 民事
- ( ) 9. 在日本電影《HERO》中，木村拓哉飾演的男主角久利生公平是個公務員，他的職務是代表國家蒐集證據，向法院提出公訴。久利生公平擔任的職務應為何？  
 (A) 法官 (B) 檢察官 (C) 律師 (D) 書記官
- ( ) 10. 剛滿 15 歲的小新有一次在爸爸的房間中看到成人色情光碟，某日他趁爸爸不在時偷偷播放，沒想到酒醉回家的父親非但沒有阻止，反而與他一起欣賞。小新父親的行為很可能已經觸犯哪一種法律？  
 (A) 《兒童及少年福利與權益保障法》 (B) 《兒童及少年性剝削防制條例》  
 (C) 《少年事件處理法》 (D) 《散佈猥褻品罪》
- ( ) 11. 少年犯被帶回警察局時，警察為何會讓他們戴上有鏡片遮蓋的安全帽，並在進到警局後面對牆壁，背對記者的攝影機與照相機？  
 (A) 照相機的閃光燈會傷害他們的眼睛 (B) 他們受《少年事件處理法》的保護  
 (C) 區別主嫌與共犯 (D) 讓他們面壁思過
- ( ) 12. 下列是哆啦 A 夢一群人在暑假的打工情形，其中哪個打工環境符合《勞動基準法》對於童工的保護規定？  
 (A) 靜香下午 1 點到 7 點在補習班擔任接線生  
 (B) 在工地爬鷹架、綁鋼筋，時薪 145 元的胖虎  
 (C) 在 7-ELEVEN 上例假日白天班的大雄  
 (D) 一天在製鞋工廠工作 9 小時的哆啦 A 夢
- ( ) 13. 新聞報導：「臺北市政府連續對遠雄建設公司開出兩張罰單，共罰款新臺幣 190 萬元，由於遠雄不服裁處，提出訴願，但訴願被駁回後，又向『甲』提起訴訟；若遠雄仍敗訴，還可向『乙』上訴，因此須等臺北市政府勝訴確認後，才能執行處罰。」上文中的「甲」、「乙」依序應填入何種機關？  
 (A) 高等法院、最高法院 (B) 高等行政法院、最高行政法院  
 (C) 地方法院行政訴訟庭、高等法院 (D) 行政法院、最高法院

國立南科國際實驗高級中學 107 學年第 2 學期第 3 次定評八年級社會科題目卷

八年 班 號 姓名：

- ( )14. 近來，海外遭遣送中國的臺籍詐欺犯嫌已破百人，詐騙集團考量中國詐欺刑責重於臺灣，因而將遣返目標轉回臺灣，各界擔憂司法若是輕判縱容，將使臺灣成為詐欺犯的「避風港」。右列關於上述詐欺案件的訴訟程序，哪些可能是正確的？
- (A)甲乙 (B)丙丁 (C)甲丙 (D)乙丁
- ( )15. 張學良曾說：「做為一個軍人，我應是被槍斃；但依我的良心，我沒有做錯！」請問：張學良因何事而發表此番言論？
- (A)策畫聯俄容共 (B)對蔣兵諫 (C)八年抗戰時投降日本 (D)國共內戰時投降共軍。
- ( )16. 「滿洲國」於民國 21 年 3 月 1 日建立，直到第二次世界大戰結束，「滿洲國」皇帝溥儀於民國 34 年 8 月 18 日宣讀《退位詔書》後解散。請問「滿洲國」的建立，與哪一史事的爆發有關？
- (A)日俄戰爭 (B)九一八事變 (C)珍珠港事變 (D)盧溝橋事變。
- ( )17. 民國 14 年，孫中山逝世前留下「革命尚未成功，同志仍須努力」的遺囑。請問「革命尚未成功」指的是下列何者？
- (A)軍閥尚未消滅，全國尚未統一 (B)袁世凱竊國稱帝 (C)段祺瑞毀棄《臨時約法》 (D)日本成立「滿洲國」，中國尚未統一。
- ( )18. 他是美國耶魯大學政治經濟學博士，回國後在河北省定縣的農村推行鄉村教育。他認為中國農民的主要病症在「愚、窮、弱、私」，所以主張提高國民的知識水準。請問：這位「平民教育之父」是誰？
- (A)胡適 (B)陳獨秀 (C)晏陽初 (D)蔡元培。
- ( )19. 中國大陸有句順口溜：「兵農工學商，個個去學商；中國西北東，個個去廣東。」請問：這句順口溜所指的政策，與下列哪一位領導人較無關？
- (A)毛澤東 (B)鄧小平 (C)江澤民 (D)胡錦濤。
- ( )20. 二禎向老師借了一本《烽煙滿神州—中國近代戰爭史》閱讀。對於某場戰爭中，採取「以空間換取時間」的策略，首都由南京向重慶搬遷的史事特別感興趣。請問：導致這場戰爭爆發的導火線為何？

甲：書記官偵辦案件，並向地方法院提起公訴  
乙：地方法院法官進行審理，並作出有罪判決  
丙：詐欺被告若不服判決，可向高等行政法院提起上訴  
丁：當詐欺被告被判有罪定讞，就是有罪之人，須負起刑事責任

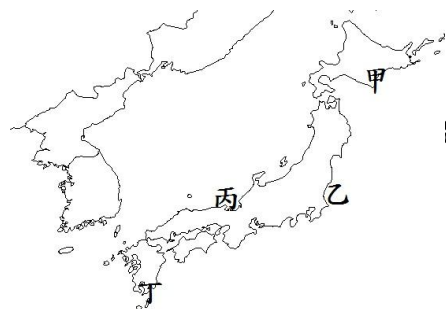
- (A)中共欲奪取國民黨政權 (B)濟南慘案 (C)九一八事變 (D)盧溝橋事變。
- ( )21. 參加「強國歷史」社團的同學，以「八年抗戰」為主題，進行各種身份的角色扮演。請問：下列那一個角色完全正確？
- (A)中國：民國 26 年，日本侵略我國東北，我國忍無可忍，決定對日抗戰。  
(B)日本：淞滬會戰期間，中國與我軍在南京纏鬥三個多月，打碎我國企圖『三個月亡華』的目標。  
(C)美國：日本竟敢偷襲我國在大西洋上的軍事基地珍珠港，我們一定要討回公道，對日本宣戰。  
(D)蘇聯：雅爾達會議中，美英兩國承諾，若我國對日宣戰，即可取回日俄戰爭前在中國東北的特權。
- ( )22. 北大教授的陳大環曾經目睹了一場發生在中國的浩劫。紅衛兵四處破壞各地文物古蹟，並且打著掃除舊思想的名義，破壞傳統倫理道德。陳大環自己也被學生們「批鬥」，被迫掛著「反動權威」的牌子跪在校門反省。請問：導致這場浩劫發生的原因為何？
- (A)欲藉「破四舊、立四新」超英趕美 (B)毛澤東想藉此行動奪回權力  
(C)對傳統文化的省思，修正共產主義 (D)中共想藉此建立「一黨專政」的權威。
- ( )23. 樵樵哥哥最新暢銷小說《錢進中國》，內容寫到：『最近，國家開始實施新政策，由政府指定中央、交通、中國、農民這幾家銀行發行法幣。我想，此政策若真能好好實行，改善過去幣制混亂的情況，買賣交易就比較好做了。』請問作者將此小說的時代背景設定為哪一時期？
- (A)國共內戰時期 (B)北伐時期 (C)對日抗戰時期 (D)黃金十年時期。
- ( )24. 中共歷史上某一時期有一種組織是「求生產力集中，用人海戰術刺激生產，內部集中領導、集合勞動、集體生活，將所有生產、生活資料通通歸公，一切生活所需都由組織供給。」請問：上文的敘述應該是指下列何事？
- (A)改革開放後的「世界工廠」 (B)中共建國初期的「土地改革」  
(C)「人民公社」的集體生產 (D)「文化大革命」的清算批鬥。
- ( )25. 美國著名饒舌歌手法瑞爾·威廉姆斯 (Pharrell William)，推出歌曲《自由》(Freedom)最新 MTV。在 MTV 中，法瑞爾呼籲人們要解放思想，要自由。他更用樂高排列小人阻擋坦克如右圖，來重現某歷史事件。請問：關於此事件下列何者敘述正確？
- (A)此事件發生在毛澤東時代 (B)此事件為五四天安門事件



國立南科國際實驗高級中學 107 學年第 2 學期第 3 次定評八年級社會科題目卷

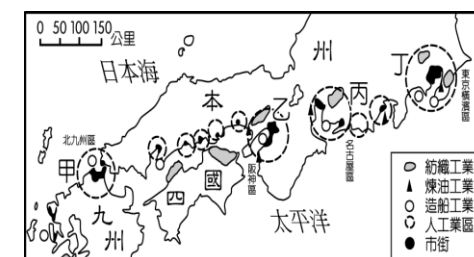
八年 班 號 姓名：

- (C)起因為學生要求第五個現代化  
(D)鄧小平最後滿足學生要求走向政治民主化。
- ( )26. (甲)語錄不離手，萬歲不離口 (乙)抗美援朝 (丙)不管黑貓白貓能捉老鼠的就是好貓 (丁)停止內戰，一致抗日。上述代表性的宣傳語，反映了中共在政策上變化的歷程。依其出現的先後，應如何排列？  
(A) (丁)(乙)(丙)(甲) (B) (乙)(丁)(甲)(丙)  
(C) (丙)(甲)(丁)(乙) (D) (丁)(乙)(甲)(丙)。
- ( )27. 右圖為《東京日日新聞》對日軍第十六師團中島部隊兩名軍官相約「殺人競賽」的報導。他們約定佔領●●時，誰先殺滿 100 人即為勝利者。殘酷的暴行，在報紙上圖文並茂連載，兩名軍官還被稱為「皇軍的英雄」。請問上述報導最可能是指下列何時何地？  
(A)1931 年的瀋陽 (B)1932 年的上海  
(C)1937 年的南京 (D)1945 年的重慶。
- ( )28. 韓國有句俗話：「泡菜是半個糧食」。光從此話便可見泡菜對於韓國人的重要性。在韓國，無論貧富貴賤，餐桌上除了主食米飯以外，定不會缺少泡菜。尤其過冬之前是醃泡菜的季節，傳統上每家大約要以鹽或辣椒醃漬 100~150 顆白菜。請問：這種習俗主要是配合韓國何項環境特色而形成？  
(A)土壤貧瘠 (B)生長季短 (C)可耕地狹小 (D)降水量稀少
- ( )29. 有關南北韓的差異，(甲)工礦原料：北韓較豐；(乙)糧食供給：北韓不足自給；(丙)動力資源：南韓較優；(丁)產業結構：南韓工商業發達；(戊)經濟政策：北韓積極推動「出口第一」政策。其中哪些正確？  
(A)甲丙戊 (B)乙丙丁 (C)甲乙丁 (D)丙丁戊。
- ( )30. 「... 台灣人泡湯文化由日治時期延續下來，觀察兩國入浴前的「注意事項」卻大不同；國內著重在提醒身體不適、健康狀況不佳者，應避免泡湯或注意泡湯時間；在日本，強調的是「全裸入浴」...」在臺灣與日本都同樣流行的「泡湯」文化。是由於同樣具有哪種地理條件才得以發展？  
(A)暖流流經(B)位於板塊接觸帶(C)海底礦產蘊藏豐富(D)季風氣候乾溼季分明
- ( )31. 太郎一家在日本經營民宿旅館，當地以擁有「全日本最早的櫻花季跟最晚的賞楓季」聞



名；近海暖流帶來的豐富漁獲，則成為旅館的招牌食物；偶爾噴發的火山雖然帶來困擾，但是卻成為不可取代的自然景觀。請問：太郎一家最可能居住在圖中的哪一個地區？

- (A)甲 (B)乙 (C)丙 (D)丁
- ( )32. 日本、韓國與臺灣均屬自然資源貧乏、人口密度高的地區，但也是二次大戰後，亞洲地區經濟成長最快速之地。試問三者經濟發展歷程中，最類似的地方是：  
(A)均以出口導向為主 (B)均強調資源出口 (C)初期均以重工業為發展目標  
(D)技術密集產業一向受到忽視
- ( )33. 日本的工業發展在亞洲地區位居龍頭，而國內主要的工業區大多分布於東南太平洋沿岸地區，如下圖所示。請問：日本煉油工業的分布與下列哪一項區位要素有關？  
(A)原料 (B)交通 (C)技術 (D)勞力
- ( )34. 下列哪一個地區在海運上處於亞、澳航線和亞、非、歐航線的通過位置，素有「世界貿易路線的十字路口」之稱，致使其民族、文化、政治均頗為複雜？  
(A)東亞 (B)東南亞 (C)南亞 (D)西亞
- ( )35. 近年台灣外貿發展的「南向政策」，促使東南亞各國與臺灣的經貿關係日益密切；下列有關東南亞投資環境特色的描述，哪些是正確的？(甲)較廉價的勞工；(乙)推動區域整合，成立南方共同市場(MERCOSUR)；(丙)缺乏礦產為其缺點；(丁)大都市多為港埠型都市利於出口；(戊)觀光業發達。  
(A)甲乙戊 (B)乙丙丁 (C)甲丁戊 (D)甲丙戊
- ( )36. 印尼婆羅洲原本美得像人間天堂，動植物種類繁多，但近年當地雨林被濫砍，生態受到嚴重威脅。國際動物救援組織 (International Animal Rescue, IAR) 近日發表一支攝於印尼婆羅洲 Sungai Putri 森林的影片，影片中，一隻紅毛猩猩為了保衛家園隻身衝向挖土機，試圖阻擋破壞其家園，結果卻不敵跌倒在



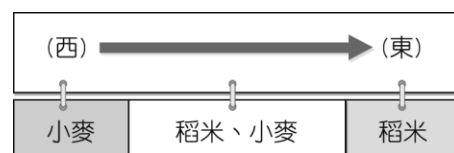
地。為了保護牠的安全，工作人員只好麻醉這隻憤怒的紅毛猩猩，讓牠遠離現場。許多人看到這影片後鼻酸落淚，不幸的是，這樣的場景在印尼越發頻繁，森林的砍伐讓紅毛猩猩數量驟減，棲息地被破壞導致牠們餓死…。請問：婆羅洲當地人砍伐森林，是因為需要利用空地進行耕種，栽培油棕樹跟橡膠樹，這應是東南亞當地盛行的何種產業？

(A)稻作農業 (B)熱帶栽培業 (C)採礦業 (D)加工出口業

- ( )37. 台灣近年來外籍移工人數增加，目前人數已接近 70 萬人，新移民的適應問題儼然成為臺灣社會的課題。請問：下列來自哪一個國家的外籍朋友最可能因為宗教信仰的關係，無法習慣台灣廣食豬肉的飲食文化？

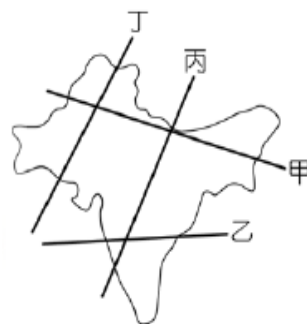
(A)泰國 (B)越南 (C)緬甸 (D)印尼。

- ( )38. 印度人口眾多，僅次於中國，為世界人口第二大國。當地主要提供糧食的印度大平原，作物分布如附圖所示，造成圖中這種作物分布差異的主要影響因素為何？



(A)土壤種類 (B)氣溫高低  
(C)雨量多寡 (D)地形起伏。

- ( )39. 印度半島地形單純，可分為三大地形區，右圖中哪一剖面正好可通過此三大地形區？



(A)甲 (B)乙 (C)丙 (D)丁。

- ( )40. 「...英國人愛喝茶，起床來一杯濃濃的早茶，下午還要吃一頓豐盛的下午茶，英國紅茶文化的原料來自印度和斯里蘭卡等國，這些地區適合種植茶樹主要是因為地形及盛行風向帶來豐沛的水氣，當地人都知道雨季當中的第一次採收的茶最嫩，所烘焙出的茶葉別有一番風味。…」依據上文判斷，最具風味的茶葉最可能是下列哪一時間所採收的？

(A)一月 (B)五月 (C)七月 (D)十二月

國立南科國際實驗高級中學

107 學年第 2 學期第 3 次定評八年級社會科答案卷

- 01. DBADB
- 06. BADBA
- 11. BABDB
- 16. BACAD
- 21. DBDCC
- 26. DCBCB
- 31. DABBC
- 36. BDCCC