

國立南科國際實驗高級中學 108 學年九年級社會科補考試題卷題庫

九年 班 號 姓名：

1.1906年4月美國某大城發生芮氏規模7.8地震；1989年10月，同地發生芮氏規模6.9地震；1994年1月，該城南方的另一大都市也發生芮氏規模6.6地震。上述地震均發生在同一都會帶中，此都會帶最可能為下列何者？

- (A)東部波士頓—華盛頓都會帶 (B)中西部芝加哥—匹茲堡都會帶
(C)西部舊金山—聖地牙哥都會帶 (D)南部美國亞特蘭大—邁阿密都會帶



2.受全球化的影響，近十多年來美國製造產業比重持續下滑、工作機會流失，這種情形在以汽車工業為主的美國某些地區尤為嚴重。2016 年美國總統大選，共和黨候選人川普提出「美國製造」的政見，誓言將工作機會帶回美國。川普原本不被看好，但在這些地區卻獲得大量勞工支持，因而意外當選。這些幫助川普逆轉勝的勞工，最可能住在位居右圖中何區？

- (A)甲 (B)乙 (C)丙 (D)丁

3.下面照片是美國某種氣象災害的景觀，下圖中的甲、乙、丙、丁代表美國的四個地區。該種氣象災害最可能出現在哪區？

- (A)甲 (B)乙 (C)丙 (D)丁



4.北美洲的人口約占全球 5%，二氧化碳排放量卻超過全球 25%。二氧化碳排放量高居不下的原因有二：其一、龐大的用電需求，每年燃燒化石燃料發電而排放的二氧化碳，占總排放量 40%以上；其二、各種運輸工具燃燒大量汽油，排放的二氧化碳，也占總排放量的 26%左右。請問：北美洲用電需求龐大，與下列哪項區域特色的關連性最密切？

- (A)區域發展不均，居民貧富差距大 (B)工商業高度發展，都市化程度高
(C)農場規模大，作物商品化程度高 (D)文化包容色彩強，多元人口移入

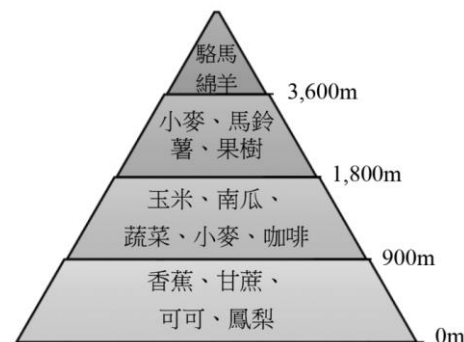
5.右圖是南美洲部分地區的簡圖，圖中甲地較乙地人口密集、經濟繁榮，其主要的原由是下列何者？

- (A)交通較為便利 (B)水源較為充足 (C)礦產資源較多 (D)氣候條件較佳。



6.右圖顯示某國農業土地利用隨著高度增加而變化。請問該國家最可能位於下列哪組經緯度涵蓋範圍內？

- (A) (45°N-50°N, 20°E-27°E)
(B) (25°S -30°S, 80°E-87°E)
(C) (45°N -50°N, 58°W-65°W)
(D) (0°-5°S, 80°W-87°W)



7.某一地區民間音樂的特點是，帶有淡淡懷鄉、憂愁的色彩，重唱形式多，唱法放鬆，音色柔和抒情。一個音樂家評論：「原住民族提供基本的五聲音階模式，並喜用單調的擊鼓聲作伴奏；殖民者帶來和弦的概念及西班牙慣用的節奏，非洲來的黑人族群則增加了變化音的修飾。」該地區最可能是？

- (A)歐洲西班牙 (B)非洲辛巴威 (C)南美洲阿根廷 (D)北美洲加拿大



8.中南美洲國家部分地區農民，依賴種植咖啡為生。當國際咖啡價格暴跌時，農民生活便無以為繼，此種現象與下列哪些農業生產的特性關係密切？ 甲、精緻農業 乙、生態農業 丙、

科技化農業 丁、農業生產專業化 戊、殖民地式經濟 (A)甲乙 (B)乙丁 (C)丙戊 (D)丁戊

9.南美洲肆虐的「茲卡病毒」主要於高溫溼熱地區借由病媒蚊蔓延，日前竟在溫帶的荷蘭爆出 10 例確診案。根據荷蘭衛生當局調查報告，這 10 個確診案例都曾經到中南美洲度假，返國後才出現身體不適相關症狀。請問荷蘭確診案例者前往旅遊的地點最可能位於附圖中何處？

(A)甲 (B)乙 (C)丙 (D)丁。

10.「違建」的貧民區幾乎成了中南美洲都市的特殊景觀，並且隨著都市擴張而不斷增加當中。造成中南美洲這種現象的主要因素為下列何者？

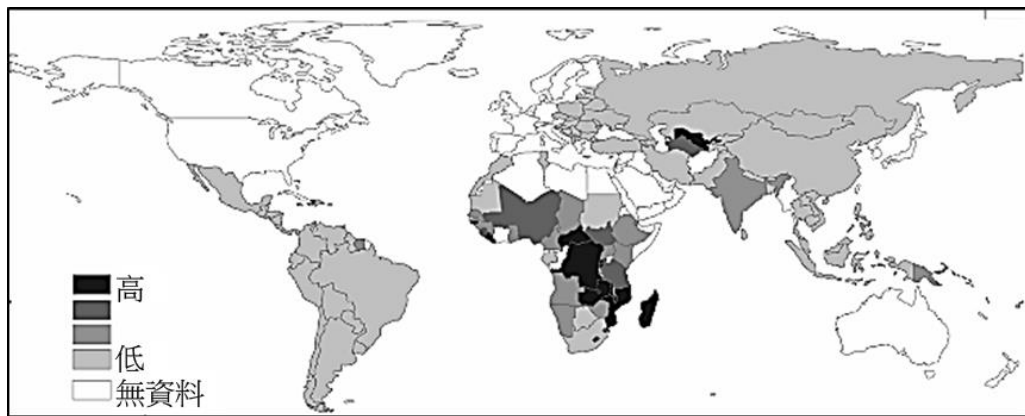
(A)都市空間有限，缺乏住宅用地 (B)工商業快速發展，住宅用地轉作他用
(C)鄉村貧困形成人口推力，大量移入都市 (D)都市發展歷史悠久，老舊社區形成貧民窟。

11.中南美洲因砍伐雨林而導致許多動物棲息地遭到嚴重破壞，生物多樣性降低。此一事實最可能對當地農業活動造成下列何種影響？

(A)生態系統破壞殺蟲劑需求量增加 (B)加劇溫室效應造成灌溉用水需求量減少
(C)水土流失導致有機肥料需求量減少 (D)農業勞動力供應量增加

12.下圖最可能是 2017 年下列哪種主題的全球分布地圖？

(A)二氧化碳排放量 (B)都市化程度 (C)國內生產毛額 (GDP) (D)貧窮線以下的人口比例

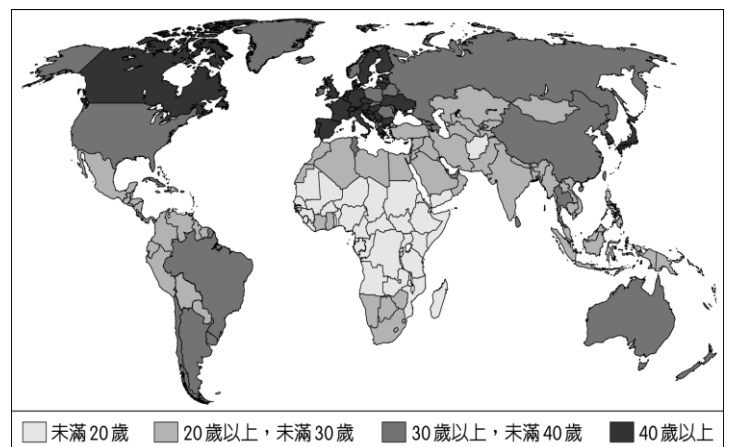


13.小鍾到非洲某地旅行時寫道：「從機場到市區的公路寬闊又平整，公路兩邊麥田、葡萄園、橄欖園到處可見。進入市區後，歐式建築相當普遍，中心區的主幹道兩邊有好多露天咖啡館，我挑個位子坐下，一邊品著中東式的濃咖啡，一邊看有軌電車從眼前叮叮噹噹地駛過，感覺簡直和歐洲毫無分別。不過，這裡的咖啡館幾乎全是男性工作人員與顧客，看不到女性。」請問該地區最可能位於哪一氣候帶？

(A)熱帶莽原 (B)熱帶雨林 (C)溫帶地中海 (D)高地氣候

14.附圖是 2014 年世界各國人口年齡中位數分布圖。「人口年齡中位數」是將一個國家的總人口分成人數相等的兩部分，其中一半人的年齡比中位數要小，而另一半人的年齡比中位數要大，該數值可描述一國人口年齡的狀態。請問：圖中「人口年齡中位數」未滿 20 歲的國家，主要分布在哪一洲？

(A)亞洲 (B)歐洲 (C)非洲 (D)南美洲



15.非洲許多國家「首都的都市規模很大；除首都外，其他都市數量不多，且規模都很小。」這種都市規模分布型態，和下列哪項因素關係最密切？

(A)部落社會的特質顯著 (B)殖民地式經濟色彩濃厚
(C)人口轉型處晚期擴張階段 (D)都市土地利用分區不顯著

16.「近年來，歐洲難民成為歐盟的重大難題。根據統計，2015 年上半年抵達義大利、希臘、西班牙和馬爾他的移民總數已達 63,000 多人，多數來自北非的利比亞和西亞的敘利亞、伊拉克等國。這些移民為了追求更好的生活，逃離戰火和貧窮，不斷經由陸路或海路進入歐洲。然而，遷徙的過程並非一帆風順，僅 2015 年 4 月地中海即發生 5 宗船難，釀成 1,200 人喪生的慘劇。」請問：這些難民的原居住地，最盛行的宗教信仰為何？

(A)印度教 (B)基督教 (C)東正教 (D)伊斯蘭教

17.非洲歷年饑荒不絕，面臨嚴重的糧食問題，成為國際長年關注的焦點。除了氣候與戰爭因素外，非洲常見饑荒主要尚與下列哪些原因有關？甲、為增加經濟收入不斷開發耕地導致沙漠化。乙、自然增加率高人口增長快速。丙、農村勞

動人口不足情況嚴重。丁、過於單一經濟活動無法面對市場價格波動造成經濟動盪。戊、大量技術移民進入境內謀生。己、有機農業政策推動效果不彰。

(A)甲乙丁 (B)甲丙戊 (C)乙戊己 (D)丙丁己

18.十七世紀初英國斯圖亞特王朝國王詹姆士一世說：「懷疑上帝的能力乃是無神論與褻瀆上帝；同樣地，臣民懷疑君主的能力，亦是無理與極端的藐視。」請問：以上言論與下列哪一位君王所信奉的中心思想一致？

(A)路易十四 (B)拿破崙 (C)凱撒琳二世 (D)路易腓力。

19.某人被稱為「近代哲學之父」且是理性主義的先驅，啟蒙運動時期的理性主義者幾乎都受到他的影響。他認為數學是最理性的一門學科，驗證知識就像驗證數學一樣，需要嚴謹的邏輯證明。請問：這位哲學家是誰？

(A)牛頓 (B)洛克 (C)笛卡兒 (D)培根。

20.某思想家認為：在人類的政治生活中，濫用權力的情況層出不窮，只有讓權力相互制衡的設計，才能避免濫權。請問：下列哪一國家最早實踐了此思想家防止濫權的理念？

(A)英國 (B)法國 (C)美國 (D)德國。

21.16世紀後期，許多歐洲羅馬公教的教士遠赴海外，如利瑪竇到中國、沙勿略到日本。他們除了傳教，也促進文化交流。這群教士前往海外傳教的動機為何？

(A)打擊路德教派、英國國教派及喀爾文教派的海外傳教活動
(B)為聯絡海外的羅馬公教信徒，對抗日益擴張的伊斯蘭教勢力
(C)教宗要擴張海外貿易活動，增加教會財富以繼續與新教對抗
(D)羅馬公教欲擴大海外教區，彌補歐洲宗教改革後信徒的流失。

22.中國古代的思想家老子主張「無為而治」，認為管得最少的政府就是最好的政府。請問：在下列哪一部書籍或文件中可以看到類似的觀念？

(A)《國富論》 (B)《權利法案》 (C)《大憲章》 (D)《社會契約論》。

23.這個國家仿效羅馬帝國擴張的模式，在各個征服地區建立城市，作為行政、軍事和經濟中心：部分征服地區是以既存的城市為基礎，如墨西哥城；多數征服地區則是建立新的城市，城內有著規則的街道網絡，如位於加勒比海的聖雅各騎士城（今多明尼加共和國境內），及中美洲的瓜地馬拉城等。這個國家最可能是下列何者？

(A)十世紀的神聖羅馬帝國 (B)十三世紀的印加帝國 (C)十六世紀的西班牙 (D)十九世紀的英國。

24.某書描述：「各國的作家和思想家在這裡均可受到熱烈招待。這裡出現了一些由豔光四射且博學多才的名媛主持的聚會，作家、學者們可以海闊天空地談論各種問題，參與者常因其口才和機智而聲名大噪。」這種情景最可能出現在何時何地？

(A)古典希臘時代的雅典 (B)文藝復興時期的米蘭 (C)宗教改革時期的倫敦 (D)啟蒙運動時期的巴黎。

25.某位君王在死前回顧他的一生說：「我不想遵循四百年前祖先們所簽下的諾言，做什麼事都得去徵求貴族和聚集在議會裡市民們的意見，這一切絕非我所情願，我想隨我之意的進行統治，但我的人民根本不贊同，有許多嚴厲、虔誠的新教徒，居然就聚集起來反對我……，最後他們獲勝而我即將被處決了。」關於這位君王的敘述，下列何者正確？

(A)這位君王是查理一世
(B)反對國王的新教徒，與其同一個教派的分支為耶穌會
(C)四百年前祖先所簽下的諾言是指「權利法案」
(D)國王被處死後，該國進入恐怖統治時期。

26.有一則故事描述近代歐洲爆發一場戰爭，甲、乙兩國有剪不斷理還亂的封建關係，甲國的士兵大多是步兵，中間夾雜了弓箭手；乙國的士兵大都是騎兵。在一般狀況，甲國都戰勝乙國，但是乙國出現一名女子激勵士氣後，最後乙國勝利了。請問下列何者為這場戰爭的影響？

(A)近代歐洲國際法雛形形成 (B)宗教改革後，帶來宗教戰爭
(C)近代外交制度形成，開始互駐外交官 (D)民族國家的形成。

27.「此國」在中古時代受拜占庭帝國影響，也曾被蒙古人統治，後來因君主提倡西化改革，改組政府和軍隊，對外擴張，取得波羅的海的控制權，再因女皇的統治，厲行富國強兵政策，成為歐洲強國。請問：下列關於此國的敘述何者正確？

(A)此國推動西化時，模仿英國設立國會，國會成為該國最高立法機構
(B)十八世紀時女皇與啟蒙思想家往來密切，而推動民主政治，成為虛位元首
(C)此國於十九世紀初法國皇帝率軍進攻時，起而反抗，終使入侵者黯然退出此國戰場
(D)此國掠奪廣大殖民地，被稱為日不落國。

28. 芭樂同學的歷史報告如下：

※推動封建社會經濟力復甦，加速歐洲社會近代化。

※有一群人從遠方帶回新的知識及經驗，使封閉的社會變得多元。
 ※義大利威尼斯商人藉此取得貿易優勢，使東西方貿易興盛。
 ※歐洲人以穿著東方絲織品為傲。

請問：芭樂同學報告主題應是下列何者？

(A)十字軍東征 (B)地理大發現 (C)宗教改革 (D)工業革命。

29.雕塑家羅丹 (Auguste Rodin, 1840~1917) 參觀博物館，面對一些人物塑像時，曾有感而發說：「瞧！伏爾泰對面的盧梭，目光中含有無限精微的氣息，那是 18 世紀諸人物的共同特性。他們都是懷疑者，他們批評從古代以來認為天經地義的『道理』，他們都有監視的目光。」依你的推論，羅丹所謂的「18 世紀諸人物的共同性格」指的是什麼？

- (A)提倡歸納或實驗的方法，推翻古代以來各種定律及學說
 (B)以理性的方法，思考人類社會的現象，不輕易接受各種教條
 (C)尊崇人文主義，否定各種宗教迷信，尤其是天主教的教規
 (D)傾向自由、平等、民主、憲政和民族主義，反對君主政體。

30.右表是歐洲某時期人口的估算值，造成表中「甲」期間人口數量變化的主要因素應是下列何者？

時間	人口數(人)
1200 年	5,900 萬
1300 年	7,000 萬
1347 年	7,500 萬
1352 年	5,000 萬

- (A)十字軍東征，群眾響應前往作戰
 (B)黑死病流行，大量人口感染死亡
 (C)海外拓殖後，壯年人口紛紛外移
 (D)宗教改革後，戰爭頻繁。

31.西元 1789 年 7 月 14 日，起事的民眾攻入巴士底監獄所在的堡壘，獄中升起了紅白藍三色旗，廢墟裡豎立一塊木牌，上面寫著：「這裡埋葬了巴士底監獄，象徵著『封建罪惡』的巴士底監獄從此在地球上永遠消失了。」下列何者是法國民眾所指的「封建罪惡」中的一種？

- (A)教士、貴族、平民三大階級必須負擔一樣重的稅收
 (B)當時法王路易十四好大喜功，導致國家財庫空虛
 (C)第三階級人數較多，但投票時僅有一票
 (D)國王為解決財政困境，召開國民會議欲徵稅。

32.「……第一個我想提出的是煙草的生產，這個行業也許少為人知。我發覺兒童被僱來一天工作 12 小時，他們的年齡有小到只有 7 歲的，工廠中的氣味非常強烈而難聞。他們被僱來抽取煙草絲；在鄉間，兒童每日工作的時間更長，經常到了晚上 9、10 點鐘。他們受教育的機會差不多等於零，他們也都面帶病容。」上文是某一國家國會議員所提出的報告，此報告提出的時間及地點應為？

- (A)17 世紀初期英國國會 (B)18 世紀後期法國國會 (C)19 世紀初期英國國會 (D)20 世紀中葉美國國會。

33.關於美國獨立運動的敘述，下何有幾項正確？

- (甲)林肯帶領殖民地軍隊與英軍作戰
 (乙)十三州代表於西元 1776 年 7 月 4 日在紐約發表《獨立宣言》，當天也成為日後美國國慶日
 (丙)法國大革命對美國獨立運動有深刻的影響
 (丁)波士頓茶葉事件為美國獨立的導火線之一
 (戊)華盛頓為美國第一任總統。

- (A)1 項 (B)2 項 (C)3 項 (D)4 項。

34.歷史課時，老師安排兩位同學針對某個重要的會議，進行一場正反意見的評論。甲同學：「這場會議是歷史的反動，主宰者違反歷史潮流，不僅忽略了當時的政治思潮，也低估了民族間的衝突與社會階級的矛盾。雖然在守舊勢力的主導下，能鎮壓於一時，但這種違反歷史發展的逆流，終究在 30 年後被逐出歷史舞台。」乙同學：「這個會議取得重大的成就，如對戰敗國的處理手法較為寬容，並且以協調的方式建立起合作的常規架構，不僅維持此後近半世紀的國際和平，也對日後的國際組織有著深遠的影響。此外，廢除奴隸買賣、開放國際河流等協議，皆對戰後的和平重建及社會之進步有著相當大的貢獻。」根據二位同學評論的內容判斷，應該是近代史上的哪一會議？

- (A)大陸會議 (B)維也納會議 (C)國民會議 (D)巴黎和會。

35.Google 三度登上「全美百大最佳職場」的榜首，這主要歸功於 Google 完善的員工福利，除了有免費洗衣、洗車服務外，更有專屬廚師幫員工烹調午、晚餐。上述 Google 的作為主要表現出何種精神？

- (A)展現企業的風險管理 (B)提高企業的投資報酬 (C)凸顯企業的環保精神 (D)落實企業的社會責任。

36.劉基在〈趙人患鼠〉文中寫道：「趙人患鼠，乞貓於中山。中山人予之貓，善捕鼠及雞。月餘，鼠盡而其雞亦盡。」此文透過趙人對養貓與否的利弊分析，說明兩害相權取其輕的道理。請問：這句話所隱含的經濟學概念與下列何句所隱

含的概念相同？

- (A)韓劇風潮帶動南韓觀光、食品、服飾產業的發展
- (B)臺灣的電腦研發產業比不上美國，但高級代工業卻舉世聞名
- (C)我國政府為縮短貧富差距，實現社會正義，針對高所得課徵較高稅額
- (D)北韓政府可以花費數千億的軍費研發核武，而國內基礎建設短缺、民不聊生的情況嚴重。

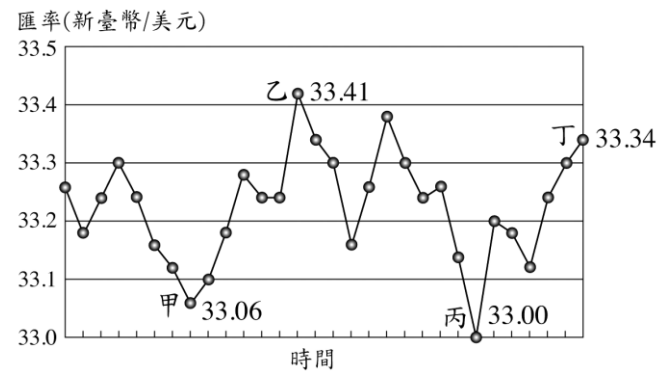
37.熊大和兔兔想一起做包子和饅頭，右表為他們所能做出的數量，若熊大在做包子具有絕對利益，但依比較利益原理他卻負責作饅頭。根據上述內容判斷，下表中的甲、乙最可能為下列何者？

- (A) 甲：4；乙：4
- (B) 甲：6；乙：3
- (C) 甲：6；乙：5
- (D) 甲：5；乙：6

	熊大	兔兔
包子	甲	5
饅頭	5	乙

38.若子欣想利用匯率的變化進行理財來賺取新台幣的匯差。請問：子欣應在何時用新台幣買進美金，然後於何時賣出美金換回新台幣，則可獲利新台幣最多？

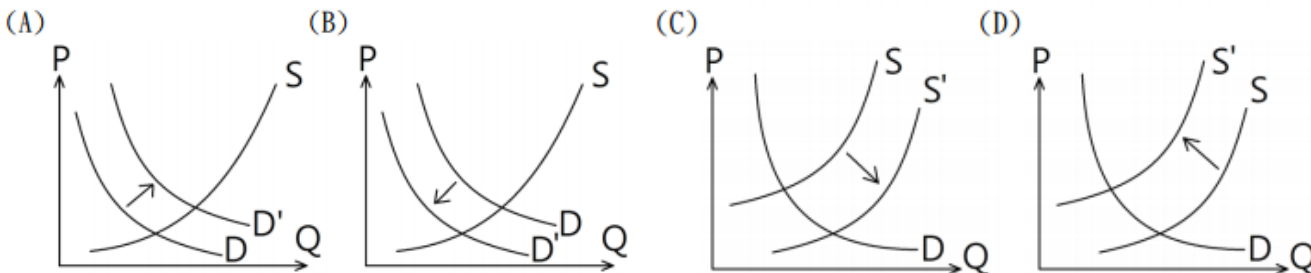
- (A)甲點買進美金，乙點賣出
- (B)乙點買進美金，丙點賣出
- (C)甲點買進美金，丙點賣出
- (D)乙點買進美金，丁點賣出。



39.UUPON 平台在 2018 年推出凡會員持悠遊卡搭乘捷運、公車、自行車、台鐵、高鐵等大眾交通工具，即可積點兌換超商商品，鼓勵搭乘綠運輸抗空污。請問：UUPON 平台的方案主要是想達到下列何種概念？

- (A)計畫經濟
- (B)綠色經濟
- (C)需求法則
- (D)比較利益法則。

40.新聞報導：「今年水果盛產，導致價格崩盤，鳳梨在南部產地收購價剩不到五元，甚至連特選鳳梨，在市場零售價跟往年相比幾乎跌了一半。」請問：上述水果「供需失衡」，主要是指下列何種情況？



41.傑尼與凱西兩人結婚後，對於家事兩人協議分工，下表是兩人完成兩件家事所需的時間表。下列敘述何者正確？

- (A)傑尼在洗碗及拖地上皆具有絕對利益
- (B)凱西在洗碗上機會成本較小
- (C)傑尼在拖地上的機會成本是 1/2 次洗碗
- (D)依據比較利益分工，傑尼要負責洗碗，凱西要負責拖地。

	洗碗	拖地
傑尼	30 分鐘	60 分鐘
凱西	20 分鐘	30 分鐘

42.小祐在報紙上看到某政府官員提出「至社會大眾的一封信」，內容強調匯率是一種價格，且由外匯市場供需決定，如因偶發因素造成新臺幣匯率過度波動，而危及我國金融秩序穩定時，其所任職的機關將會維持匯率市場的秩序。相對於美元，國內企業有不同聲浪，某甲董事長主張新臺幣應再貶值 1 元至 2 元，才有利企業發展；但某乙人士也提出新臺幣應升值的不同看法。依文中敘述判斷，下列何項工作也是屬於該政府官員的職權？

- (A)審核國家的決算
- (B)審查國家預算案
- (C)接受民眾存款及貸款
- (D)發行貨幣。

43.瓔珞和如懿一起被派去編織毛衣和毛帽，依比較利益法則進行分工，如懿被分配去編織毛衣，下表是她們每一天所能製作數量的部分數據，根據內容判斷，下列敘述何者正確？

- (A)如懿在編織毛帽上具有比較利益
- (B)瓔珞在編織毛帽上具有絕對利益
- (C)瓔珞在編織毛帽上的機會成本較小
- (D)如懿在編織毛帽上具有絕對利益。

	瓔珞	如懿
毛衣	4	2
毛帽	*	*

44.李媽媽想買一雙限量球鞋送給兒子當禮物，定價是美金 150 元，請問：這個月匯率是 31：1；而上個月匯率是 30：1，請問：這個月買比起上個月大約多付或少付新台幣多少錢？

(A)多付31元 (B)少付31元 (C)多付150元 (D)少付150元。

45.報載巴西幣值創下新高，今年十月份就上揚了將近 10%，若巴西生產咖啡具比較利益，在其他條件不變的情況下，此種幣值波動對巴西的咖啡產業造成的影響，下列何者正確？

- (A)巴西為咖啡出口國，此種波動有利咖啡出口 (B)巴西為咖啡進口國，此種波動不利咖啡進口
(C)巴西為咖啡進口國，此種波動有利咖啡進口 (D)巴西為咖啡出口國，此種波動不利咖啡出口。

46.「麥當勞叔叔之家慈善基金會」於2007年4月啟用台灣首座的「麥當勞叔叔之家」，為遠地來台北就醫的病童家庭，提供一個「出門在外的家」，透過免費住宿關懷服務，減輕舟車往返的身心壓力，及額外交通住宿的經濟負擔。請問：上文中「麥當勞叔叔之家」是企業在落實哪一項社會責任的表現？

- (A)對消費者提供售後服務 (B)拓展相關企業以增加營收
(C)提供員工安全且健康的工作環境 (D)積極參與公益活動回饋社會。

47.下表是佐佐和佑佑在一天中，做衣服和褲子的「機會成本表」，其中兩個數據因不小心而糊掉了，在不考量其他因素的前提下，依據分工理論，依機會成本表判斷，甲、乙依序應填入下列何者？

- (A)5/4件衣服、3/2條褲子
(B)3/2條褲子、5/4件衣服
(C)5/4條褲子、3/2件衣服
(D)3/2件衣服、5/4條褲子。

	衣服	褲子
佐佐	4/5 條褲子	甲
佑佑	乙	2/3 件衣服

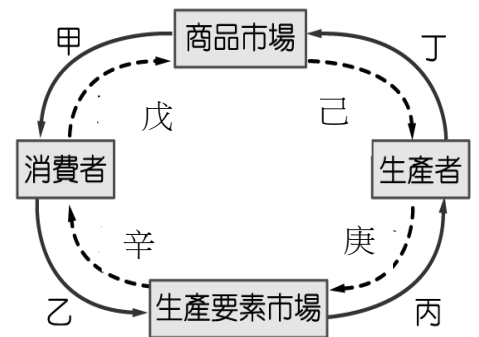
48.承上題，依據上述的資訊判斷，佐佐和佑佑兩人在製作衣服和褲子的絕對利益與比較利益，應為下列何者？

- (A)衣服：佑佑具絕對利益及比較利益 (B)褲子：佐佐具絕對利益，佑佑具比較利益
(C)衣服：佐佐具絕對利益，佑佑具比較利益 (D)褲子：佑佑具絕對利益，佐佐具比較利益

49.右圖為經濟活動循環圖，請回答49~50題

中華電信呼應消費者需求，從現在起，在日本、韓國、泰國、印尼等10國，申辦「1GB輕量型漫遊方案」7天只要168元，滿足出國僅需輕量上網的族群。上述業者的行為屬於經濟活動循環圖的哪一部分？

- (A)甲 (B)乙 (C)丙 (D)丁。



50.承上題，一例一休勞基法修正案，引起企業大力反彈，1111 人力銀行調查，高達 5 成 5 的製造業受到一例一休影響，衝擊最大的仍在於「加班費大增」、「增聘人力成本增加」。請問：上述畫線之部分，可用經濟活動循環圖中的哪一部分來說明？

- (A)戊 (B)己 (C)庚 (D)辛。

解答

- 1-10 CCCBD DCDAC
11-20 ADCCB DAACC
21-30 DACDA DCABB
31-40 CCBBD BBABC
41-50 DDBCD DABDC